

$2 \times 5 =$



$16 : 2 = 8$



$2 \times 4 =$



$6 : 2 = 3$



$7 \times 2 =$



$2 : 2 = 1$



$9 \times 2 = 3$



$12 : 2 = 6$



$2 \times 8 =$



$4 : 2 = 2$



[Увеличить](#)

$$3 * 4 = \text{flower}$$

$$\text{flower} : 2 = 3$$

$$\text{flower} * 3 = 24$$

$$21 : \text{flower} = 7$$

$$3 * 5 = \text{flower}$$

$$\text{flower} : 10 = 3$$

$$\text{flower} * 3 = 9$$

3

$$12 : \text{flower} = 4$$

$$9 * 3 = \text{flower}$$

3

$$\text{flower} : 1 = 3$$

$4 * 6 =$



$4 : 4 = 1$

$2 * 4 =$



$20 : 4 = 5$



$4 * 9 =$



$32 : 8 =$



4



$* 4 = 12$

$* 4 = 28$

$- 4$

$16 : 4 = 4$



1.13 увеличить на 5.

2.18 уменьшить на 6.

3. Какое число надо увеличить на 9, чтобы получить 16?

4. Найдите сумму чисел 9 и 7.

5. Найдите разность 13 и 8.

6. Запишите число, которое меньше 15 на 7.

7. От какого числа надо отнять 5, чтобы получить 14.

8. Петя решил 17 примеров, а Ваня на 5 примеров меньше. Сколько примеров решил Ваня?

9. Напишите самое маленькое однозначное число.

**Поставь знаки =, < или > так, чтобы
получились верные высказывания:**

$$(3 \cdot 6 - 8) : 2 \dots 3 \cdot 6 - 8 : 2$$



$$20 + 17 + 3 \dots 20 + (17 + 3)$$

$$16 : 4 \cdot 2 \dots 16 : (4 \cdot 2)$$


$$21 : 3 * 6 - (18 + 14) : 8 =$$




$$63 : (81 : 9) + (8 * 7 - 2) : 6 =$$

**Для приготовления обеда повару
понадобилось 24 кг картошки,
свеклы в 3 раза меньше, а лука в 2
раза меньше чем свеклы.
Сколько всего килограмм овощей
потратил повар?**



**Оля вырезала из бумаги 5
квадратов, 7 треугольников,
а кругов в 2 раза больше чем
треугольников.**

Сколько всего Оля вырезала фигур?





**карточк
и**