


**Урок математики в 1 классе
«Сложение и вычитание длин
отрезков»**

«Знаешь – говори, не знаешь –
слушай».







3

$$AB = AB + BV$$




$$AB = AB + BB$$

целое

часть

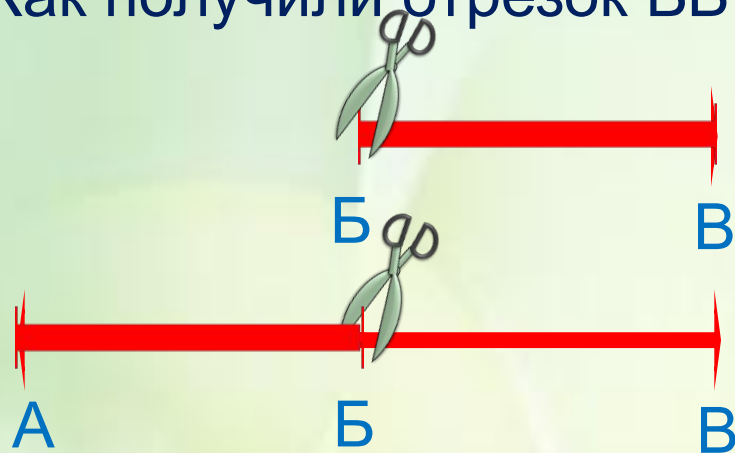
часть

? Как получили отрезок БВ? Отрезок АВ?



$$AB - AB = BV$$

? Как получили отрезок БВ? Отрезок АБ?



$$AB - AB = BV$$

$$AB - BV = AB$$