

# Урок математики в 1 классе

## *"Сложение и вычитание в пределах 10"*

Работа учителя  
МОУ "Обманковская ООШ"  
Комаровой С.В.

Я по коробу скребён,  
По сусеку метён,  
На сметане мешён,  
На окошке стужён.



# Вспоминай - ка!

10	
6	4
3	7
8	2
1	9

9	
3	6
7	2
4	5
1	8

8	
1	7
5	3
4	4
6	2

7	
2	5
6	1
4	3
2	5

# Посчитай-ка!

$$8 + 2 = 10$$

$$5 + 4 = 9$$

$$9 - 3 = 6$$

$$3 + 2 = 5$$

$$10 - 3 = 7$$

$$6 + 2 = 8$$

$$10 - 9 = 1$$

$$8 - 4 = 4$$

$$6 - 3 = 3$$

$$7 - 5 = 2$$

Запишите все числа  
в тетрадь по порядку.



1 2 3 4 5 6 7 8 9 10

C

2

3

4

5

6

7

8

9

10

C

M

3

4

5

6

7

8

9

10



C

ME

4

5

6

7

8

9

10

C

M

E

W

5

6

7

8

9

10

C M E Ш A 6 7 8 9 10

C M E Ш Щ А Р 7 8 9 10

СМЕШШАРИ 8 9 10

С М Е Ш Ш А Р В И К 9 10

СМЕШШАРПИКИ 10

СМЕШШАРПИКИ!







собрал 3 гриба,



собрал на 2 гриба  
больше.

Сколько.....?

$$3 + 2 = 5 \text{ (г.)}$$

*Ответ: 5 грибов.*



собрал 3 гриба,



собрал 5 грибов.

Сколько.....?

$$3 + 5 = 8 \text{ (з.)}$$

*Ответ: 8 грибов.*

МОЛОДЦЫ



# Решите примеры из учебника с.37

## УПРАЖНЕНИЯ ДЛЯ ЗАКРЕПЛЕНИЯ.

1. Составь по 2 примера на сложение и вычитание, используя числа:

**10, 2, 8**   **9, 3, 6**   **10, 7, 3**

2. Составь 4 верных равенства и 4 верных неравенства, используя числа:


**7, 3, 4, 8, 9, 5, 2**

3. Уменьши на 2:

10	8	6	4	2
----	---	---	---	---

Увеличь на 3:

0	3	7	6	5
---	---	---	---	---


4.   $10 * 8 + 1$     $6 + 2 * 6$     $10 * 0$   
 $10 * 9 + 1$     $7 - 2 * 7$     $0 * 6 - 6$

5. Запиши в каждом столбике ещё по одному примеру и выполни вычисления.

9 - 4	10 - 7	2 + 5	6 + 4
9 - 5	10 - 8	2 + 6	7 + 3
9 - 6	10 - 9	2 + 7	8 + 2
...	...	...	...

6. У Алёшиной собаки родились 7 щенков. Для 5 щенков он уже нашёл хороших хозяев. Сколько ещё щенков осталось?

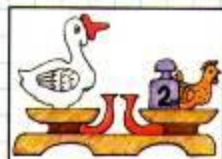

7. Почтальон должен разнести 8 телеграмм. Он уже разнёс 6 телеграмм. Сколько телеграмм ему ещё надо разнести?

 По рисункам узнай массу гуся и массу курицы.

РЕШИ  
ПРИМЕРЫ.  
РАЗБЕЙ  
НА 2 ГРУППЫ.

9 - 5  
5 + 4  
2 + 8  
10 - 2  
4 + 5  
8 + 2  
9 - 4  
10 - 8

ЗАДАЧА  
НА СМЕКАЛКУ



# Проверьте!

$$9 - 5 = 4$$

$$5 + 4 = 9$$

$$10 - 2 = 8$$

$$2 + 8 = 10$$

$$9 - 4 = 5$$

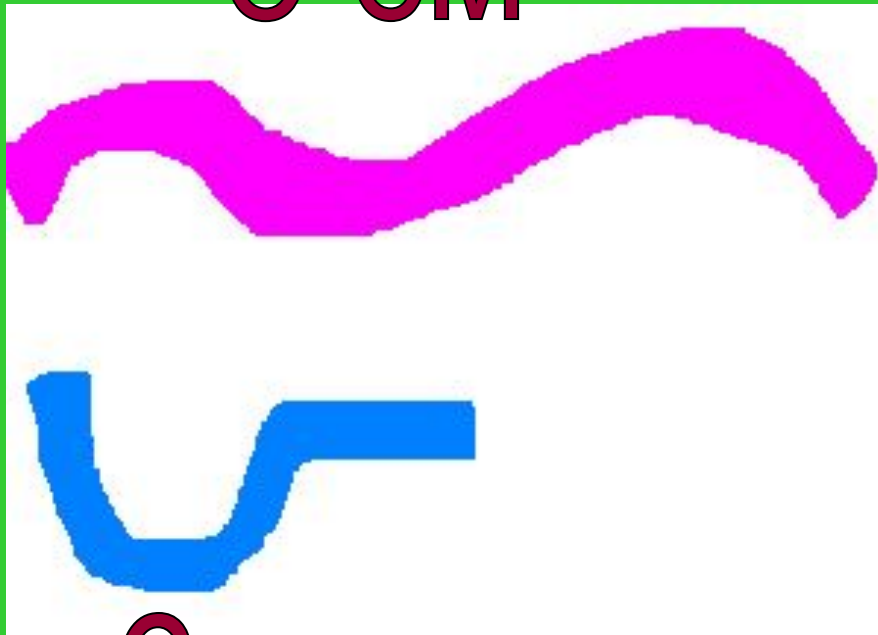
$$4 + 5 = 9$$

$$10 - 8 = 2$$

$$8 + 2 = 10$$



8 см



6 см



Какая лента короче  
и на сколько сантиметров?



$$8 - 6 = 2 \text{ (см)}$$

Ответ: на 2 см короче.

# Закончи предложения

Сегодня на уроке я...

На уроке мне было...

Самым трудным было...

