

ВВЕРХ ПО ЛЕСЕНКЕ

МАТЕМАТИЧЕСКАЯ ИГРА

Учитель начальных классов Болховитина Л.И.
СОУ «Средняя общеобразовательная школа №38
г. Рязань



70

30

30

20

20

20


10

10

10


10

Из 9 квадратов составили фигуру. Покажи, как разрезать её на 3 равные части.

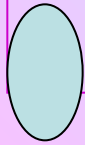


гамма (гимн) диван

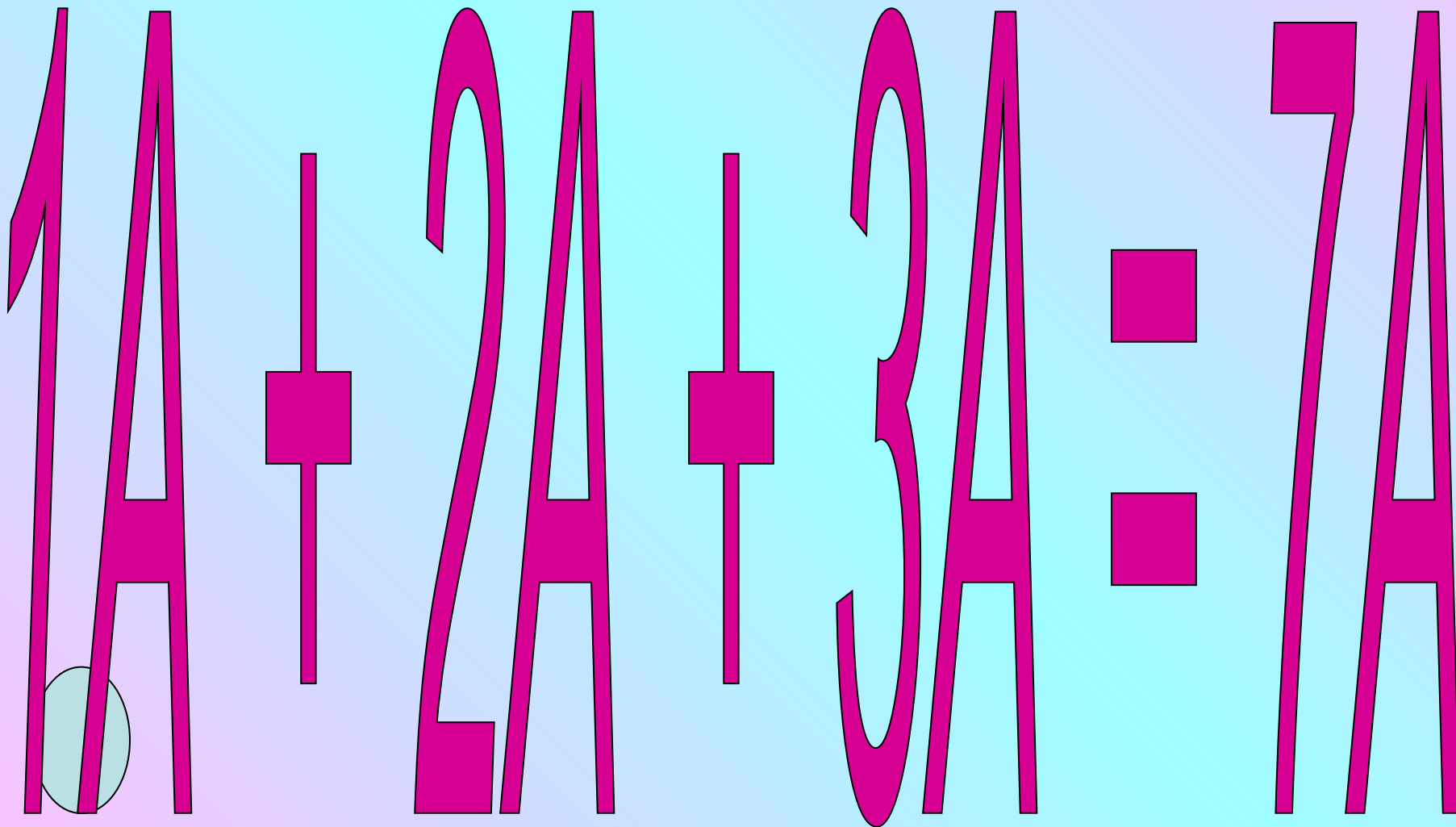
перец (...) клоун



3333




Расшифруй пример на сложение трёх двузначных чисел.



Вася впятеро ниже Юры,

а их общий рост = 3м.

Найти рост Юры.



Попрыгунья Стрекоза половину времени каждых суток красного лета спала, третью часть времени каждых суток танцевала, шестую часть – пела. Сколько ч в сутки стрекоза готовилась к зиме?

половина суток - сон

треть суток - танцы

шестая часть суток - пение

Подготовка к зиме - ?ч

Какое число означает каждая буква, если известно, что:

$$T + O + Y + K + A = 350$$

$$T = O \cdot 70 \quad K = A \times 3 \quad O = A + K \quad A = 280 \cdot 7$$

Из металлической заготовки вытачивают деталь. Стружки. Которые получились при вытачивании 8 деталей, можно переплавить в 1 заготовку. Сколько деталей можно сделать из 64 заготовок?

Заготовка - деталь.

Стружки от 8 деталей -

● 1 заготовка.

64 заготовки - ? деталей

С хозяйством попа справятся 10 работников. Каждый работник в день съедает каравай хлеба. Поп взял на работу Балду. Живёт Балда в поповском доме, спит на соломе, ест за 4, работает за 6. Поп прогнал лишних работников. Сколько караваев хлеба экономит поп ежедневно?

10 раб. - по 1 караваю

Балда ест за 4,

работает за 6.

Какова экономия?