





# Сосчитай - прочитаешь

- ▣ 6+6      7+9      12-4      16-7
- ▣ 10,11,12      5,17, 16      8, 20, 16      23, 9,8
- ▣ м, а, г      е, ю ,р      и, д, ь,      ц, б, с

# Сосчитай - прочитаешь

▣ 6+6                  7+9                  12-4                  16-7

▣ 12    5,17,16    8,20,16    23,9,8

▣ Г    е, ю, р                  и, д, ъ,                  ц, б, с

# Сосчитай - прочитаешь

- ▣  $6+6$        $7+9$        $12-4$        $16-7$
- ▣ 12      16      8, 20, 16      23, 9, 8
- ▣ Г      р      и, д, ъ,      ц, б, с

# Сосчитай - прочитаешь

- ▣  $6+6$        $7+9$        $12-4$        $16-7$
- ▣ 12      16      8      23, 9, 8
- ▣ Г      р      и      ц, б, с

# Сосчитай - прочитаешь

□  $6+6$        $7+9$        $12-4$        $16-7$

□ 12      16      8      9

□ Г      р      и      б





# На полянке 3 поганки



# 8 белых у дубов



# На опушке 3 волнушки



14

**В автобусе ехало 15 пассажиров.  
На остановке вышло 9 человек, а  
вошло 7. Сколько пассажиров  
стало в автобусе?**



# Выбери правильное решение

- $15-7+9$

- $7+9-15$

- $15-9+7$

**МОЛОДЕЦ !!!**


$$15 - 9 + 7 = 13$$

# Задача-шутка



- Один петух разбудил двух человек, спящих на сеновале. Сколько нужно петухов, чтобы разбудить 10 человек?











# Задача.

Ученики «лесной школы» Белка, Ёж, Лиса и Заяц начертили такие фигуры, по одной фигуре каждый.



Ёж не стал чертить многоугольник, Заяц не выбрал треугольник, а Лиса начертила такой четырехугольник, у которого есть и своё название.


Какую фигуру начертила Белочка?




# Кто решил правильно ?



Больше  
у  
девочек.



Больше у  
мальчиков.



У них  
поровну




5

4

7

9

# Самый умный



ПРИХОДИТЕ В ЛЕС



- ▣ Будем рады вам