


«Моя математика» 1 класс

Урок 38

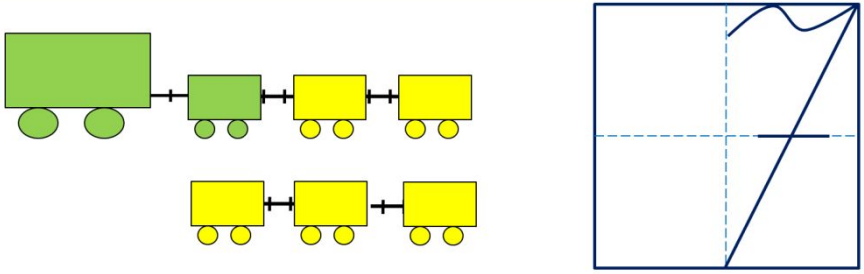
Тема урока: «Число семь. Цифра 7»



семь $1 + 6 = 7$

семь $2 + 5 = 7$

семь $3 + 4 = 7$



*Автор презентации
Татузова Анна Васильевна
<http://avtaturzova.ru>
учитель школы № 1702
г. Москвы*

Советы учителю.

Презентация к уроку составлена на основе заданий, расположенных в учебнике. Рекомендую открыть учебник на странице с данным уроком, прочитать задания и посмотреть их в данной презентации в режиме демонстрации.

Внимание!

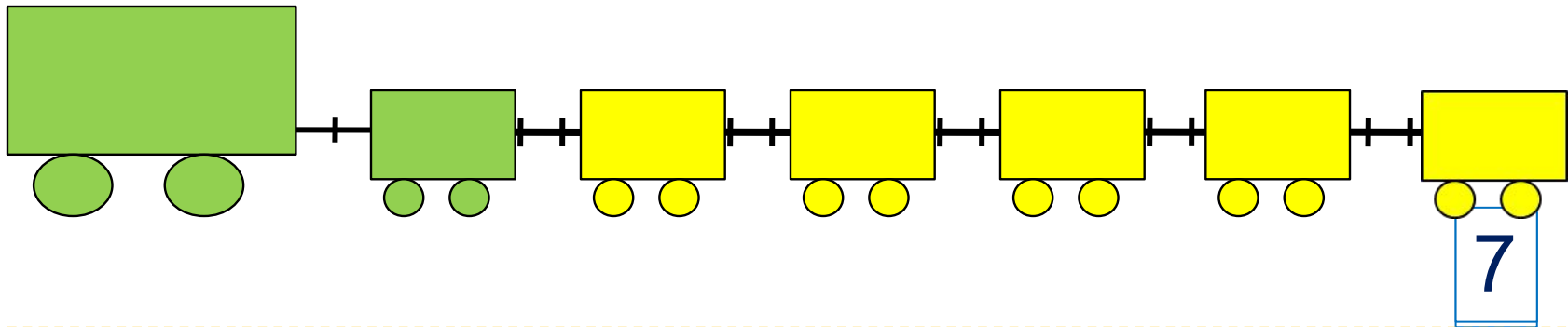
Некоторые задания можно выполнять интерактивно. Например, продолжить ряд, сравнить или вставить пропущенные числа. Для этого презентацию надо перевести в режим редактирования.

Урок 38. Число семь. Цифра 7

1. Помоги Пете ответить на вопросы.

Сколько вагонов было?

Сколько стало?

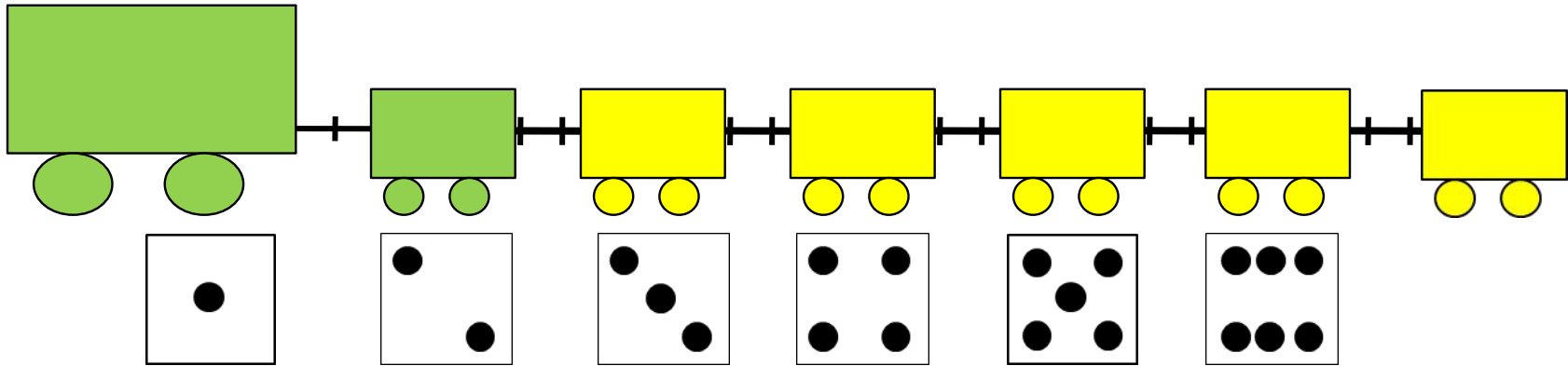


Составьте выражение к рисунку: $6 + \square =$

- 1 2 3 4 5 6 7

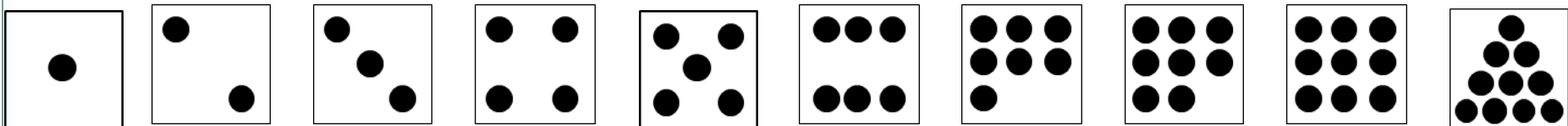
Урок 38. Число семь. Цифра 7

2. Сколько точек надо нарисовать Пете на последней карточке?
? Сколько всего вагонов? Какой по счёту последний?




Внимание!

Данное задание можно выполнять интерактивно. Во время демонстрации навести курсор на «лишнюю» фигуру до появления ладошки. **Кликнуть!**





Урок 38. Число семь. Цифра 7

3. Назови число предметов на каждой карточке.




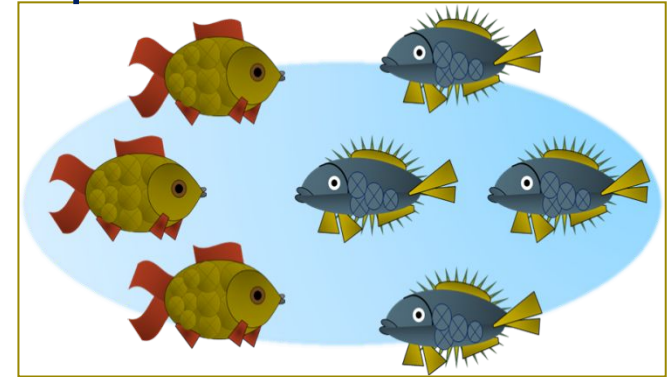
семь

$$1 + 6 = 7$$



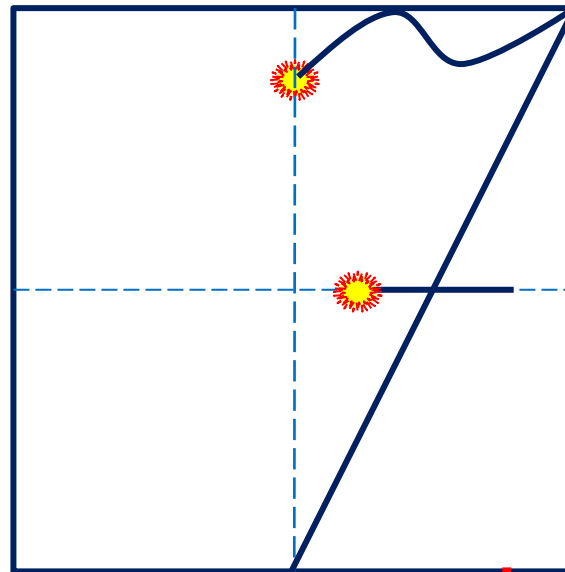
семь

$$2 + 5 = 7$$



семь

$$3 + 4 = 7$$



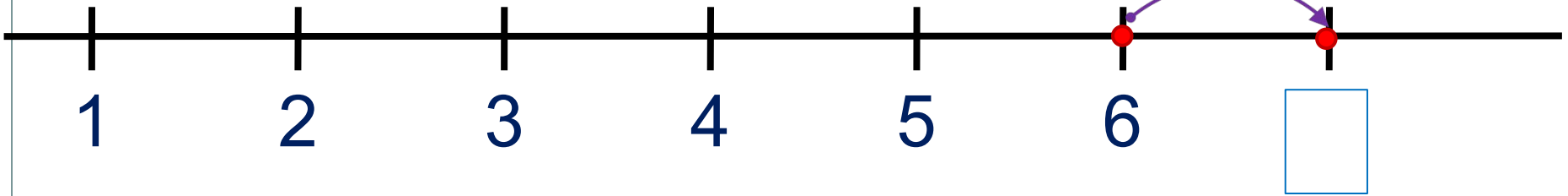
! Число семь записывают знаком - **цифрой 7.**

Урок 38. Число семь. Цифра 7

5. Какие равенства можно записать к рисункам?

Вправо - плюс

+1



Внимание!

Данное задание можно
выполнить интерактивно.
Для этого презентацию надо
перевести в режим
редактирования.

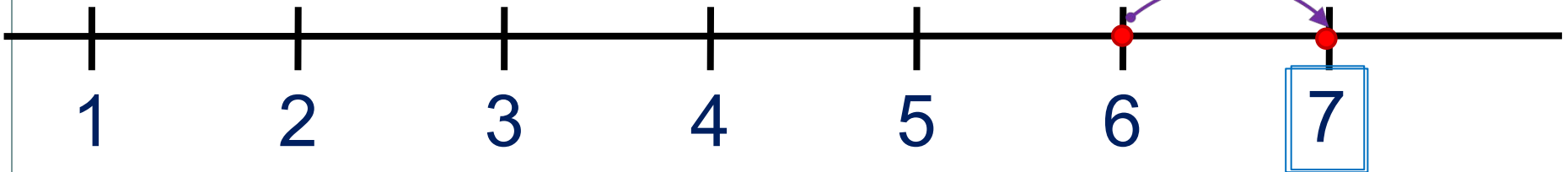
1 2 3 4 5 6 7 + - =

Урок 38. Число семь. Цифра 7

5. Какие равенства можно записать к рисункам?

Вправо - плюс

+1



ПРОВЕРЬ!

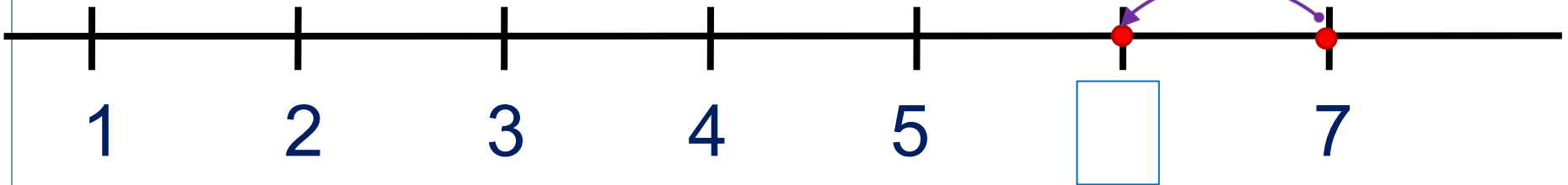
1	2	3	4	5	6	7	+	-	=
---	---	---	---	---	---	---	---	---	---

Урок 38. Число семь. Цифра 7

5. Какие равенства можно записать к рисункам?

Влево - минус

-1



Внимание!

Данное задание можно
выполнить интерактивно.
Для этого презентацию надо
перевести в режим
редактирования.

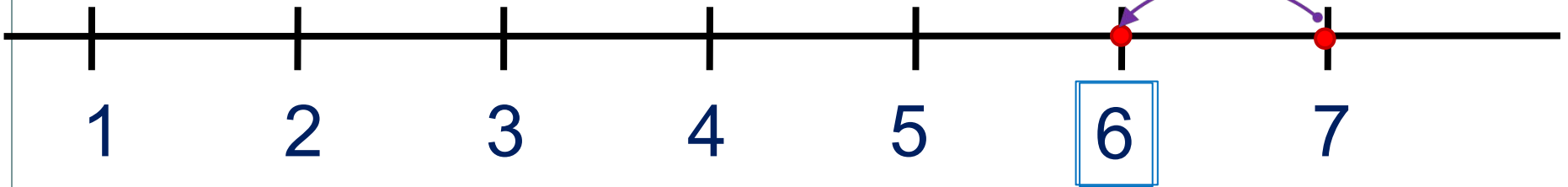
1 2 3 4 5 6 7 + - =

Урок 38. Число семь. Цифра 7

5. Какие равенства можно записать к рисункам?

Влево - минус

-1

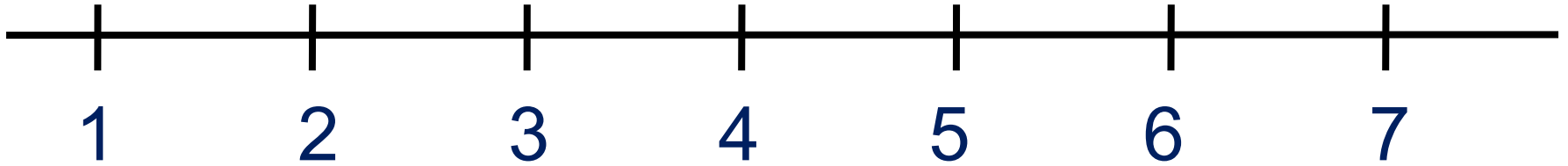


ПРОВЕРЬ!

1	2	3	4	5	6	7	+	-	=
---	---	---	---	---	---	---	---	---	---

Урок 38. Число семь. Цифра 7

6. Прочитай неравенства, которые составил Вова.
Помоги ему исправить ошибки.



$1 < 7$

$2 < 7$

$7 > 3$

$7 < 6$

$7 > 5$



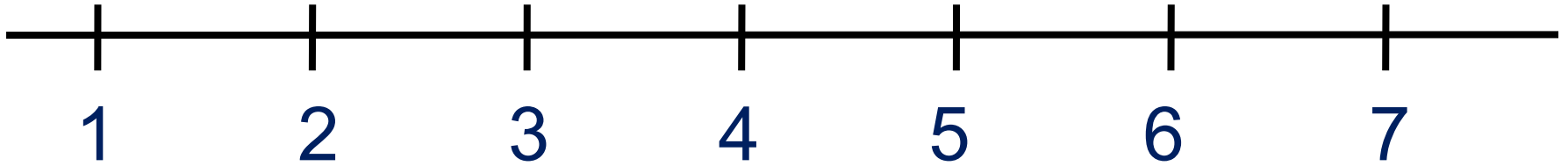
Внимание!

Данное задание можно выполнить интерактивно.

Для этого презентацию надо перевести в режим редактирования.

Урок 38. Число семь. Цифра 7

6. Прочитай неравенства, которые составил Вова.
Помоги ему исправить ошибки.



$1 < 7$

$2 < 7$

$7 > 3$

$7 < 6$

$7 > 5$



ПРОВЕРЬ!

Урок 38. Число семь. Цифра 7

7. Помоги ребятам записать к их рисункам числовые равенства.

7



$$\boxed{1} + \boxed{} = \boxed{}$$

$$\boxed{} + \boxed{} = \boxed{}$$

$$\boxed{} - \boxed{} = \boxed{}$$

$$\boxed{} - \boxed{} = \boxed{}$$

7



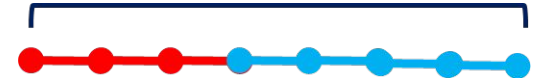
$$\boxed{} + \boxed{} = \boxed{}$$

$$\boxed{} + \boxed{} = \boxed{}$$

$$\boxed{} - \boxed{} = \boxed{}$$

$$\boxed{} - \boxed{} = \boxed{}$$

7



$$\boxed{} + \boxed{} = \boxed{}$$

$$\boxed{} + \boxed{} = \boxed{}$$

$$\boxed{} - \boxed{} = \boxed{}$$

$$\boxed{} - \boxed{} = \boxed{}$$

1

2

3

4

5

6

7

Внимание!

Данное задание можно выполнить интерактивно. Для этого презентацию надо перевести в режим редактирования.

Урок 38. Число семь. Цифра 7

7. Помоги ребятам записать к их рисункам числовые равенства.

7



$$1 + 6 = 7$$

$$6 + 1 = 7$$

$$7 - 1 = 6$$

$$7 - 6 = 1$$

7



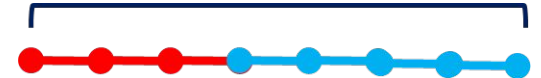
$$2 + 5 = 7$$

$$5 + 2 = 7$$

$$7 - 2 = 5$$

$$7 - 5 = 2$$

7



$$3 + 4 = 7$$

$$4 + 3 = 7$$

$$7 - 3 = 4$$

$$7 - 4 = 3$$

ПРОВЕРЬ!

Урок 38. Число семь. Цифра 7

7. Помоги ребятам записать к их рисункам числовые равенства.

7



$$1 + 6 = 7$$

$$6 + 1 = 7$$

$$7 - 1 = 6$$

$$7 - 6 = 1$$

7



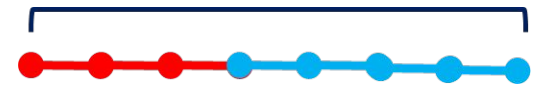
$$2 + 5 = 7$$

$$5 + 2 = 7$$

$$7 - 2 = 5$$

$$7 - 5 = 2$$

7



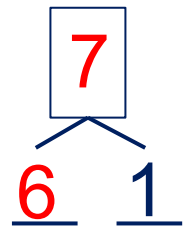
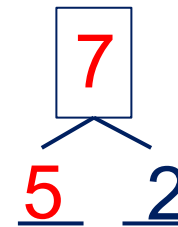
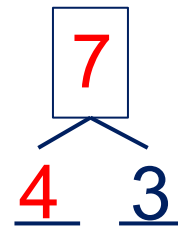
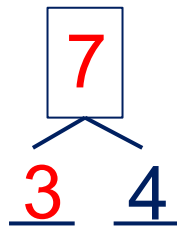
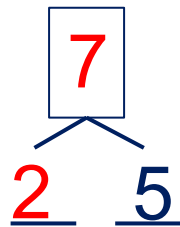
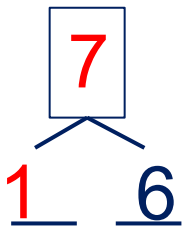
$$3 + 4 = 7$$

$$4 + 3 = 7$$

$$7 - 3 = 4$$

$$7 - 4 = 3$$

• Расскажи о числе семь:



8. Преврати записи Кати в верные равенства.

$5 + \square = 7$

$\square + 4 = 7$

$5 + \square = 7$

$7 - 1 = \square$

$7 - \square = 2$

$\square - 4 = 3$

1 2 3 4 5 6 7

Внимание!

Данное задание можно выполнить интерактивно.

Для этого презентацию надо перевести в режим редактирования.

Урок 38. Число семь. Цифра 7

8. Преврати записи Кати в верные равенства.

$5 + \square = 7$

$\square + 4 = 7$

$5 + \square = 7$

$7 - 1 = \square$

$7 - \square = 2$

$\square - 4 = 3$

1 2 3 4 5 6 7

ПРОВЕРЬ!

Спасибо!