

ПОВТОРЕНИЕ тренировочные задания 11 класс

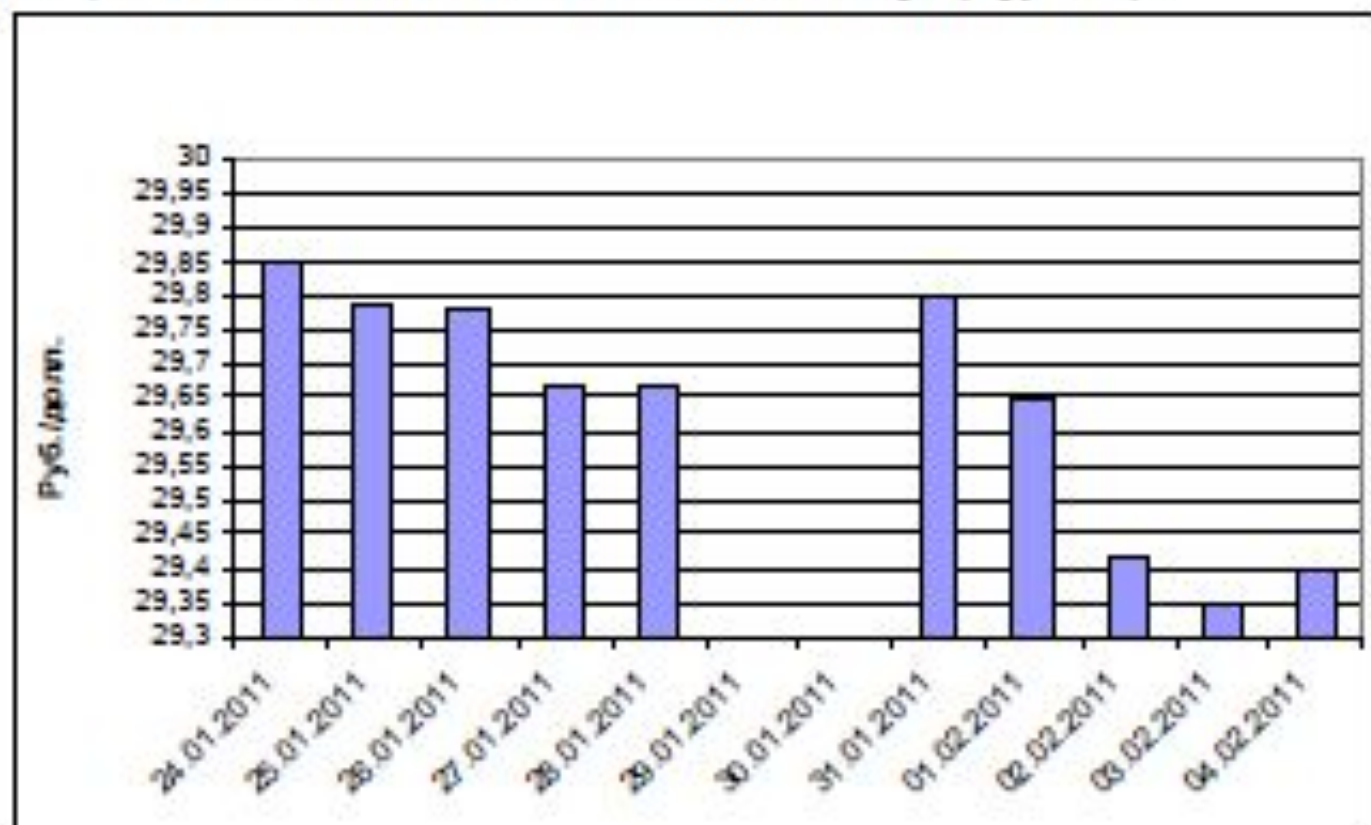
Тренировочные задания В2 (графическое представление данных)

подготовила учитель математики МБОУ СОШ № 43 Ст. Северская Краснодарский край Шкредина Ирина Александровна

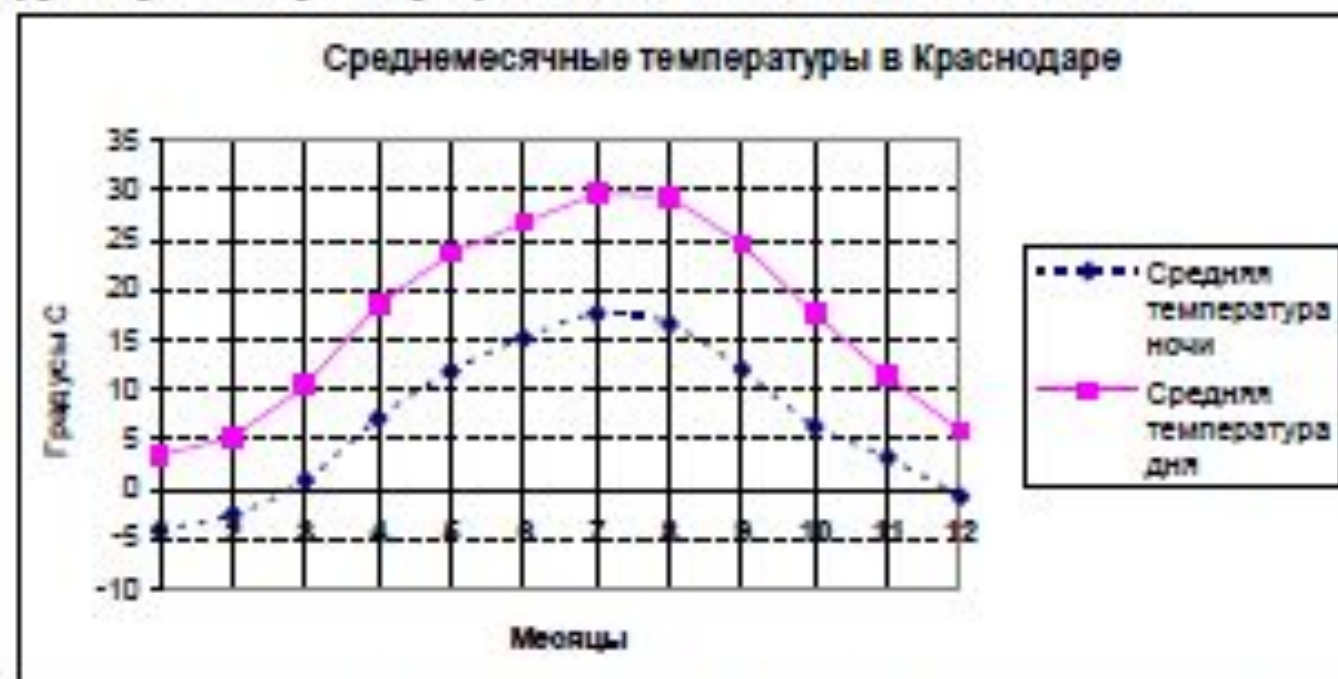
**В2.** На диаграмме показана динамика курса доллара в течение двух недель торгов на валютной бирже (в субботу и воскресенье торги не проводятся). Определите по диаграмме, сколько раз в течение торговых дней курс опускался ниже 29,7 руб./дол.?



**В2.** На диаграмме показана динамика курса доллара в течение двух недель торгов на валютной бирже (в субботу и воскресенье торги не проводятся). Определите по диаграмме, какой была наибольшая стоимость доллара (в рублях).



**В2.** На рисунке изображены графики среднемесячных дневных и ночных температур в Краснодаре по результатам многолетних наблюдений.



Сколько месяцев в году и среднемесячная дневная температура и среднемесячная ночная температура превышает 10 градусов?

**В2.** На диаграмме приведены данные о среднемесечном уровне осадков в Краснодаре по многолетним наблюдениям. Определите по диаграмме разницу (в мм) между наибольшим и наименьшим среднемесечным количеством осадков в году.



**В2.** На рисунке изображен график стоимости пая в Плевом инвестиционном фонде «МИФ» за период с августа 2010 года по февраль 2011 г. Сколько месяцев, начиная с октября 2010 г., стоимость пая снижалась в сравнении с предыдущим месяцем?

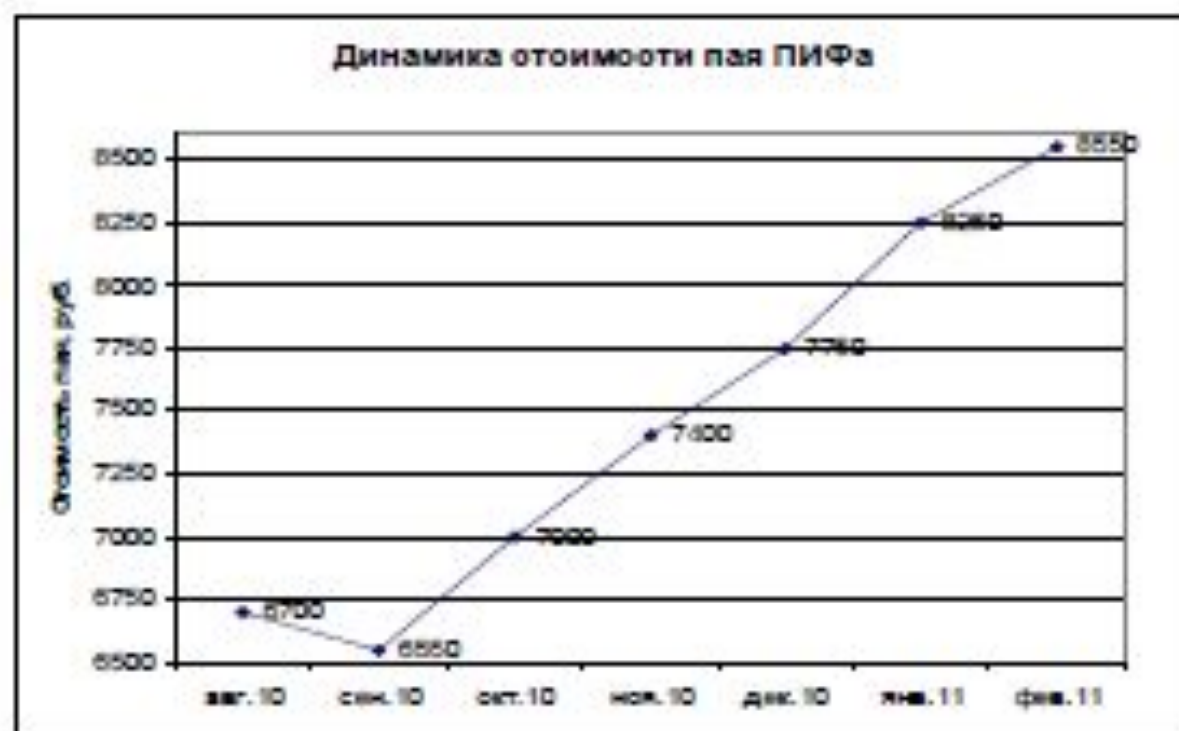


**В2.** На рисунке изображены графики среднемесячных дневных и ночных температур в Краснодаре по результатам многолетних наблюдений.



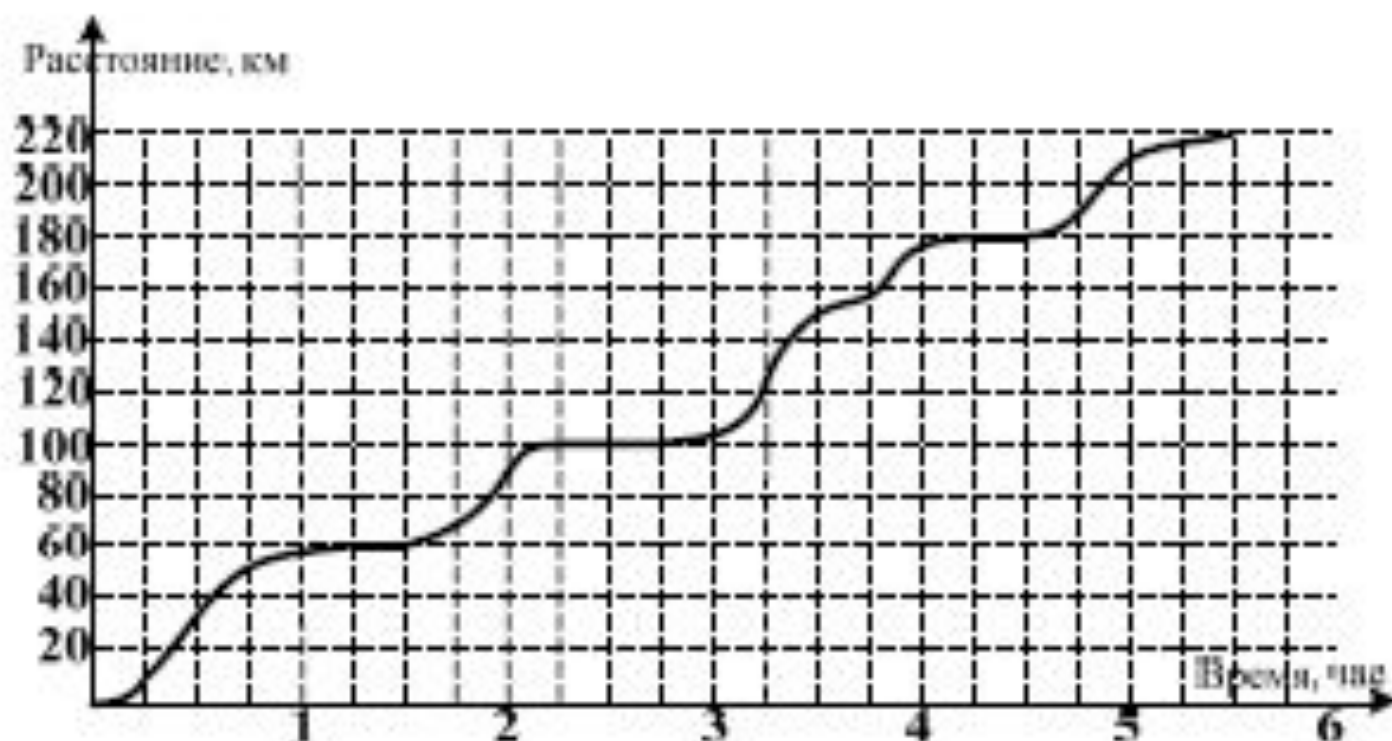
Сколько месяцев в году среднемесячная дневная температура и среднемесячная ночная температура имеют противоположные знаки?

В2. На рисунке изображен график изменения стоимости пая в Паевом инвестиционном фонде «Добрыня Нивитич» за период с августа 2010 года по февраль 2011 г. Чему равен наибольший рост стоимости пая (в рублях) в соседние месяцы, начиная с сентября 2010 года.

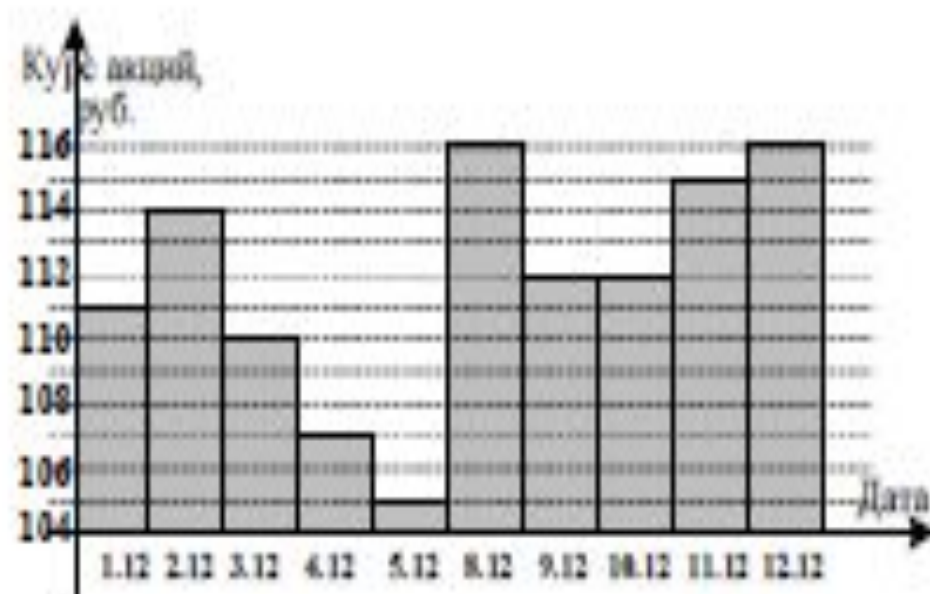




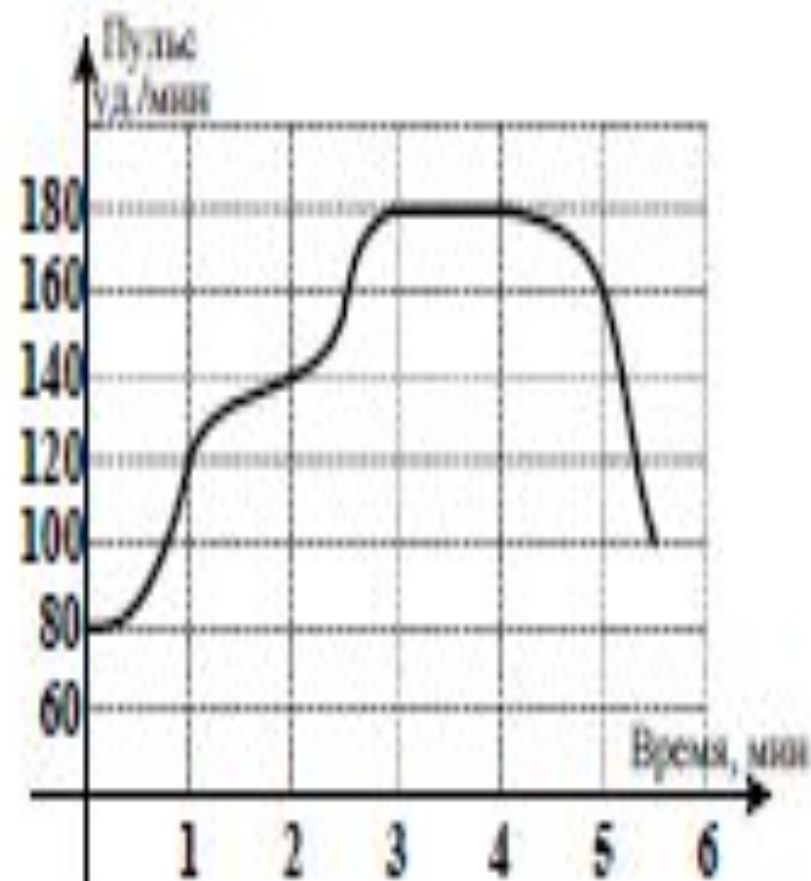
**В2.** На рисунке показано изменение расстояния при движении рейсового автобуса от автостанции в зависимости от времени. Сколько остановок сделал автобус на маршруте?



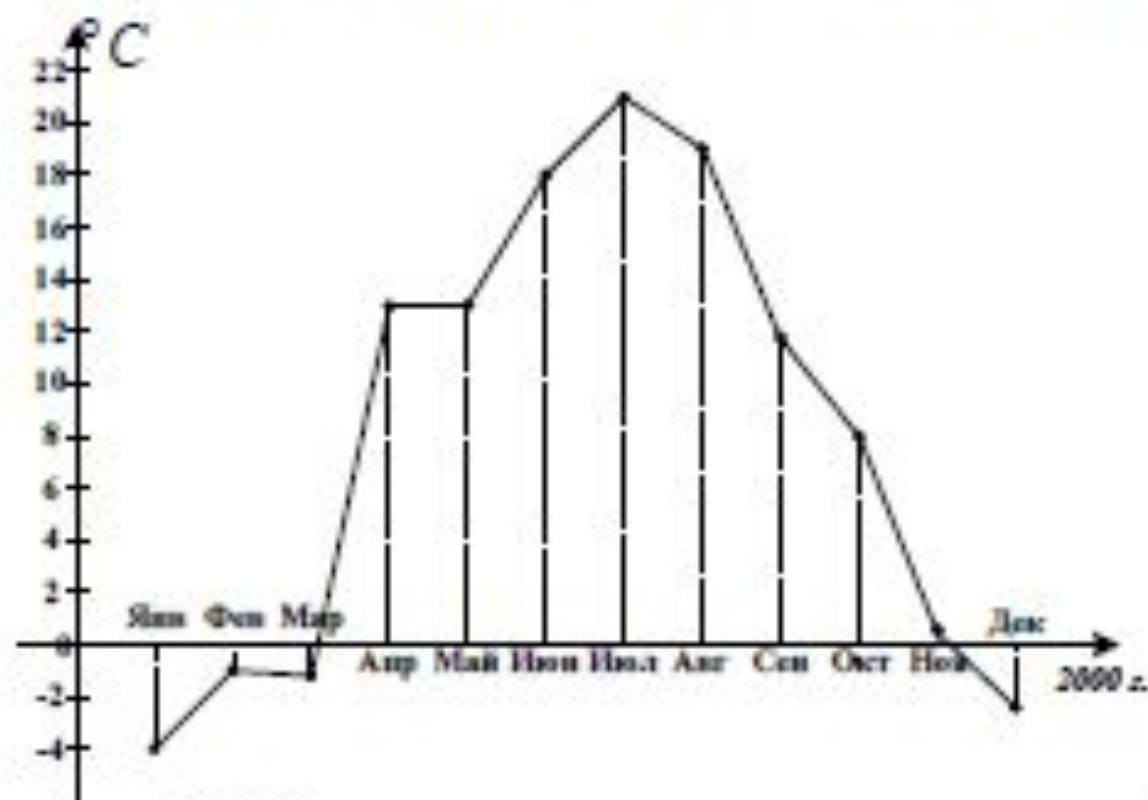
**В2.** На рисунке показана котировка акций Газпрома за период с 1.12.2008 по 12.12.2008 года (в выходные дни торги по акциям не проводятся). Сколько дней курс акций был выше 112 рублей?



**В2.** На рисунке показано изменение частоты пульса спортсмена во время его 5-минутного выступления. Сколько минут в ходе выступления пульс был выше 120 уд./мин?

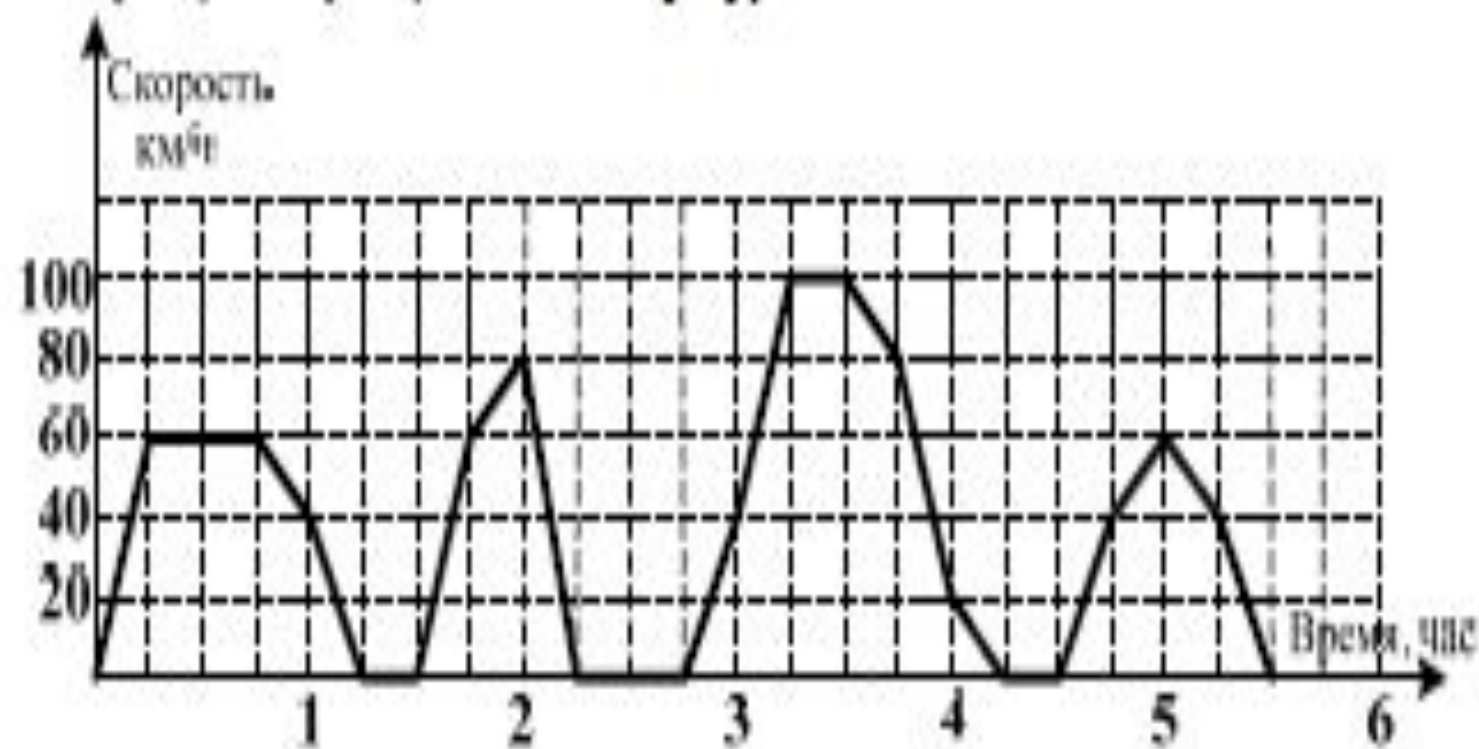


**B2.** На графике приведены среднемесячные температуры воздуха в городе N в течение 2000 года. Для наглядности жирные точки соединены линиями.

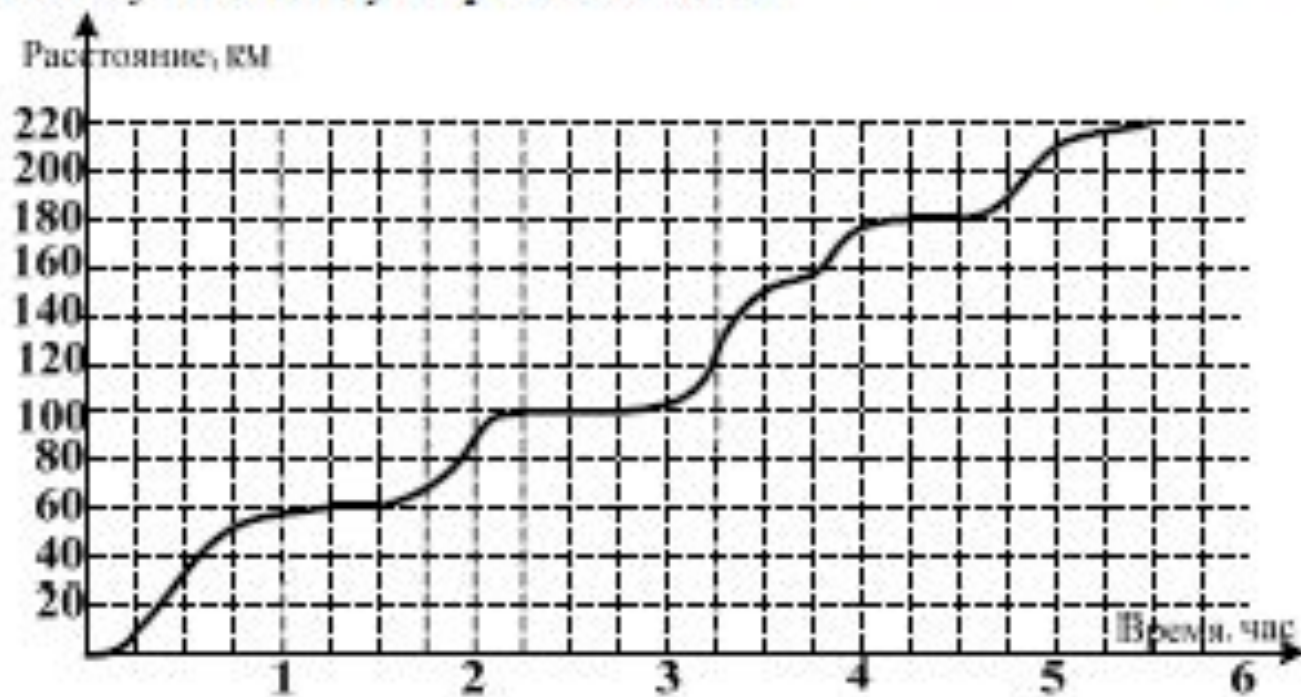


Сколько месяцев в 2000 году среднемесячная температура была ниже 5 градусов?

**В2.** На рисунке показано изменение скорости движения рейсового автобуса на маршруте Краснодар – Ростов. Какова суммарная длительность остановок автобуса (в минутах) на этом маршруте?



**В2.** На рисунке показано изменение расстояния при движении рейсового автобуса от автостанции в зависимости от времени. Сколько километров прошел автобус к моменту второй остановки?



**В1.** На рисунке показано изменение скорости движения рейсового автобуса на маршруте Краснодар – Ростов. Сколько остановок было сделано автобусом до прибытия в конечный пункт следования?

