

Доли и дроби. Хлеб блокадного Ленинграда.



Мурзабаева Ф.М.,
учитель математики
МОБУ СОШ №3 г. Баймака Республики
Башкортостан

Устно

$\frac{1}{3}$ от 54 дней

$\frac{1}{4}$ от 248 дней

$\frac{1}{2}$ от 1800 дней

Пайки блокадного Ленинграда

$\frac{1}{4}$ кг



= 25g

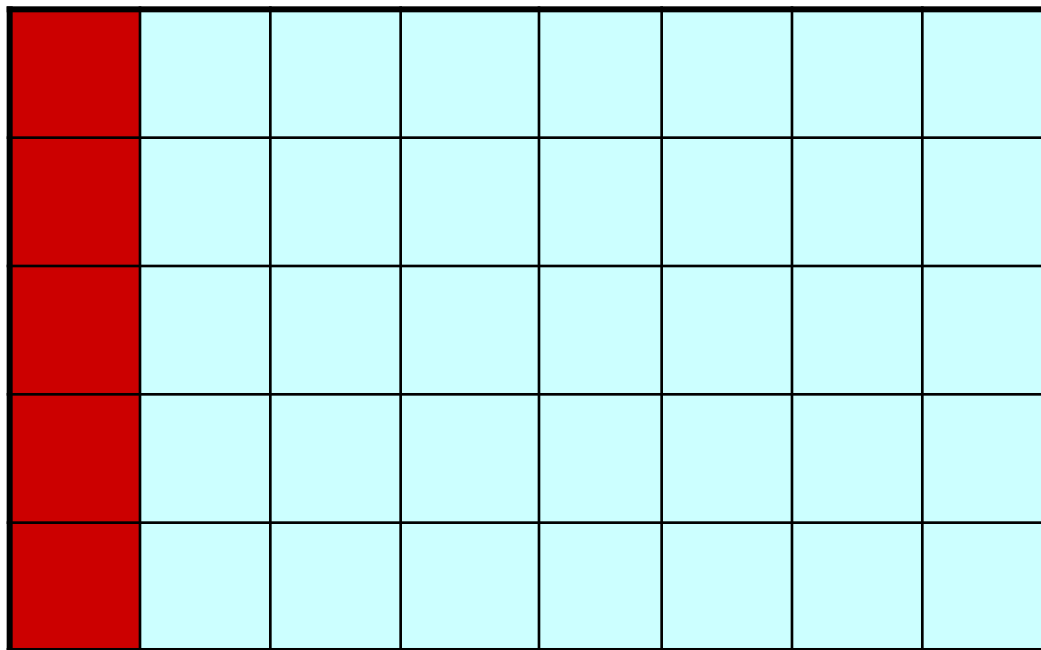
$\frac{1}{8}$ кг

= 40g

30 лет хранился кусок блокадного хлеба в семье Карпушиных.



Начертите прямоугольник со сторонами 5 и 8 клеток тетради и закрасьте $\frac{1}{8}$ часть. Это доля хлеба ленинградского ребенка.



900 дней...


Сколько это месяцев и дней?



641 803 ленинградца умерли во время блокады от голода



Пискаревское кладбище



- Героизм школьников Ленинграда в том, что они, несмотря на голод, лютые холода посещали школу. Решите уравнение, и вы узнаете, сколько школ работали в городе. Для этого решите уравнение:
 - $2x+x-25=92$.

Ответ: 39 школ.

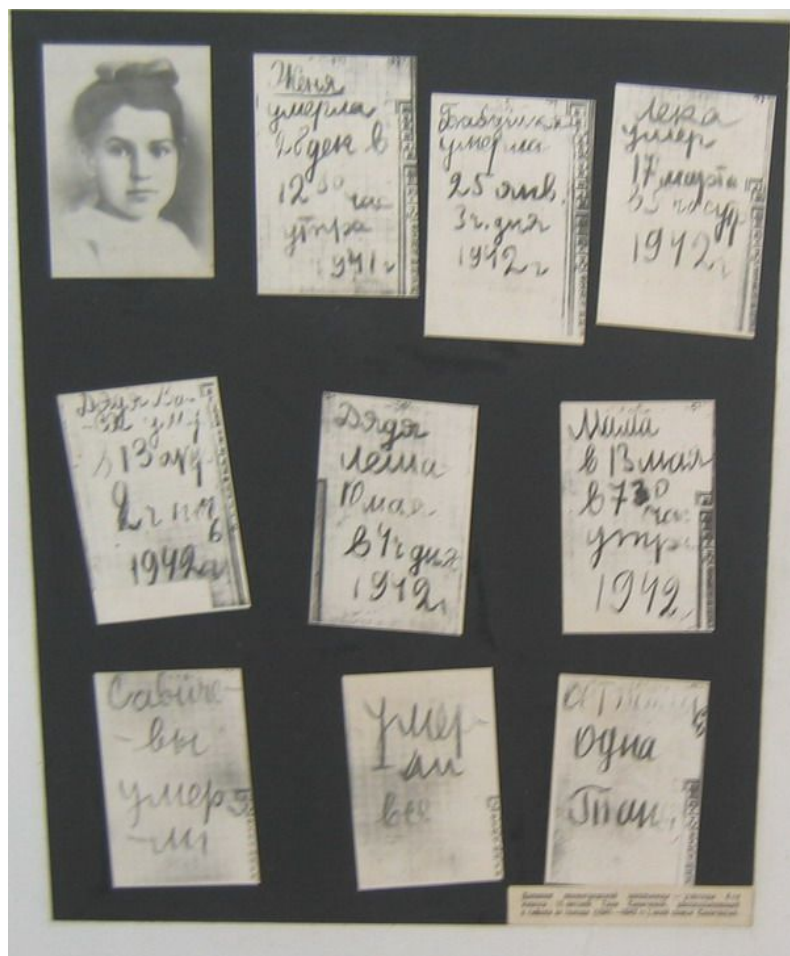


Блокада

В начале блокады



Дневник Тани Савичевой



- В Ленинграде во Всесоюзном институте растениеводства в жестяных коробках хранятся пакеты с семенами почти всех растений Земли. Во время войны 14 ослабевших от голода сотрудников каждый день приходили на работу, чтобы сохранить от мороза, сырости, от крыс десятки тонн сортового зерна и картофеля. От голода погиб профессор Иванов, сотрудник Щукин. Никто из них не посягнул ни на один пакетик семян. В живых остались только 5 сотрудников. В институте хранились $\frac{1}{50}$ миллиона образцов только одной пшеницы. Узнайте количество образцов.

2000000: 16 000 =125 (г)



Дорога жизни

Эта карта действительна на освобожденной территории

КИЕВ

КАРТОЧКА НА ХЛЕБ
на 11 денедат Октября 1942 г.

Имя _____

Возраст _____

Домашний адрес _____

ул. № _____ № _____

Эта карта действительна на освобожденной территории

КИЕВ

Р	20	100	г
	20	100	г
	19	100	г
	19	100	г



- **« Хлеб - всей жизни голова »**
- **« При сытости помни голод ».**

