

Презентация к уроку математики

Подготовила: учитель начальных
классов

1 квалификационной категории

Шломина И.С.

МБОУ «Верхнедеревенская средняя
общеобразовательная школа».



Правильно ли сосчитал цветы Незнайка

1



2



4



5



6



7





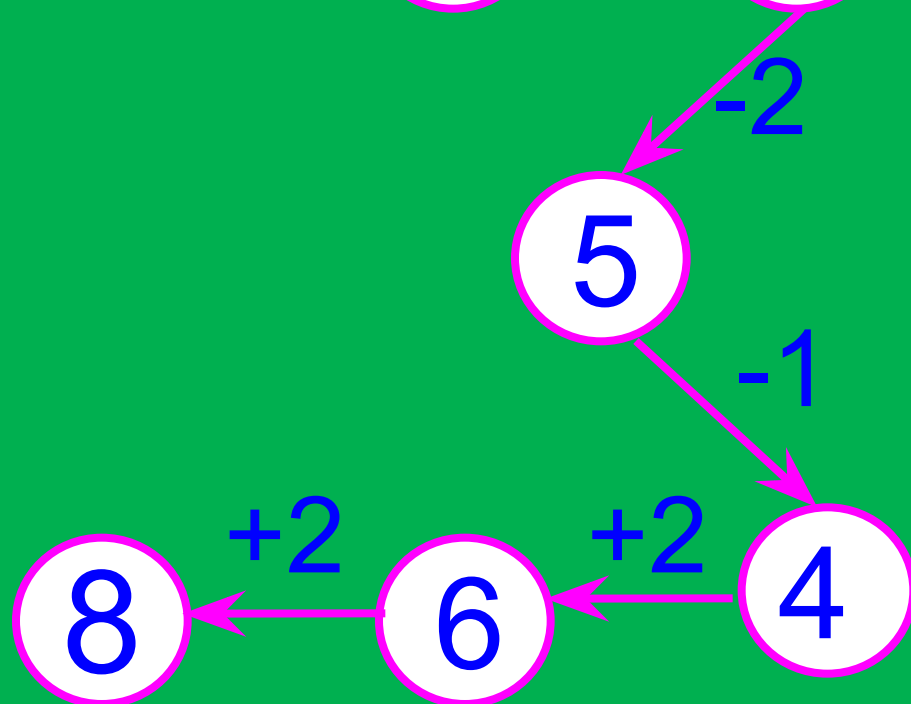

AllFreeD.no

Сколько грибов собрал гномик






А теперь поиграем!

Вперёд за волшебным клубочком.



Назовите фигуры



Составить условие задачи,
которая решается так:

$$5 + 2 = 7$$



Ответ : 7 ПТИЦ

Составьте задачу по рисунку

2 гриба



Столько же



Составьте задачу по рисунку

2 гриба



2 гриба



Молодцы!