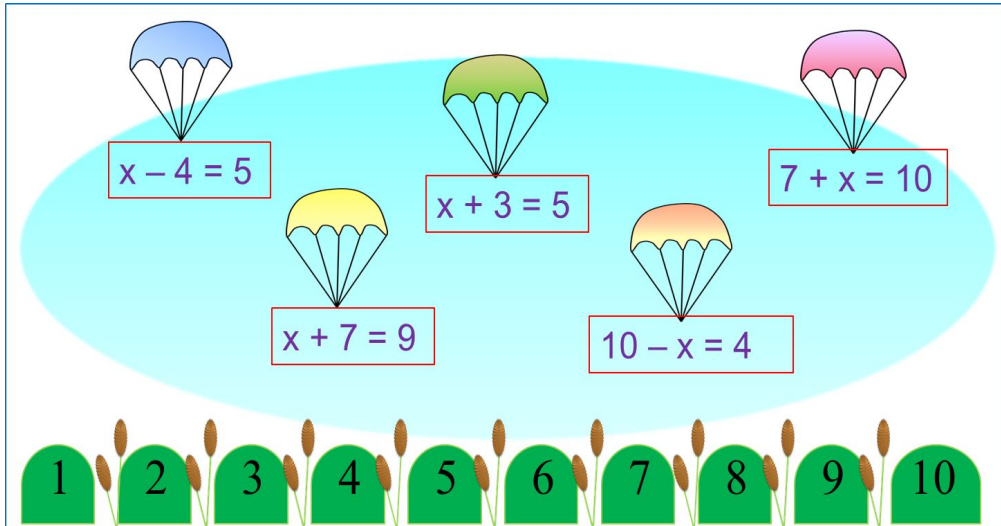


«Моя математика» 1 класс

Урок 70

Тема урока: «Уравнение»



*Автор презентации
Татузова Анна Васильевна*

<http://avtaturzova.ru>

учитель

начальных классов

г. Москва

Советы учителю.

Презентация к уроку составлена на основе заданий, расположенных в учебнике.

Рекомендую открыть учебник на странице с данным уроком, прочитать задания и просмотреть их в данной презентации в режиме демонстрации.

Внимание!

Некоторые задания можно выполнять интерактивно. Например, продолжить ряд, сравнить или вставить пропущенные числа. Для этого презентацию надо перевести в режим редактирования.

Урок 70. Уравнение

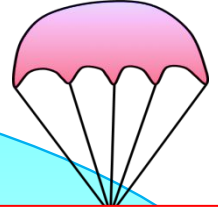
1. Помоги Пете «посадить» парашюты с уравнениями на «кочки» с верным решением. Докажи, что ты прав.



$$x - 4 = 5$$




$$x + 3 = 5$$



$$7 + x = 10$$



$$x + 7 = 9$$



$$10 - x = 4$$

Внимание!

Данное задание можно выполнить интерактивно. Для этого презентацию надо перевести в режим редактирования. с



Урок 70. Уравнение

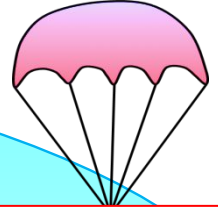
1. Помоги Пете «посадить» парашюты с уравнениями на «кочки» с верным решением. Докажи, что ты прав.



$$x - 4 = 5$$




$$x + 3 = 5$$



$$7 + x = 10$$



$$x + 7 = 9$$



$$10 - x = 4$$

ПРОВЕРЬ!

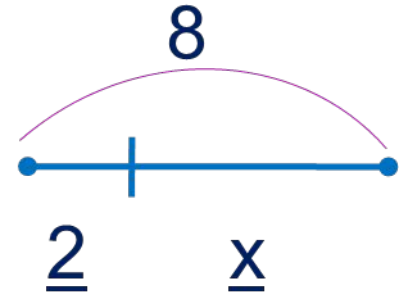
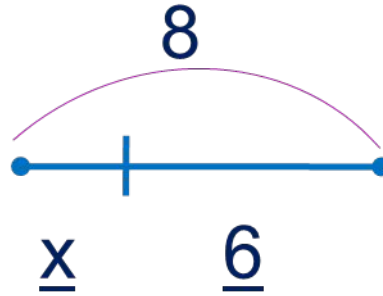
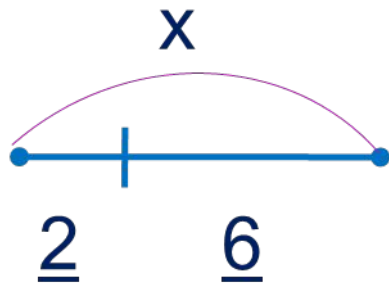


Урок 70. Уравнение

2. Здесь перепутаны уравнения и схемы. Помоги Кате понять, к какой из схем составлено каждое уравнение. Расскажи ей, что известно и что не известно на каждой схеме.

ПОДСКАЗКА! *часть + часть = целое*

целое – часть = часть



--	--	--

$$\underline{2} + \underline{x} = 8$$

$$x - \underline{2} = \underline{6}$$

$$8 - \underline{x} = \underline{6}$$

Внимание!

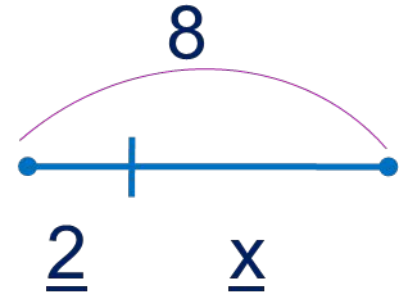
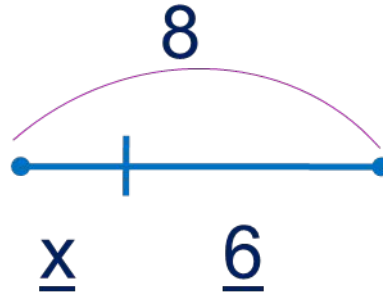
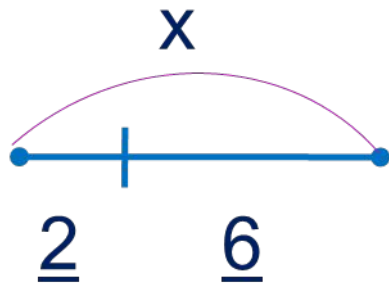
Данное задание можно выполнить интерактивно. Для этого презентацию надо перевести в режим редактирования.

Урок 70. Уравнение

2. Здесь перепутаны уравнения и схемы. Помоги Кате понять, к какой из схем составлено каждое уравнение. Расскажи ей, что известно и что не известно на каждой схеме.

ПОДСКАЗКА! *часть + часть = целое*

целое – часть = часть



--	--	--

$$\underline{2} + \underline{x} = 8$$

$$x - \underline{2} = \underline{6}$$

$$8 - \underline{x} = \underline{6}$$

! Как найти неизвестное целое? Как найти неизвестную часть?

ПРОВЕРЬ!

3. Прочитайте записи. Расскажите, как Катя, Петя и Вова решали уравнения. Пользуйся словами «целое» и «часть».

ПОДСКАЗКА! *часть + часть = целое*

целое – часть = часть

$$\underline{2} + \underline{x} = 8$$

$$x - \underline{4} = \underline{6}$$

$$9 - \underline{x} = \underline{3}$$

$$\underline{x} = 8 - \underline{2}$$

$$x = \underline{4} + \underline{6}$$

$$\underline{x} = 9 - \underline{3}$$

$$\underline{x} = \underline{6}$$

$$x = 10$$

$$\underline{x} = \underline{6}$$

Ответ: 6.

Ответ: 10.

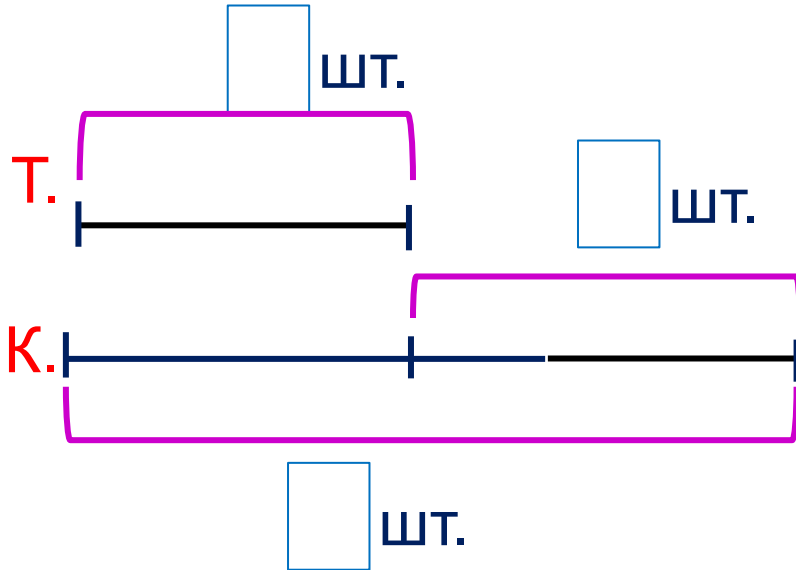
Ответ: 6.

Урок 70. Уравнение

5. Реши задачи ребят.


К. У Кати 4 тетради. Это на 5 меньше, чем

Сколько книг у Кати?



$$4 + 5 = 9 \text{ (шт.)}$$

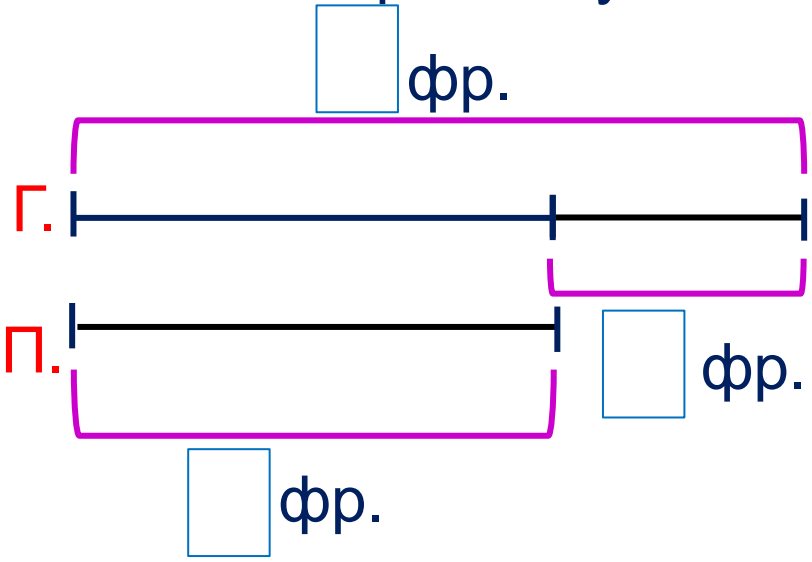
Ответ: 9 книг.



5. Реши задачи ребят.


К. У Лены **10** груш. Это на **3** больше, чем персиков.

Сколько персиков у Кати?



$$10 - 3 = 7 \text{ (фр.)}$$

Ответ: 7 персиков.



Спасибо!