



Числа от 11

Нумерация.
до 20



Здравствуйте, ребята!



Я и мои друзья пришли учиться.

Помогите нам,

пожалуйста,

выполнить задания

по математике.

Желаю удачи!



УСТНЫЙ СЧЁТ:

1). Какое число, следует за числом:

3, 5, 7, 4, 6, 9, 12, 16

2). Какое число, стоит перед числом:

4, 5, 3, 6, 9, 8, 10, 13, 17, 19

3). Какое число, стоит между числами

2 и 4, 6 и 8, 1 и 3, 5 и 7, 8 и 10, 7 и 9, 12 и 14, 16 и 18.



Найди «соседей»



12



17



19



14



16



18



Сравни числа



19



13

11



13

12



18

20



19

20



12

16



15

11



16

12



14

Решение простых задач

У Васи было 6 марок, а у Вовы на 3 марки больше. Сколько марок было у Вовы?

На первой полке было 9 книг, а на второй на 4 книги меньше. Сколько книг было на второй полке?



*Запиши числа
в порядке*



возрастания

19 18 20 16 12 15 17

*Запиши числа
в порядке убывания*



14

17

18

15

11

20

13

Физкультминутка

- Раз, два- выше голова,
- Три, четыре –руки шире
- Пять, шесть – тихо сесть,
- Семь, восемь – лень отбросим.



Заполни таблицу



Увеличить на

19	15 ¹	12	17	13	18	14	16
20	16	13	18	14	19	15	17

Заполни таблицу



Уменьшить на

20	11 ¹	19	15	18	13	17	12
19	10	18	14	17	12	16	11

Заполни таблицу



Увеличить на

7	3	10	5	1	4	9	8
17	13	20	15	11	14	19	18

Засели

«ДОМИКИ»



10

8

2

5

7

12

5

8

6

3

14

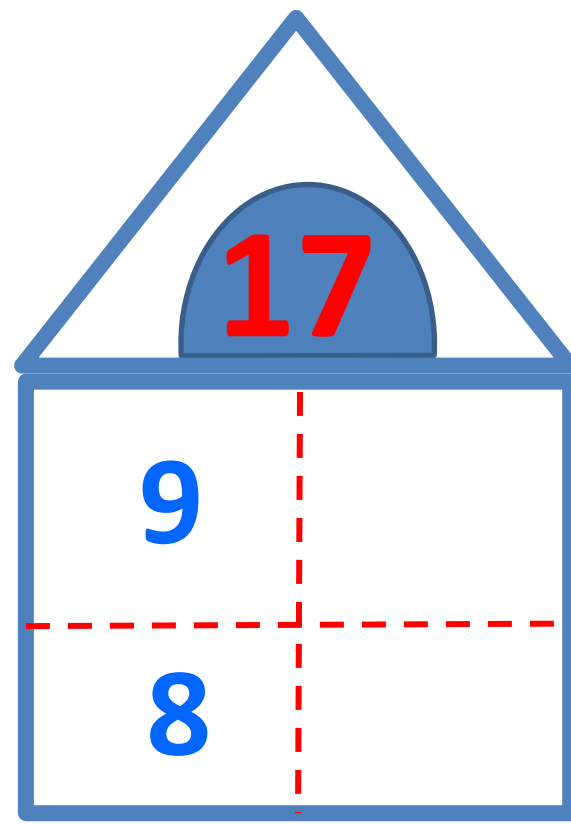
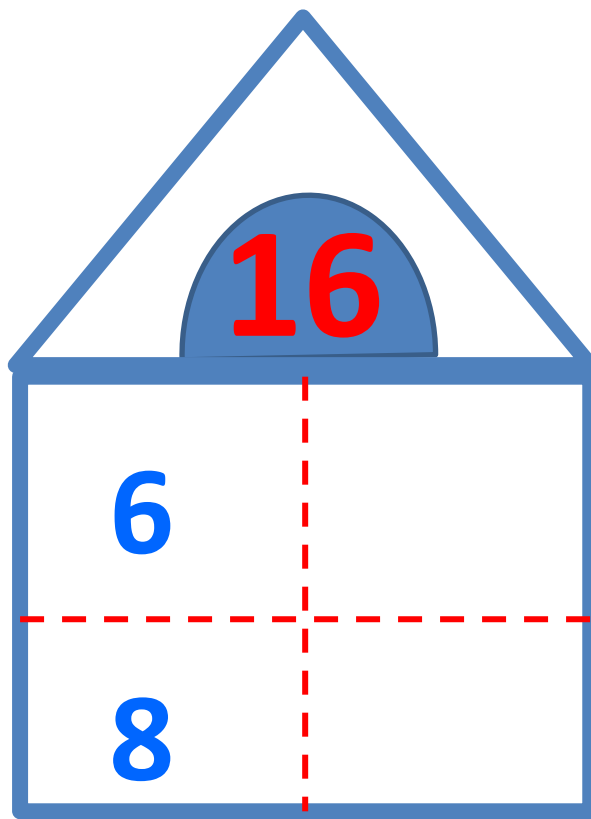
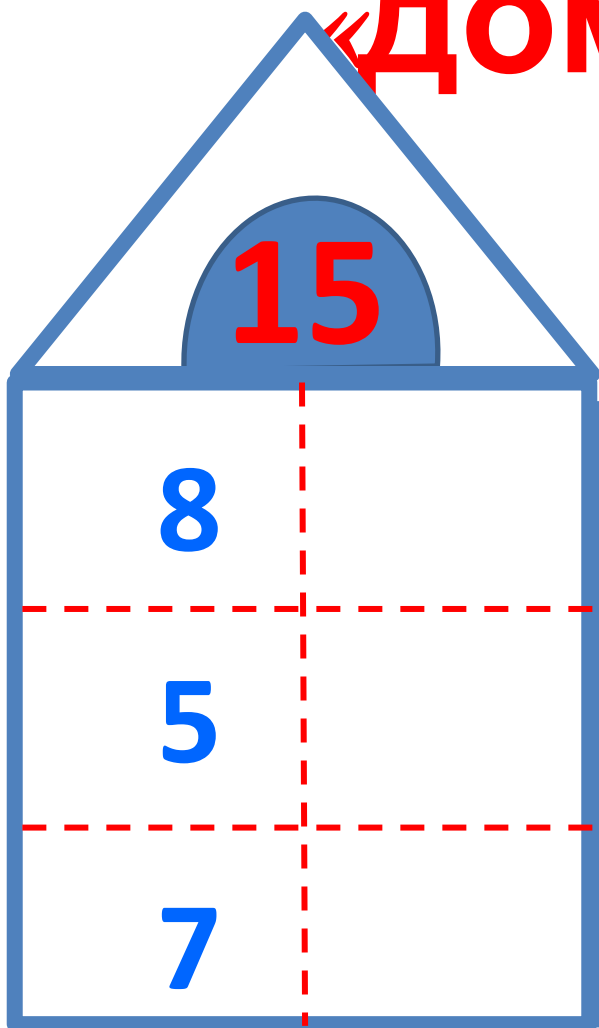
5

9

7

Засели

«ДОМИКИ»



**Мы сегодня всё сумели!
Всё смогли!
Мы сегодня МОЛОДЦЫ!**

