



Тест

Введите фамилию и имя

Всего заданий **24**

[Начать тестирование](#)

Время тестирования **40** мин.

Правильная запись цифрами числа: четыреста пять тысяч девяносто

1 45 900

2 405 900

3 405 090

4 45 009



Число, в котором 263 десятка:

1 72630

2 260302

3 263

4 2630



Ряд данных чисел, учитывая
закономерность: 808, 800, 792,

Введите ответ:

Задание **3** 2 бал.



Далее



Одинаковые значения выражений:

1 $5670030 + 8954024$

2 $5670020 + 8954024$

3 $8954024 + 5670030$

4 $5670120 + 8954024$



Правильный знак в соотношении:
 $256 * 3 + 256 * 5 \dots 7 * 256$

1 <

2 >

3 =

4 :



Соответствие между выражением и его значением:

$8 * 4 * 6 * 25$

$6 * 7 * 5 * 30$

$45 * 5 * 6 * 2$

$10 * 7 * 6 * 5$

6300

2700

2100

4800

Задание

6

1 бал.

Выберите все правильные ответы!



Далее

Строка с безошибочным равенством:

1 $2 \text{ м } 9 \text{ см} = 290 \text{ см}$

2 $2 \text{ м } 9 \text{ см} = 29 \text{ см}$

3 $2 \text{ м } 9 \text{ см} = 209 \text{ см}$

4 $2\text{м } 9 \text{ см} = 2009 \text{ см}$



Дополните равенство единицей длины:

■ $3\dots = 3000 \text{ м}$

Введите ответ:

Задание

8


1 бал.



Далее

Значение умножения 7 т 280 кг * 4

- 1 29 т 120 кг
- 2 2 т 9120 кг
- 3 291 т 20 кг
- 4 29 т 210 кг



Дополните пропущенное число в
равенстве: $875 : \dots = 125$.

Введите ответ:

Задание **10** 1 бал.



Далее

Дополните

Пропущенное число в равенстве:

$$\dots * 27 : (30 : 10) = 0.$$

Введите ответ:

Задание **11** 1 бал.



Далее

Число, которое задумала Саша, если при увеличении этого числа на 9 получается 180.

1 1620

2 189

3 171

4 20



Уравнение, в котором корень будет наименьшим:

- 1 $2350 : X = 8$
- 2 $2350 : X = 4$
- 3 $2350 : X = 5$
- 4 $2350 : X = 10$



Соответствие между действием и результатом

сложение

вычитание

умножение

деление

Значение
суммы

Значение
частного

Значение
разности

Значение
произведения

Задание

14

1 бал.

Выберите все правильные ответы!



Далее



Время движения мотоциклиста, если он проехал 96км со скоростью 48км/ч

- 1 2ч
- 2 48ч
- 3 3ч
- 4 2км



6 ящиков с бананами весят 30 кг, а ящик с хурмой 4 кг. Ящик с хурмой весит на _____кг меньше, чем ящик с бананами.

Введите ответ:



Хозяйка купила 3кг картофеля по 12 рублей за килограмм и 2кг яблок по 25 рублей за килограмм. Сдача, которую она получила с 500 рублей, равна _____ р.

Введите ответ:



В магазин привезли 12 мешков с рисом и 4 мешка с пшеном. Мешок с рисом весит 10 кг, а мешок с пшеном — 15 кг? Решение задачи, в которой находится количество всей крупы, привезённой в магазин.

1 $(12 + 4) * 10 * 15$

2 $10 * 12 + 15 * 4$

3 $15 * 4 + 12 * 10$

4 $15 * 12 + 10 * 4$



В аллее росло 16 берез, это на 8 деревьев больше, чем лип. Выражение, определяющее количество всех деревьев.

1 $(16 - 8) + 8$



2 $(16 + 8) + 16$

3 $(16 + 8) + 8$

4 $(16 - 8) + 16$



Между треугольником и квадратом на чертеже находится ...



Введите ответ:



Площадь всего поля, если редиской засеяна четверть поля, и это составляет 12 кв.м

- 1 3 кв.м
- 2 48 кв.м
- 3 8 кв.м
- 4 15 кв.м



Выражение для нахождения периметра
треугольника со сторонами 4 дм, 5 дм и 7 дм.

1 $(4+5+7)*2$

2 $(40+50+70)*2$

3 $40+50+70$

4 $4+5+7$



Длина стороны квадрата, периметр которого 36 см.

- 1 6см
- 2 9см
- 3 4см
- 4 18см




Площадь прямоугольника. Одна сторона
прямоугольника 9 см, это на 6 см меньше его
другой стороны.

1 54 кв. см.

2 24 кв. см

3 27 кв. см

4 135 кв. см



Результаты тестирования

Оценка

Правильных ответов

Набранных баллов

Ошибки в выборе
ответов на задания:

Всего заданий бал.

Снова

Выход

Затрачено времени