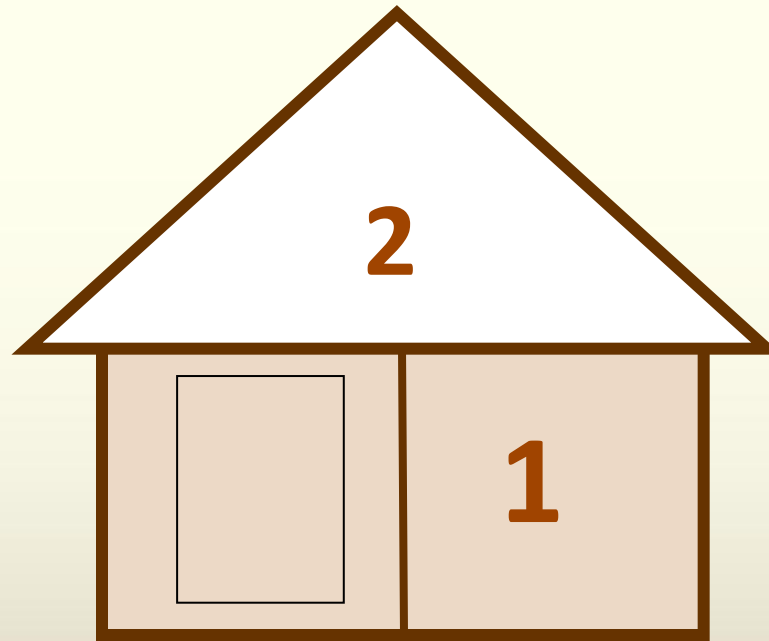
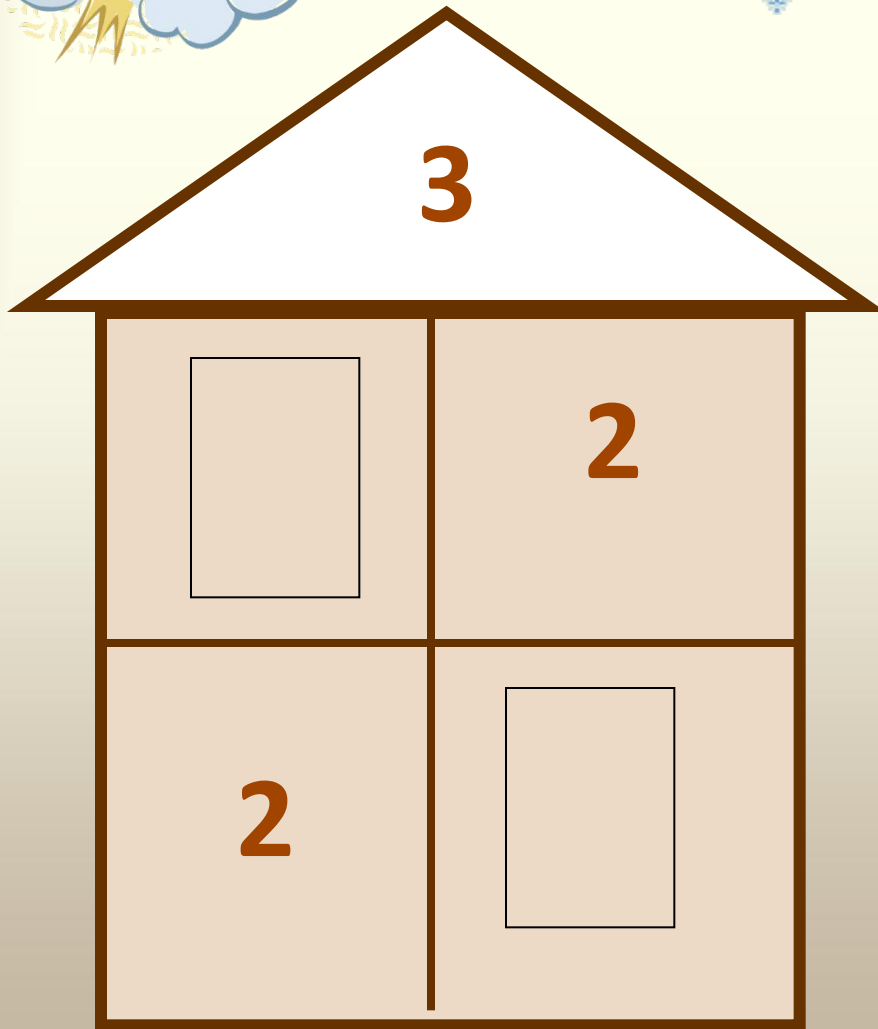






Тема: «Активизация познавательной деятельности на уроках математики как средство совершенствования вычислительных навыков»

**МБОУ «СОШ №41»
учитель начальных классов
Ичетовкина Ольга Ивановна**

«Заселяем
домики»







Весёлая
таблица умножения

Два атлета взяли гири.
Это: **дважды два** -четыре.
е.

$$2 \times 2 = 4$$



Найти суммы, которые делятся
на 3

$9 + 27$

$36 + 8$

$6 + 9$

$47 + 3$

$5 + 18$

$61 + 5$

Найти разности, которые делятся
на 6

$90 - 34$

$51 - 9$

$21 - 15$

$80 - 26$

$73 - 5$

$39 - 16$

**ПРОВЕРЬ
СЕБЯ**

$2 * 9 = ?$

$48 : 8 = ?$

$72 : 9 = ?$

$7 * 4 = ?$

$9 : 3 = ?$

$54 : 9 = ?$

**ВСТАВИТЬ
ЧИСЛО**

$6 \times \square = 24$

$9 \times \square = 63$

$5 \times \square + 4 = 14$

$40 \times \square - 7 = 1$

НАРЯДИ ЁЛОЧКУ



$2 \times 7 = 14$

$5 \times 9 = 45$

$6 \times 6 = 36$

$9 \times 9 = 81$

$7 \times 9 = 63$

$4 \times 6 = 24$

$8 \times 9 = 72$

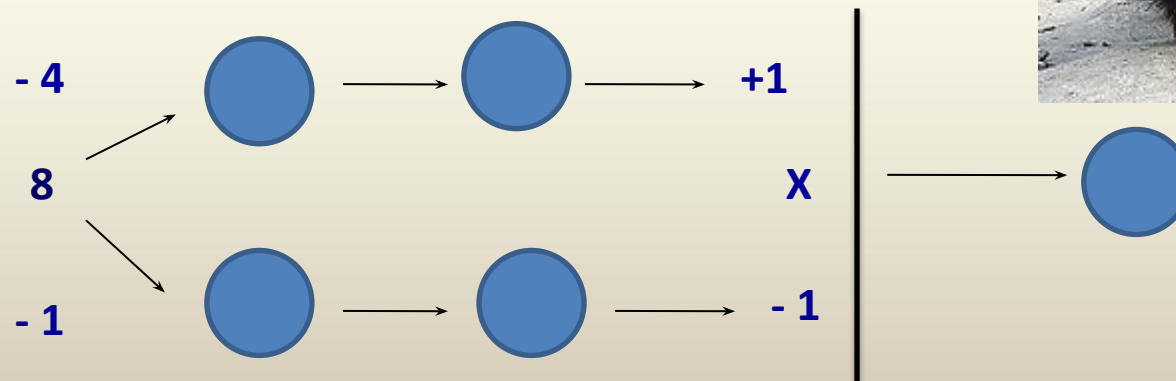
$3 \times 6 = 18$

$4 \times 7 = 28$


8

Из какой сказки слова

Три медведя –
8
Маша и медведь -
6
Медведь -
4



КТО БЫСТРЕЕ




$9 \times 6 =$

$5 \times 7 =$

$6 \times 4 =$

$3 \times 8 =$

$2 \times 3 =$



$8 \times 9 =$

$5 \times 6 =$

$4 \times 7 =$

$6 \times 9 =$

$9 \times 3 =$



$5 \times 4 =$

$7 \times 8 =$

$4 \times 8 =$

$6 \times 6 =$

$9 \times 2 =$

Занимательные вопросы

На столе стояло три стакана с ягодами.
Вова съел один стакан ягод и поставил
его на стол. Сколько стаканов стоят на
столе?

(ТРИ
)

Когда цапля стоит на одной ноге, то она весит три
килограмма.

Сколько будет весить цапля, если встанет на обе ноги?

(ТРИ
КИЛОГРАММА)

РЕШИТЬ ЗАДАЧКИ

Ворон живёт около 75 лет, слон – на 5 лет меньше, а щука – на 5 лет меньше, чем слон. Сколько лет живёт щука?

**65
ЛЕТ**

Каждый океан содержит в себе несколько морей. Подсчитайте, сколько всего морей содержат все океаны земли; если: в Тихом океане 9 морей, в Атлантическом – 6 морей, в Индийском – 5 морей, в Северном Ледовитом – 10 морей.

**30
МОРЕЙ**

Самая высокая башня кремля – Троицкая. Её высота – 80 м, а самая маленькая – Кутафья. Она на 66 м ниже. Какова высота самой маленькой башни кремля?

14 М

«ПОЙМАЙ
БАБОЧКУ»



2×9

9×2

6×3

3×6



4×10

10×4

8×5

5×8



4×6

6×4

3×8

8×3



3×10

10×3

5×6

6×5



9×8

8×9



7×8

8×7