

Кто там за дверью?

3 · 8 - 18

6

ы



Кто там за дверью?

$$74 - 6 \cdot 4$$

6

Ы

50

Ч



Кто там за дверью?

$$9 \cdot 2 + 11$$

6

ы

29

л

50

ч



Кто там за дверью?

$$83 - 7 \cdot 6$$

6

29

50

ы

л

ч

41

ё



Кто там за дверью?

$$50 + 45 : 5$$

6

29

50

ы

л

ч

41

59

ё

п



Кто там за дверью?

Расставьте ответы в
порядке убывания.

6

29

50

ы

41

л

59

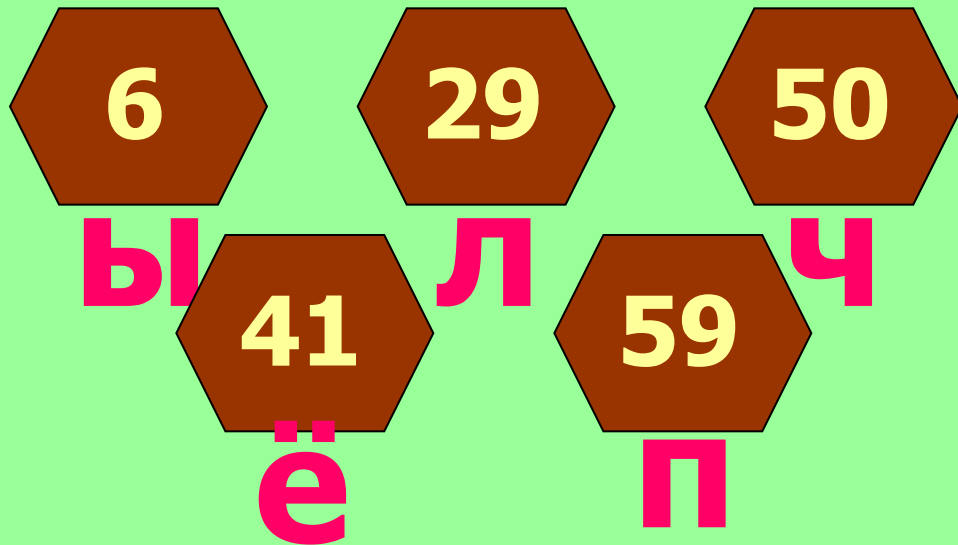
ч

ё

п



Кто там за дверью?



Узнайте, какими профессиями я владею?

7 дуборщица 72 см



Узнайте, какими профессиями я владею?



уборщица

54 дня 5 кам 4

ДМ



Узнайте, какими профессиями я владею?



уборщица

нянька

строитель

Blank pink box for a profession.

Blank pink box for a profession.

Blank pink box for a profession.

Blank pink box for a profession.



Узнайте, какими профессиями я владею?




уборщица

нянька

строитель

6 стор 48

Ж



Узнайте, какими профессиями я владею?



уборщица

нянька

строитель

сторо

разведчи

к



Узнайте, какими профессиями я владею?



уборщица

нянька

строитель

сторо

^Ж
разведчи

^К
сборщица ³ ⁴ пыльцы ⁵ ⁶ и ⁷ нектара



Узнайте, какими профессиями я владею?



уборщица

нянька


строитель

сторо

^Ж
разведчи

^К
сборщица пыльцы и нектара

30, 10 до 70, 50





$$30 \cdot 3$$




$$80 : 2$$

4









4 5





5 · 20



4 5 6




60:2




4 5 6 7



$$20 \cdot 2$$



60:3




2•40



4 5 6 7

8 9





90:9



8
9
10



4 5 6 7

8 9 10





4

5

6

7

8

9

10



100

80

60

2

78

20

38

Какой из этих
цветов радуги
я не
различаю?





**Реши задачу, и ты узнаешь,
сколько килограммов мёда
заготавливает моя семья за лето.**

**Пасечник отвёз мёд, собранный с
одного улья, в 3 детских сада по
20 кг в каждый и 30 кг в школу.
Сколько кг мёда собрал пасечник
с одного улья?**



