

Математический КВН среди 3 классов

Подготовила учитель начальных классов
МБОУ СОШ №4 г. Кызыла Донгак Ульяна
Кара-Тарааевна

**Математика – царица
наук,
арифметика- царица
математики.
К. Гаусс**

1 команда

**ДВЕ САРДЕЛЬКИ
ВАРЯТСЯ 6 МИНУТ.
СКОЛЬКО ВРЕМЕНИ
ВАРЯТСЯ
8 ТАКИХ САРДЕЛЕК?**

6 минут

2 команда

**ШЛА ДЕВОЧКА В МОСКВУ И
ПОВСТРЕЧАЛА ТРЁХ
МАЛЬЧИКОВ. КАЖДЫЙ ИЗ
НИХ НЁС ПО МЕШКУ, В
КАЖДОМ МЕШКЕ ПО КОТУ.
СКОЛЬКО СУЩЕСТВ
НАПРАВЛЯЛОСЬ В МОСКВУ?**

1 девочка

3 команда

**ПЯТЬ ЛАМПОЧЕК ТУСКЛО
ГОРЕЛИ В ЛЮСТРЕ.
ХЛОПНУЛИ ДВЕРИ, ДВЕ
ПЕРЕГОРЕЛИ.
СДЕЛАТЬ НУЖНО ВАМ
МАЛОСТЬ –
СКАЗАТЬ, СКОЛЬКО ЛАМП
ОСТАЛОСЬ?**

5 лампочек

4 команда

Когда петух стоит на двух ногах, то весит 4 кг. Сколько будет весить петух, если он встанет на одну ногу?

4 кг

Угадай цифру

- Вид её- как запятая.
- Хвост крючком, и не секрет
- Любит всех она лентяев,
- А её лентяи – нет.

2

- Непохож он на
пятак,
- Не похож на
бублик,
- Круглый он, да не
дурак,
- С дыркой, да не
бублик

0

- У кого одна нога,
- Да и та без башмака



**Что за цифра акробатка?
Если на голову он
встанет
Ровно на 3 меньше
станет.**



Ребусы

100 лица

по2л

Збуна

пи100лет

виЗна

100йбище

Р1на

па3от

- А братишка мой,
Сережа,
Математик и
чертежник -
На столе у бабы
Шуры
Чертит всякие...

● фигуры

- Три вершины тут видны,
Три угла, три стороны, -
Ну, пожалуй, и довольно! -
Что ты видишь? -
...

● **треуголь
ник**

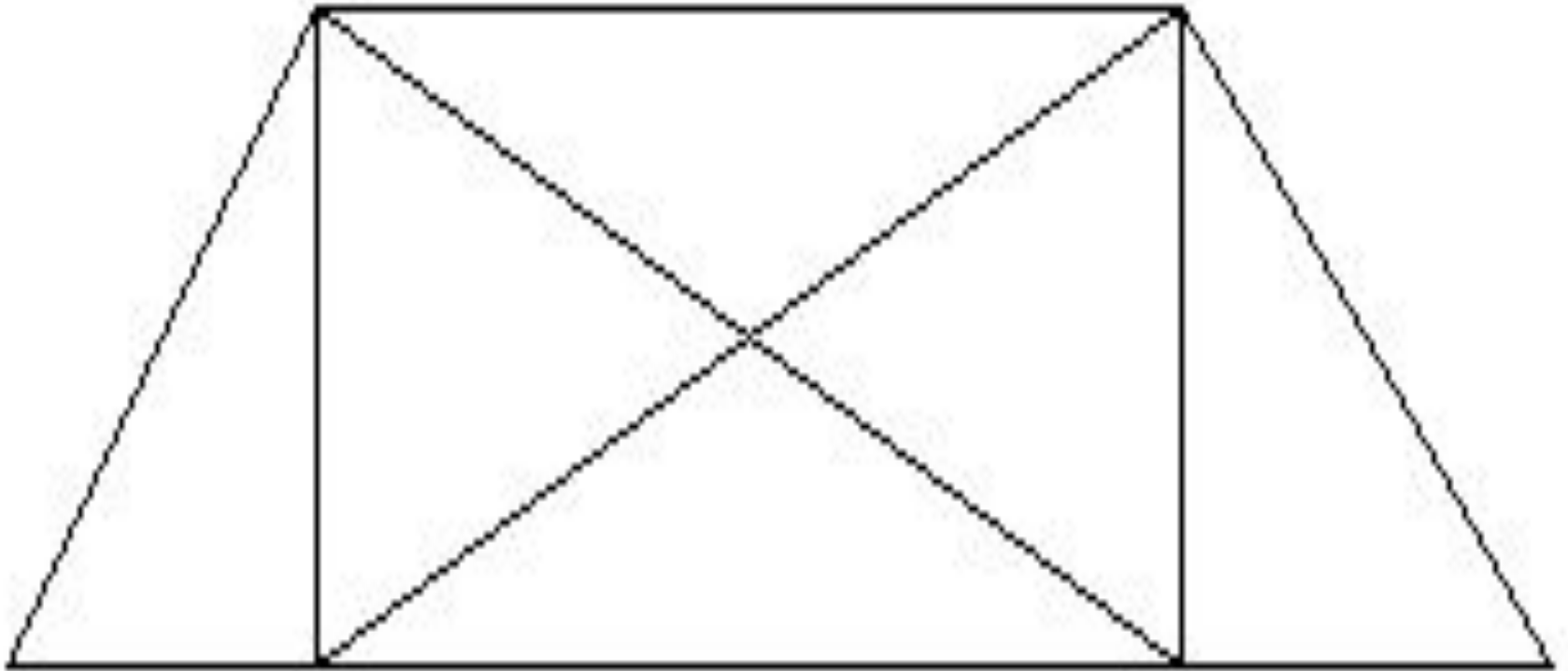
- Эта странная
фигура,
Ну, совсем
миниатюра!
И на маленький
листочек
Мы поставим
СОТНИ

● ТОЧКИ

- Он от солнца
прилетает,
Пробивая
толщу туч
И в
тетрабочке
бывает,
А зовется
просто- ...


луч

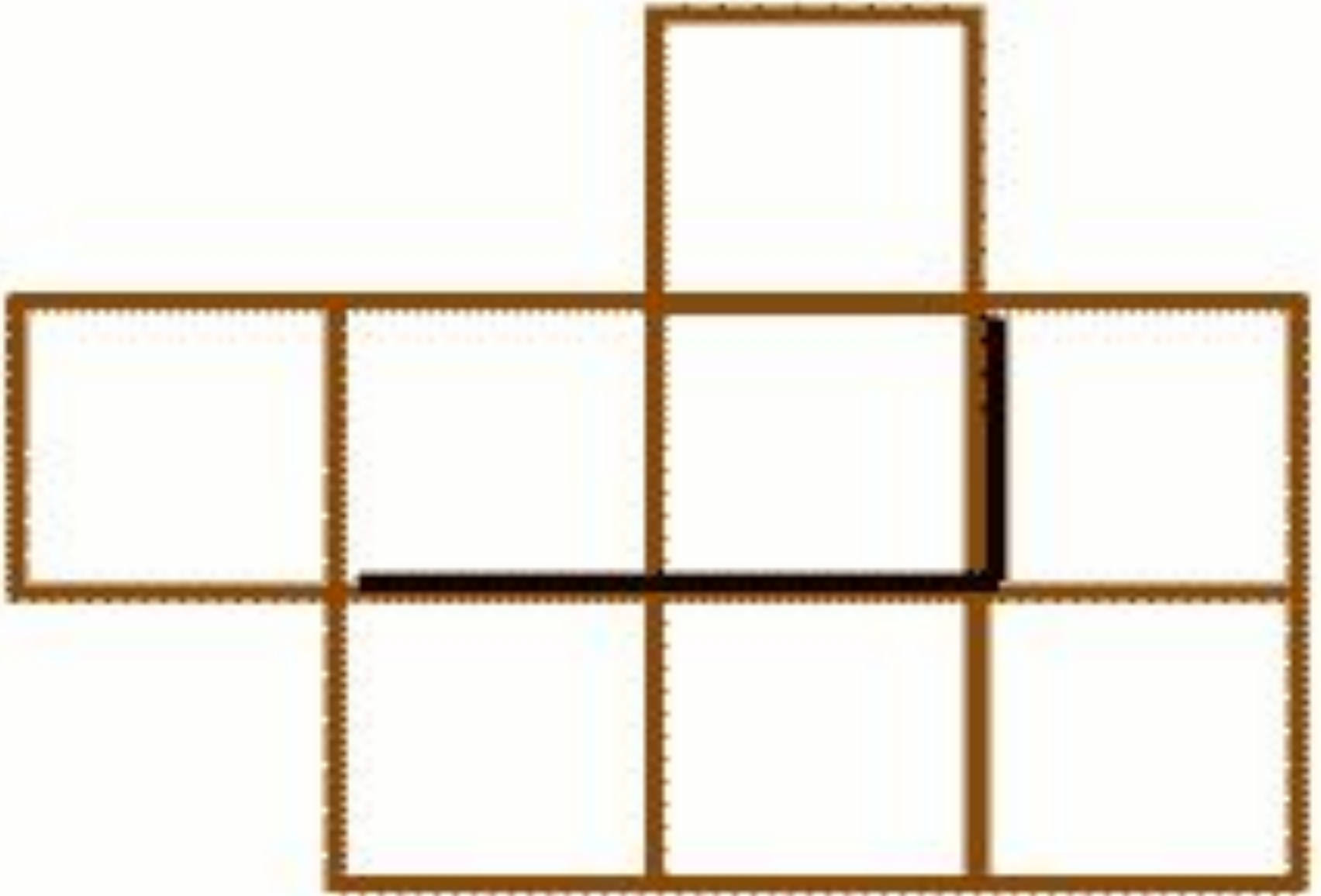
Сколько здесь треугольников?

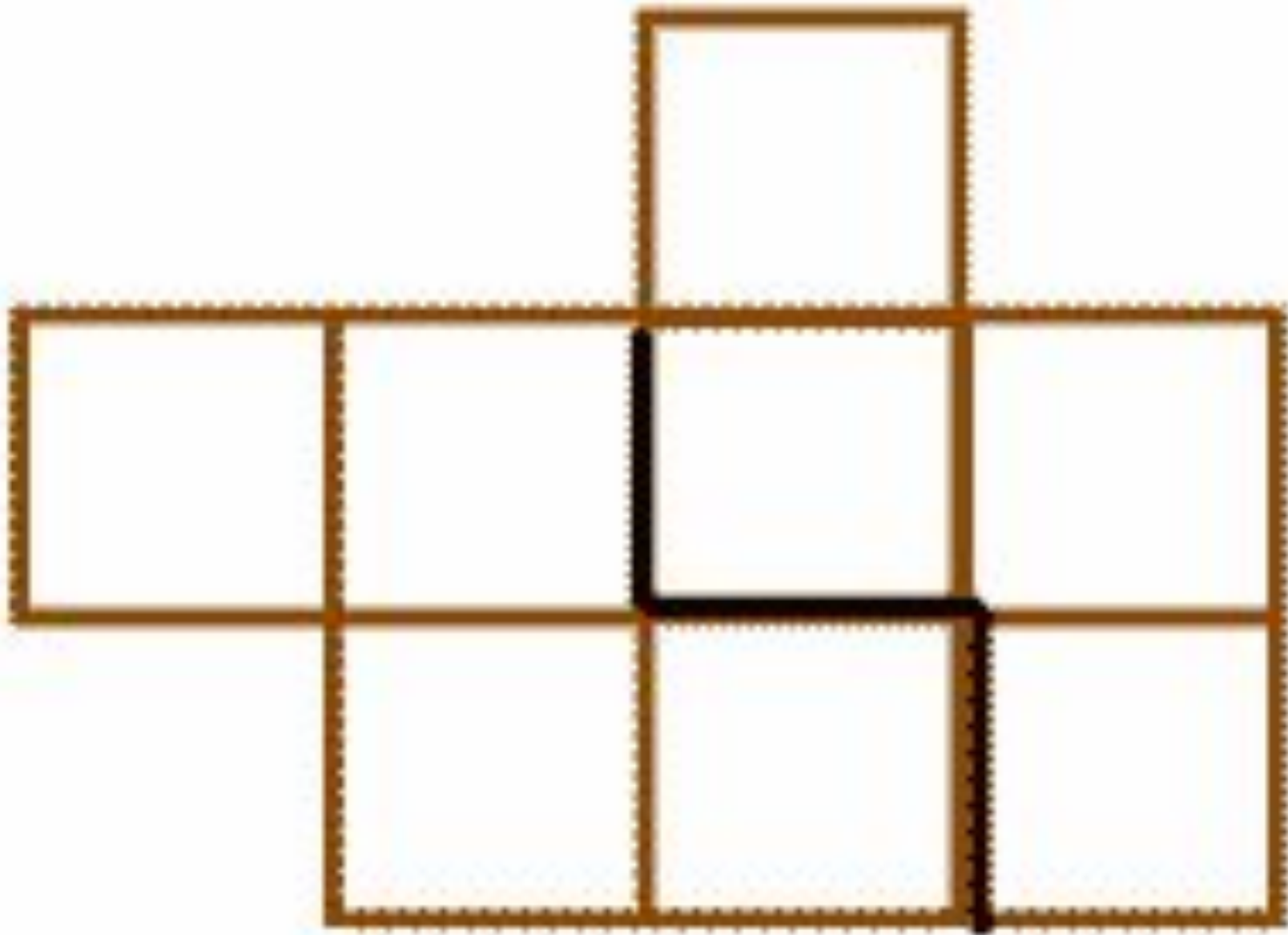


12 треугольников

Данную фигуру нужно разрезать на две равные части так, чтобы при наложении они совпали







Пословицы

1) У семи нянек дитя
без глаза
.....

2) Семеро одного **не ждут**
.....

3) Один за всех, все за
одного
.....

4) Семь раз отмерь, один
раз **отрежь**
.....

Молодцы!