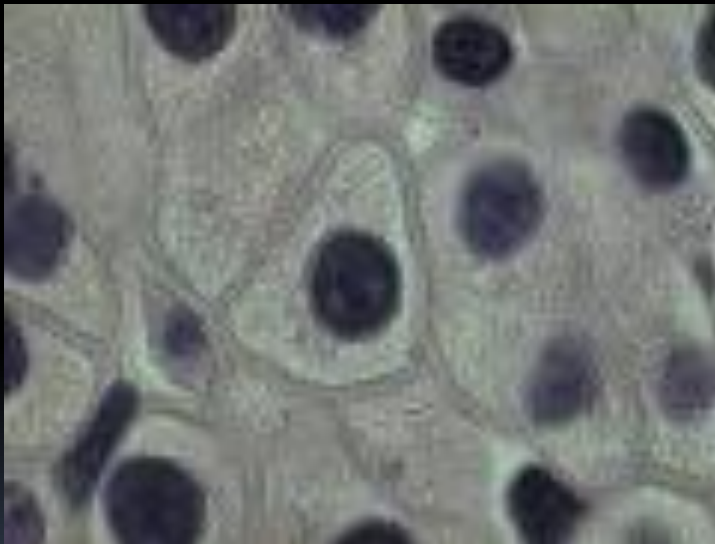


**ЛАБОРАТОРНА
РОБОТА №3
БУДОВА КЛІТИН
ПРОКАРІОТ ТА
ЕУКАРІОТ**

Замалюйте схематично клітину епідермісу цибулі. На малюнку позначте клітинну стінку, ядро, цитоплазму, вакуолю.


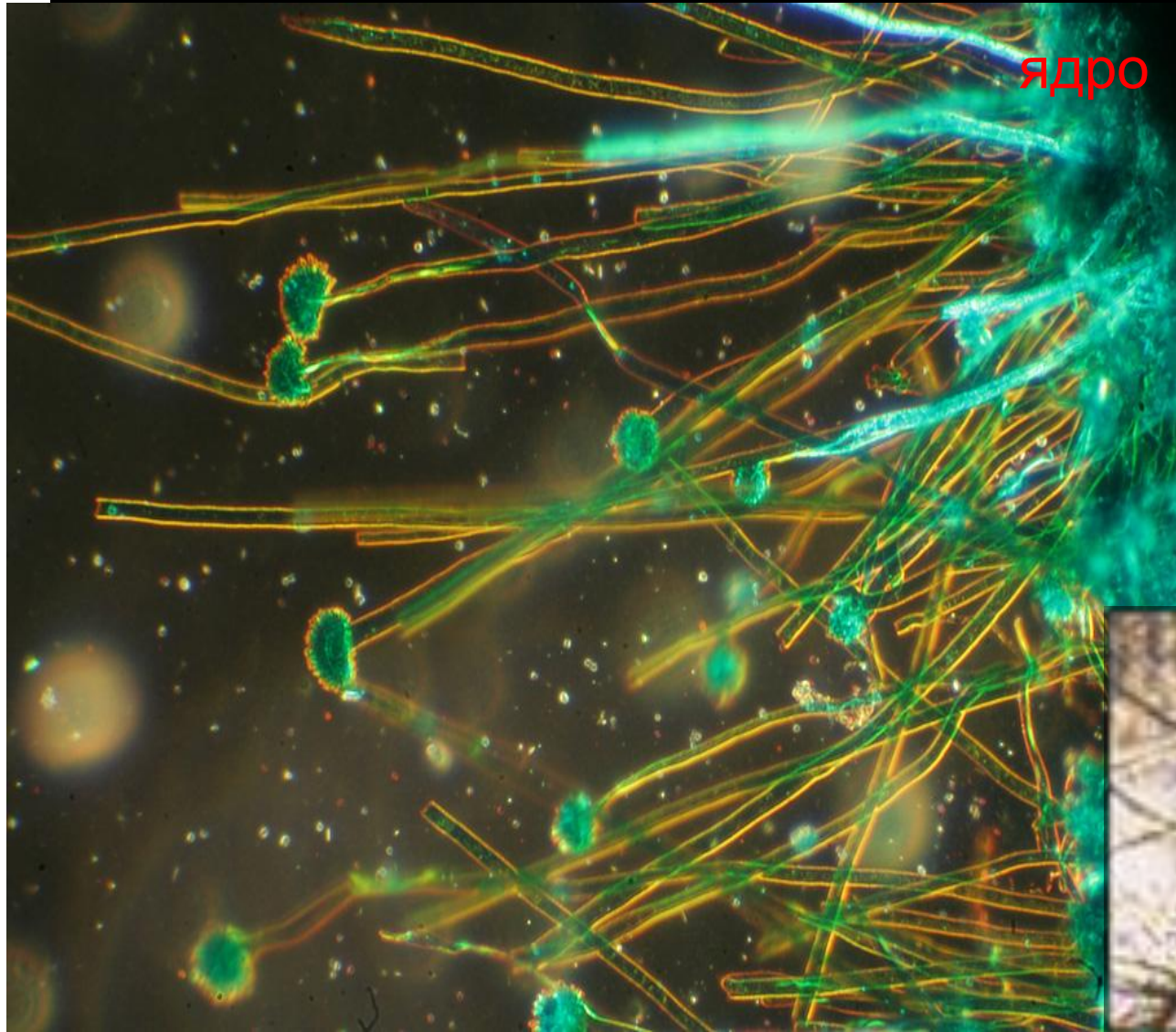


розгляньте клітини печінки та зробіть малюнок однієї клітини.
На малюнку позначте ядро й цитоплазму.

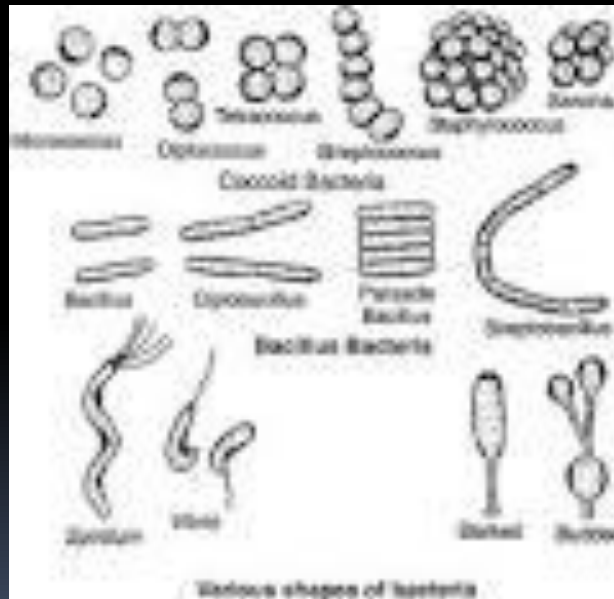


розгляньте клітини міцелію мукора та зробіть малюнок однієї клітини. На малюнку позначте

клітинну стінку,
ядро й цитоплазму.



розгляньте скупчення клітин бактерій і зробіть малюнки клітин бактерій різної форми.



Зробіть висновки щодо особливостей будови еукаріотичних і прокаріотичних клітин, риси їх схожості й відмінності.