

4

9

3

6

Занимательная математика в 3 классе

0

7

2

ГБОУ гимназия
№1274, Москва
Тимофеева Г.Н.

$$2+2=4$$

1

5

8



Вычислите, используя код:

9×9 4×7 24×1

8×5 7×9 9×2

5×3 3×4 9×7

3×9 20×2 7×4

6×2 5×9 7×9



12 15 18 20 24 27 28 36 40 45 63 64 81





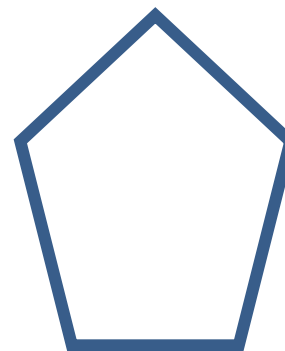
у з а ь н м к в е т и г б



Без муки –
нет науки




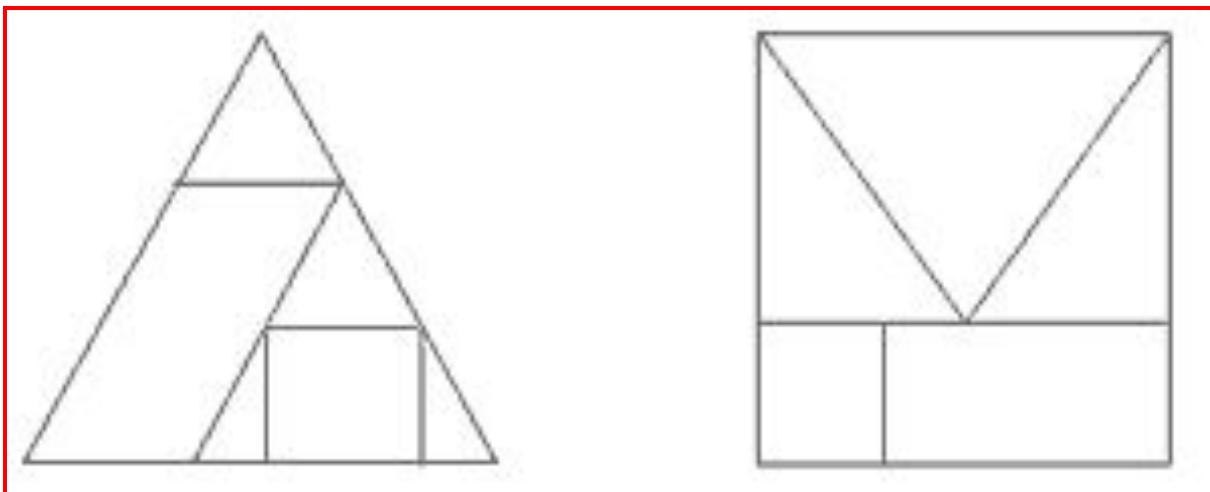
Узнайте фигуры





По каким признакам можно распределить фигуры?



Назовите фигуры и вычислите периметр



Молодцы!





Команда 1

$$\star - 14 = 51$$

$$63 + \star = 81$$

$$18 : \star = 9$$



Команда 2

$$? \times 7 = 56$$

$$32 : ? = 4$$

$$? - 37 = 13$$



Ответьте на вопросы

Команда 1.

Какие деревья вырубали, сколько их видов названо в стихотворении?

Команда 2.

Какие живые обитатели леса убегают и сколько их?



Вставьте в выражения

слова:

Команда 1.

- _____ числа двузначные.
- _____ задачи решаются в два действия.
- _____ уравнения содержат неизвестное.
- _____ квадраты – четырёхугольники.
- _____ имеющие «5» по математике – отличники

Команда 2.

- _____ дети учатся в школе.
- _____ числа чётные.
- _____ треугольники имеют три угла.
- _____ люди любят шоколад.
- _____ примеры мы решаем, пользуясь таблицей умножения.



Выбери правильное решение

1. Рука толще, чем нога, нога толще, чем туловище. Что тоньше всего?
2. Муравей тяжелее слона, слон тяжелее кота. Кто тяжелее всех?
3. Задача проще уравнения, задача сложнее примера. Что проще всего?



Всем спасибо за игру!

