



# Занимательная информатика





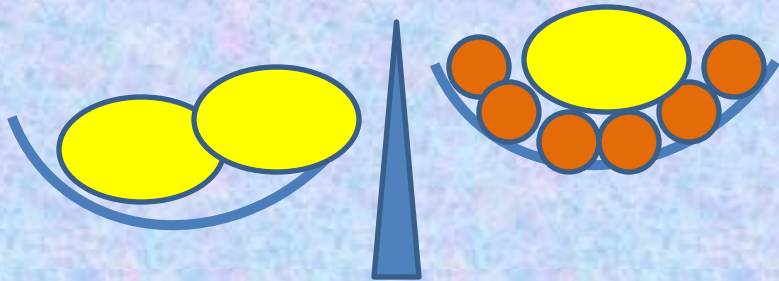
- Петя и Аня отмечают свой день рождения 16 марта, но Петя родился, когда Ане исполнилось три года. Сколько лет будет Пете, когда Аня будет его в два раза старше?

3 года






- На одной чашке весов лежат 6 апельсинов, а на другой – 2 дыни. Если добавить одну такую же дыню к апельсинам, то весы будут уравновешены. Значит, дыня весит столько же, сколько (УКАЖИТЕ ЧИСЛО) апельсинов.





- Васиного отца зовут Иван Николаевич, а дедушку — Семен Петрович. Каково отчество Васиной мамы?


Семеновна





- В слове **ТАМПЯ** переставьте буквы так, чтобы получилось слово, обозначающее блок компьютера.

**ПАМЯТЬ**





- Пятачок посадил 8 желудей. Из всех желудей, кроме двух, выросли дубы. На всех дубах, кроме двух, растут желуди. Желуди со всех плодоносящих дубов, кроме одного, — невкусные. Сколько дубов с невкусными желудями выросло?

**3 дуба**





- В приведенных ниже последовательностях каждый следующий элемент получен по некоторому строгому правилу (*алгоритму*). **Опишите** это правило и **допишите** еще 3 элемента по этому правилу.

• **а) 1, 1, 2, 3, 5, 8, 13, 21, 34**

• **б) 2, 5, 11, 23, 47, 95, 191, 383**





# Виды информации







# Заполните таблицу

Канал получения информации	Вид информации	Орган чувств
глаза	зрительная	
уши	звуковая	
кожа	тактильная	
нос	обонятельная	
язык	вкусовая	

