

Решение задач



Подготовила: Гнездилова Н.В.
учитель начальных классов
МБОУ СОШ № 35 г. Томск

У Миши 10 карандашей, а у Лены на 5 карандашей больше. Сколько карандашей у Лены?

15



5

У Миши 10 карандашей, а у Лены на 5 карандашей больше. Сколько карандашей у Лены?

15




5

На верхней полке 15 книг, а на нижней на 6 книг меньше.

Сколько книг на нижней полке?

9




8

На верхней полке 15 книг, а на нижней на 6 книг меньше.

Сколько книг на нижней полке?

9




8

На верхней полке 15 книг, а на нижней на 6 книг меньше.

Сколько книг на нижней полке?

9



8

На дворе гуляет 8 утят и 6
гусят, а цыплят столько,
сколько утят и гусят вместе.
Сколько цыплят гуляет во
дворе?

15



14

На дворе гуляет 8 утят и 6
гусят, а цыплят столько,
сколько утят и гусят вместе.
Сколько цыплят гуляет во
дворе?

15



14

На дворе гуляет 8 утят и 6 гусят, а цыплят столько, сколько утят и гусят вместе. Сколько цыплят гуляет во дворе?

15



14


На дворе гуляет 8 утят и 6 гусят, а цыплят столько, сколько утят и гусят вместе. Сколько цыплят гуляет во дворе?

15




14


В пенале у ученика 3
авторучки и 10 карандашей.
На сколько карандашей
больше, чем ручек?




В пенале у ученика 3
авторучки и 10 карандашей.
На сколько карандашей
больше, чем ручек?




В пенале у ученика 3
авторучки и 10 карандашей.
На сколько карандашей
больше, чем ручек?



В пенале у ученика 3
авторучки и 10 карандашей.
На сколько карандашей
больше, чем ручек?



В пенале у ученика 3
авторучки и 10 карандашей.
На сколько карандашей
больше, чем ручек?



Оценка 5



Оценка

4



Оценка 3



Оценка 2



Оценка 2



Оценка 2

