

В1. Практический расчет, оценка и прикидка

<u>1</u>	<u>2</u>	<u>3</u>	<u>4</u>	<u>5</u>	<u>6</u>
<u>7</u>	<u>8</u>	<u>9</u>	<u>10</u>	<u>11</u>	<u>12</u>
<u>13</u>	<u>14</u>	<u>15</u>	<u>16</u>	<u>17</u>	<u>18</u>




В ответе на эти задачи надо писать целое число (количество автобусов, число банок с краской, число пачек сахара и т.д.). Нужно самому подумать, в большую или меньшую сторону округлять результат вычислений.




Иногда в условии может требоваться округление по математическим правилам. Если в округляемом числе цифра десятых (первая цифра, стоящая после запятой) меньше 5, то число округляется в меньшую сторону, то есть все цифры после запятой отбрасываются. Например: $14,298 \approx 14$. Если в округляемом числе цифра десятых больше или равна 5, то число округляется в большую сторону, то есть к числу единиц прибавляется 1. Например: $14,51 \approx 15$.



1. Роза стоит 45 рублей. Сергей хочет подарить Свете букет из нечётного количества цветов. Из какого наибольшего числа роз он может купить букет, если у него есть 550 рублей? 


2. В пачке бумаги 250 листов формата А4. За месяц в школе используется 1200 листов. Какое наименьшее число пачек бумаги нужно купить в школу на 3 месяца?





3. В магазине проходит рекламная акция: при покупке двух пакетов яблочного сока покупатель получает ещё один пакет сока в подарок. Какое наибольшее число пакетов яблочного сока можно получить на 200 рублей, если цена одного пакета сока 34 рубля? 


4. Для приготовления мармелада на 1 кг слив нужно 1,4 кг сахара. Сколько килограммовых упаковок сахара нужно купить, чтобы сварить мармелад из 23 кг слив?




5. Урок в школе длится 45 минут. Перемены после второго и третьего уроков длятся 15 минут, а после всех остальных уроков — 10 минут. Определите, в котором часу заканчивается 5-й урок, если первый начинается в 8 ч 25 мин. 

6. В отделении больницы находятся 25 больных, которым врач назначил уколы лекарства по 2,5 мл. Уколы нужно делать 3 раза в день. В упаковке 16 ампул лекарства по 2,5 мл. Какое наименьшее количество упаковок нужно заказать на один день? 

7. Маша купила месячный проездной билет на троллейбус. Проездной билет стоит 280 рублей, а разовая поездка — 7 рублей. Сколько рублей сэкономила Маша, если за месяц она сделала 48 поездок на троллейбусе? 

8. Один килограмм картофеля на рынке стоит 30 рублей, а в магазине — 26 рублей. На сколько рублей больше Миша заплатит на рынке, чем в магазине, если он купит 3 кг 500 г картофеля? 

9. Автобус проехал до Москвы 1200 км. Цена бензина 18 рублей за литр. Средний расход топлива 20 литров на 100 км. Сколько рублей потратил на бензин водитель автобуса за эту поездку? 

10. Блокнот стоит 6 рублей 40 копеек. Какое наибольшее число блокнотов можно купить на 80 рублей?



11. На складе 217 бочек с краской и 315 бочек с эмалью. Сколько потребуется машин, чтобы перевезти все бочки со склада в магазин, если в машину помещается не более 85 бочек?



12. Платье стоит 2120 рублей. Скидка в день распродажи равна 35%. Сколько стоит платье со скидкой в день распродажи?



13. Билет на междугородный автобус для взрослого стоит 260 рублей. Стоимость билета для ребёнка до 10 лет составляет 50% от стоимости билета для взрослого. Группа состоит из 17 детей до 10 лет и 2-х взрослых. Сколько рублей стоят билеты на всю группу?



14. Подоходный налог составляет 13% от заработной платы. Сколько рублей составляет заработная плата курьера, если после удержания подоходного налога он получил 10 440 рублей?




15. За квартал завод выпустил 180 000 станков, из них 8% не прошли ОТК (оказались с браком). Среди прошедших ОТК станков 45% были проданы в течение одного квартала. Сколько станков было продано в течение первого квартала?



16. Анна Владимировна купила в магазине стиральную машину в кредит на год под 12% годовых. Стиральная машина стоит 24 тысячи рублей. Сколько рублей Анна Владимировна должна вносить ежемесячно за машину, если всю сумму кредита вместе с процентами нужно погасить за год, выплачивая ежемесячно одинаковую сумму денег?



17. Блокнот стоил 6 рублей. После переоценки он подорожал на 10%. Сколько таких блокнотов можно купить на 80 рублей после переоценки? 

18. В американских автомобилях скорость на спидометре измеряется в милях в час. Американская миля равна 1609 м. Какова скорость автомобиля в километрах в час, если спидометр показывает 47 миль в час? Ответ округлите до целого числа.



Спасибо за работу!