
**Смекай, считай,
отгадывай!**

1 - й конкурс

**«Капитаны,
вперёд!»**


Маски

Из каких геометрических фигур составлена каждая маска? Какая из масок лишняя? Почему? Докажи. (За правильный ответ – 2 очка.)

○ I команда



○ II команда



Загадки – шутки

(за правильный ответ 3 очка)

- Сколько горошин может войти в обыкновенный стакан?
- На какое дерево садится ворона во время дождя?
- Пара лошадей пробежала 20 км. По сколько км. пробежала каждая лошадь?
- Если в 12 часов дня идёт дождь, то можно ли ожидать через 36 часов солнечной погоды?

2 – й конкурс

«Выполни действия
алгоритма»

(За правильный ответ – 4 очка)

● **I команда**

**Алгоритм «Сделай
бутерброд»**

- намажь маслом хлеб;
- достань масло и сыр;
- положи сверху кусочек сыра;
- стоп;
- отрежь кусочек хлеба;
- возьми хлеб;
- отрежь кусочек сыра;
- возьми нож.

● **II команда**

**Алгоритм «Пришей
пуговицу»**

- возьми рубашку;
- стоп;
- пришей пуговицу;
- положи всё на место;
- вдень нитку в иголку;
- подбери пуговицу;
- отрежь нитку;
- возьми нитку, иголку и ножницы.

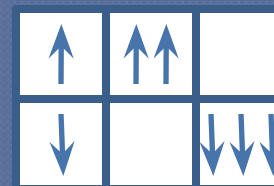
3 – й конкурс

«Закономерность»




Найдите закономерность. Дорисуйте недостающие фигуры.
Заполните таблицу недостающими фигурами.
(За правильный ответ – 4 очка)

● I команда



● II команда



4 – й конкурс
«Дорисуй...»

(За правильный ответ – 4 очка.)

● I команда

Нужно дорисовать всем цветкам лепестки. Ни в одном столбце и ни в одной строке не должно быть одинаковых цветков.

•	•	•	•
•	•	•	•
•	•	•	•
•	•	•	•

● II команда
