


# Путешествие к Робинзону Крузо





Математика

# Решить примеры



Составить примеры на табличное умножение с заданным ответом:

18      24      36



Из цифр  
1,2,3,4,5,6,  
составь несколько  
двузначных чисел,  
которые делятся на  
7.

# Решение задачи

Наш повар взял на корабль дворняжку. И вот эта хитрая Плюха прокралась на кухню и съела целую связку из 9 сосисок. Известно, что длина одной сосиски 10 см.

Чему равна длина связки?

$$9 \cdot 10 = 90 \text{ см.}$$

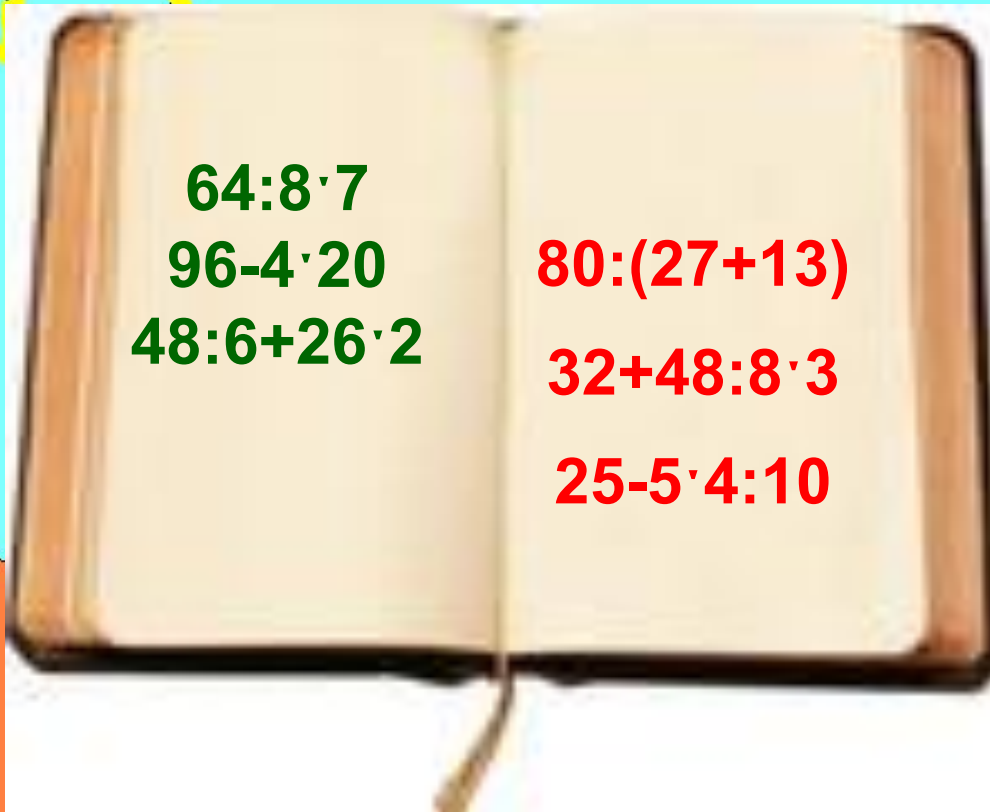
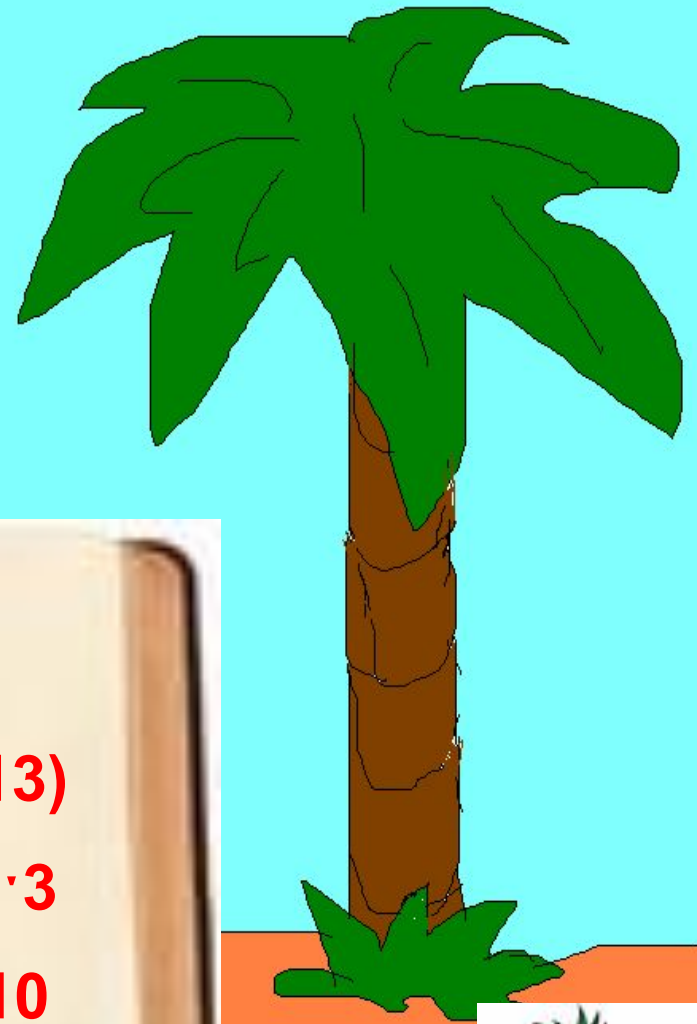


Плюха-ха





$$64:8 \cdot 7$$
$$96-4 \cdot 20$$
$$48:6+26 \cdot 2$$


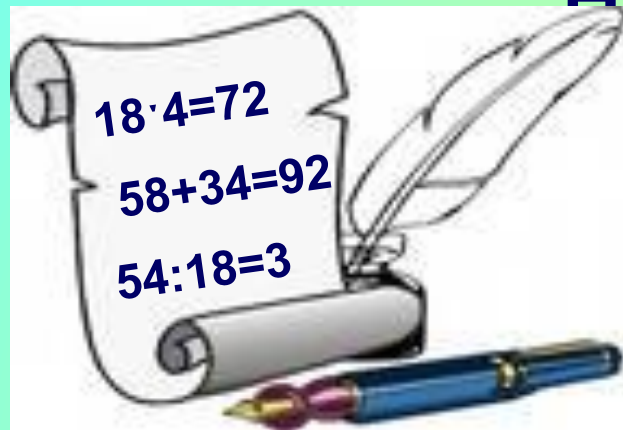


$$64:8 \cdot 7$$
$$96-4 \cdot 20$$
$$48:6+26 \cdot 2$$


$$80:(27+13)$$
$$32+48:8 \cdot 3$$
$$25-5 \cdot 4:10$$



# Решение примеров с проверкой



## Задача



- 15 шт.



- ? В 2 раза больше

?

# Деление с остатком

$$33:5=6(\text{ост.}3)$$

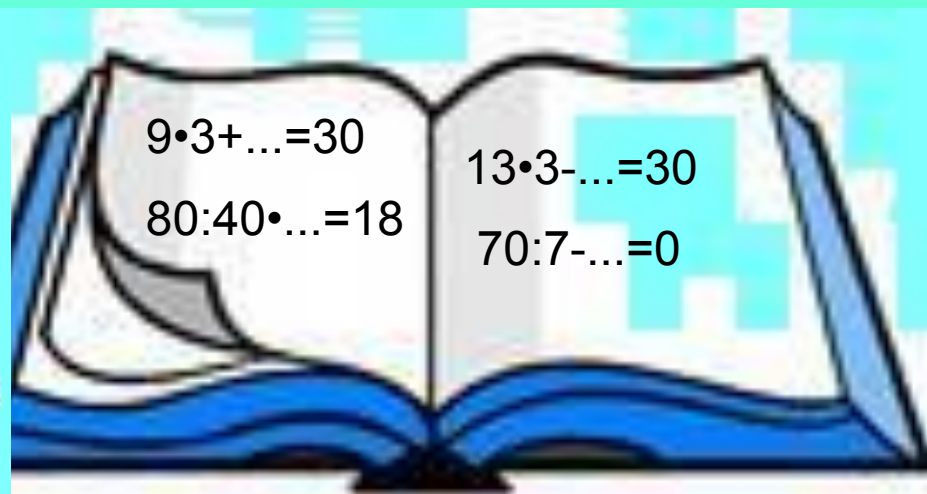
$$64:7=9(\text{ост.}1)$$

$$30:4=7(\text{ост.}2)$$

$$46:8=5(\text{ост.}6)$$



# Вставить пропущенные числа.



# Сравнить выражения



$$10+5) \cdot 2 \dots 13 \cdot 4$$

$$28:7+14:2 \dots (28+21):7$$

$$40:5+9 \dots 30:3$$



# Найти ошибки в примерах.



$$75 \cdot 0 = 75$$
$$9 \cdot 10 = 90$$
$$93 \cdot 1 = 1$$
$$78 + 12 = 90$$

$$60 : 30 = 20$$
$$14 \cdot 2 = 30$$
$$0 : 42 = 42$$
$$79 - 36 = 30$$



# Задача

I — 5кг.

II — в 12 раз больше

В первый год жизни на острове Робинзон Крузо собрал со своего участка 5 кг. пшеницы, а во второй год в 12 раз больше. Сколько за два года он собрал пшеницы?



До новых  
встреч !!!!

