





# ПУТЕШЕСТВИЕ В СКАЗКУ

Табличные случаи   
умножения и  
деления

2 класс

математика

Автор: Лукьянова Т.Н.  
МБОУ «Дудневская школа»





$6 \cdot 6$

$6 \cdot 8$

$6 \cdot 4$

$6 \cdot 7$

$6 \cdot 2$

$6 \cdot 9$

$6 \cdot 3$

Добро пожаловать!

$\begin{matrix} 1 \\ 8 \end{matrix}$

$\begin{matrix} 3 \\ 6 \end{matrix}$

$\begin{matrix} 4 \\ 8 \end{matrix}$


$\begin{matrix} 1 \\ 4 \end{matrix}$

$\begin{matrix} 2 \\ 4 \end{matrix}$

$\begin{matrix} 4 \\ 2 \end{matrix}$

$\begin{matrix} 5 \\ 4 \end{matrix}$






Задание 1

Задание 2

Задание 3



# Задание 1


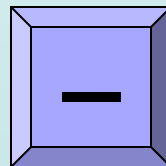
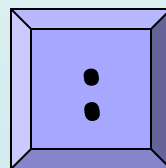
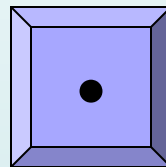
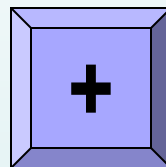
Вставь пропущенные знаки действий

$6 ? 3 = 9$

$6 - 3 = 3$

$6 \cdot 3 = 18$

$6 : 3 = 2$



$9 ? 3 = 27$

$9 : 3 = 3$

$9 + 3 = 12$

$9 - 3 = 6$



# Задани

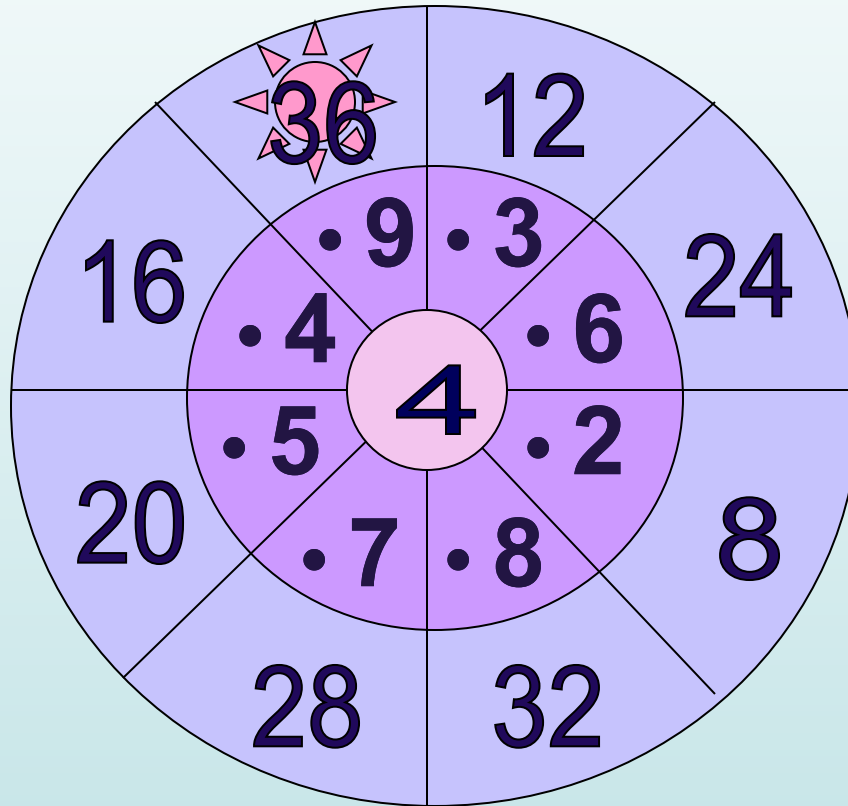
Выполни умножение  
е 2

8

1  
2

1  
6

2




2  
4

2  
8

3  
2

3





# Задани



Кликни мышкой по числам, которые  
делятся на 8

14

32

45

63

48

16

36

40

64

81


18

24

56

68

72






Платъе

Карета и кони

Туфельки








# Задани



решите задачу, запишите математическое выражение

**В поле бабочки летали,  
Лепестки цветов считали.  
На одном цветке их пять.  
Сможете вы сосчитать?  
Сколько будет лепестков  
Если шесть всего цветков?**


$$5 \cdot 6 = 30 \text{ (лепестков)}$$





# Задани



рши задачу, запиши математическое  
выражение

Три бельчонка маму – белку

Ждали около дупла.


Им на завтрак мама – белка

Девять шишек принесла,

Разделила на троих.

Сколько каждому из них?

$$9 : 3 = 3 \text{ (шишки)}$$






# Задани



решите задачу, запишите математическое выражение

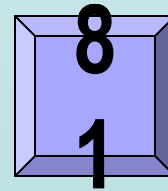
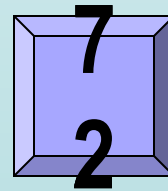
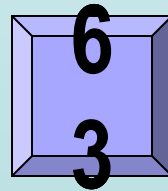
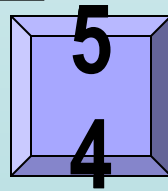
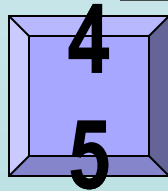

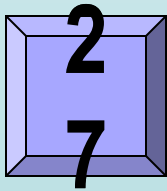
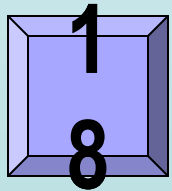
**Мышка зёрна собирала  
По два зёрнышка таскала,  
Принесла их девять раз.  
Каков мышки стал запас?**







$$2 \cdot 9 = 18 \text{ (зёрен)}$$




9 • 6





# ФИЗМИНУТКА






# Задани

Реши задачу





**К двум зайчатам в час обеда  
Прискакали три соседа.  
В огороде зайцы сели  
И по три морковки съели.  
Кто считать, ребята, ловок,  
Сколько съедено морковок?**





# Задани

Соедини шарики с примерами и шарики с правильными ответами



7 • 3 =

5 • 6 =



5 • 4 =

5 • 9 =

5 • 8 =

6 • 4 =

5 • 5 =



45

32

35

21


25

24

40

30




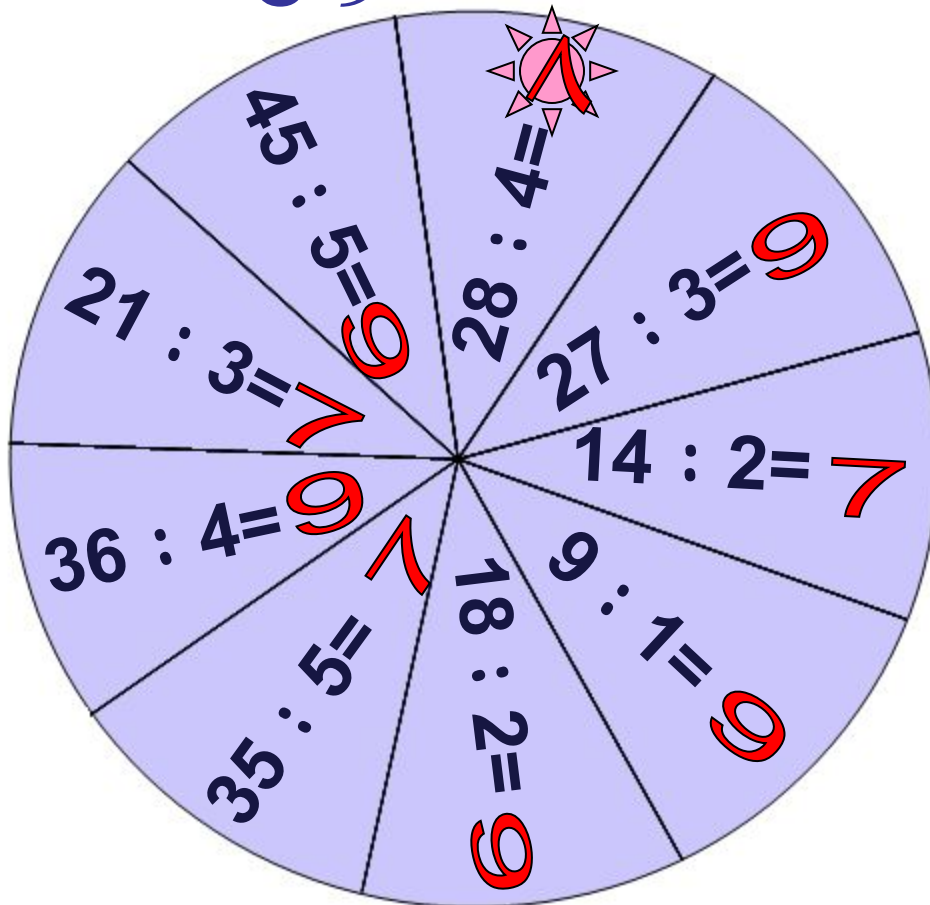
20



# Задани

Выполни деление

9







# До новых встреч!



# ССЫЛКИ:

- <http://ann-pages.narod.ru/cl77.gif> - Золушка
- <http://kalinkastudio.narod.ru/cindy5.gif> - Золушка
- <http://tritroichki.narod.ru/disney120.gif> - карета
- <http://i006.radikal.ru/0712/9d/f18fffd5755f.png> - завитушка
- <http://tritroichki.narod.ru/kartiny/kar1.gif> - пейзаж