

Геометрия, 7 класс

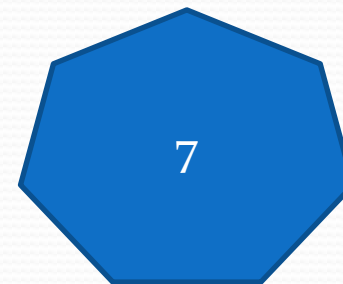
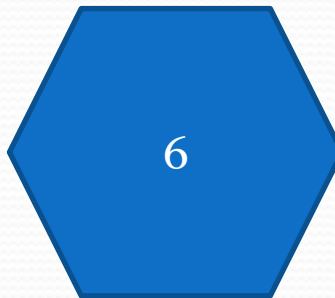
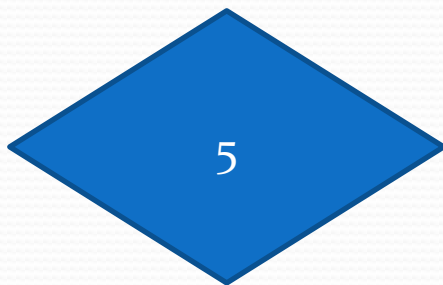
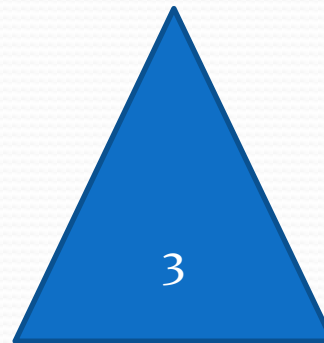
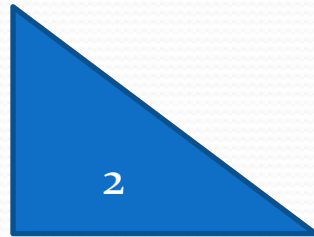
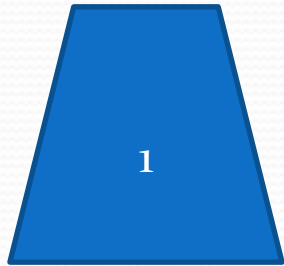
«Треугольники»

Из заданных слов составьте определение треугольника

- Фигура, это, из трех, треугольник, из трех, геометрическая, которая, точек, на одной, и отрезков, состоит, не лежащих, отрезков, прямой, последовательно, точки, эти соединяющих.

Определите из данных фигур:

1. треугольники;
2. прямоугольные треугольники;
3. равнобедренные треугольники



Найдите лишнее слово:

- Сторона, вершина, основание, диаметр, периметр.
- Диаметр, центр, радиус, периметр, хорда.

Задача

- Найдите углы прямоугольного равнобедренного треугольника