

**Числа от 1 до 100**  
**Сложение и вычитание**


**Закрепление**

# Телеграмма

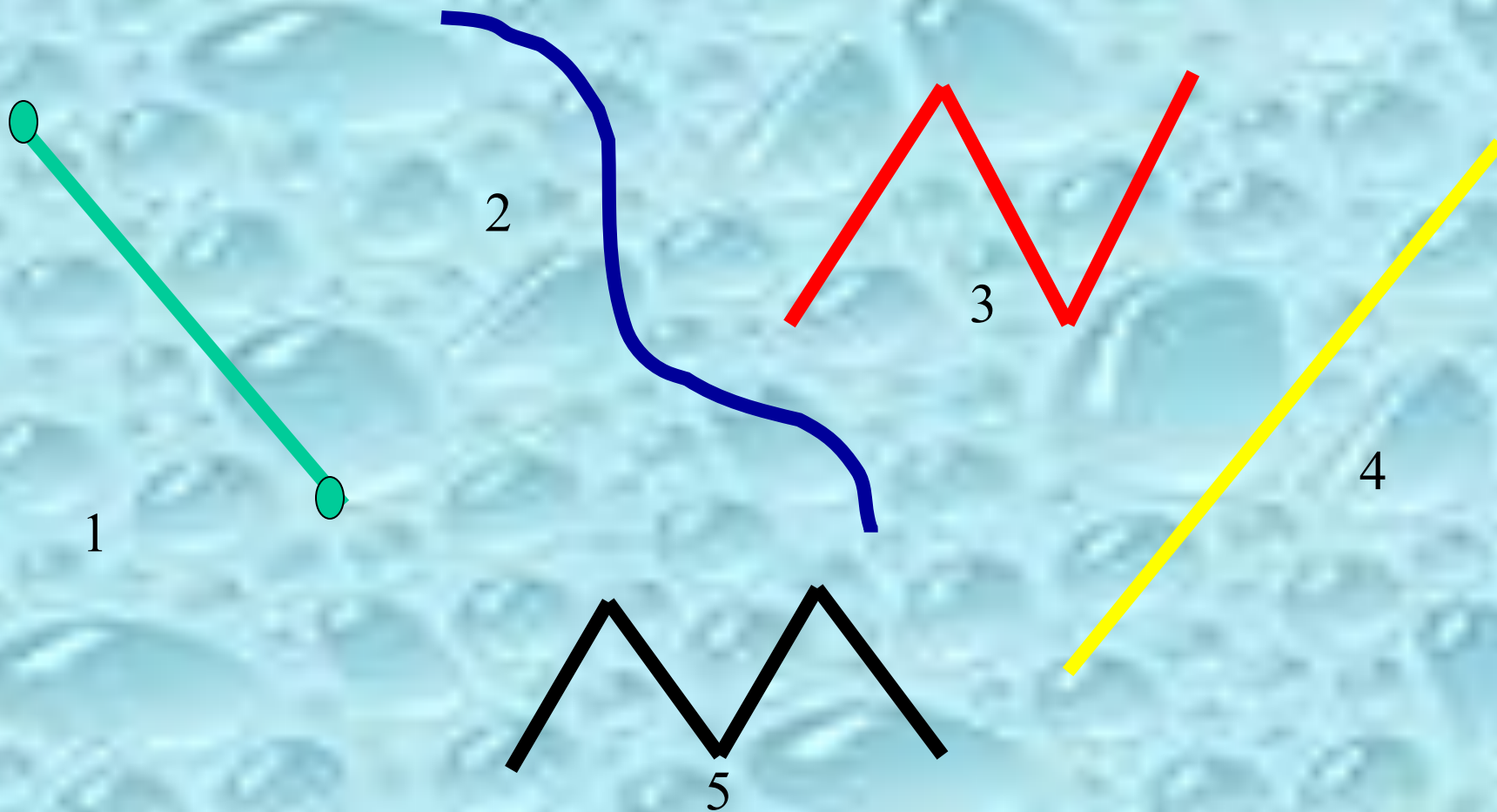
Ребята, исчезла Феона.  
Помогите её спасти.

Шрек





# Назови номера ломаных



# Вставь пропущенные числа

$$70 + \boxed{4} = 74$$

$$89 - \boxed{80} = 9$$

$$\boxed{40} + 7 = 47$$

$$\boxed{53} - 50 = 3$$

Прочитай и вычисли

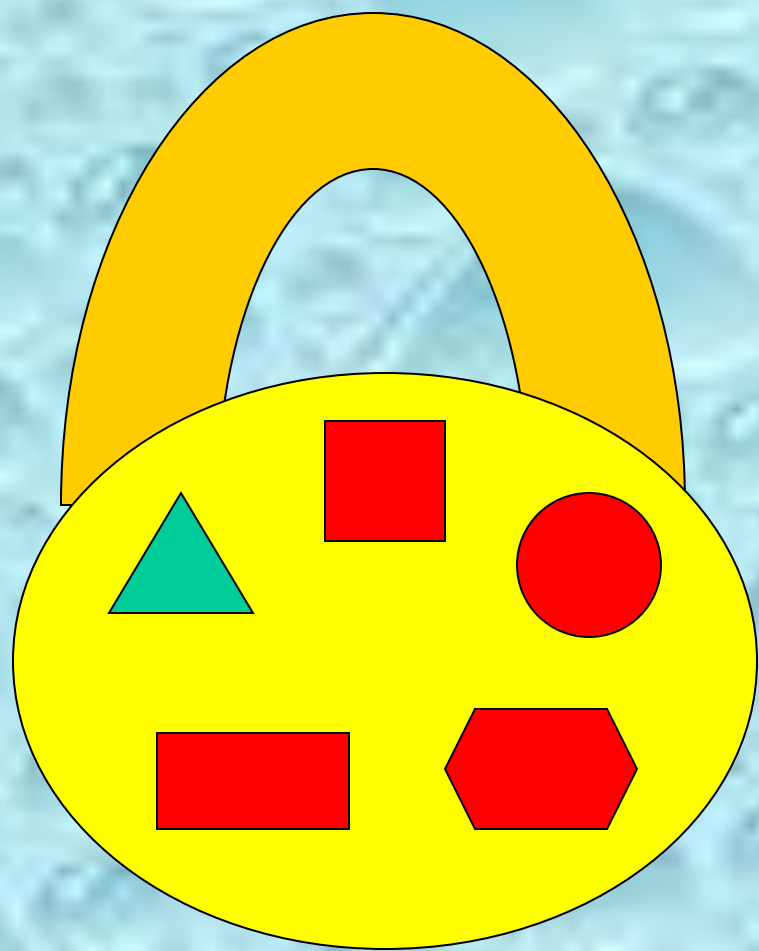
$$17 - (10 - 3)$$

$$10 - (3 + 6)$$

$$13 - (2 + 8)$$

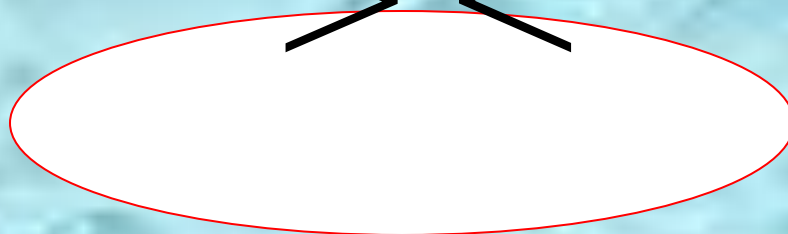
Три девочки Мария, Катя, Ира держат шарик разных цветов- синий, жёлтый, зелёный. У Марии шарик не зелёный. У Кати шарик не зелёный и не жёлтый. Скажите, какого цвета шарик у каждой девочки.

	Синий	Жёлтый	Зелёный
Мария		+	
Катя	+		
Ира			+





> <




=

$$17 - 8 * 10$$

$$5 * 12 - 7$$

$$20 * 9 + 9$$

$$20 * 10 + 10$$



Составь задачу и реши её.

?

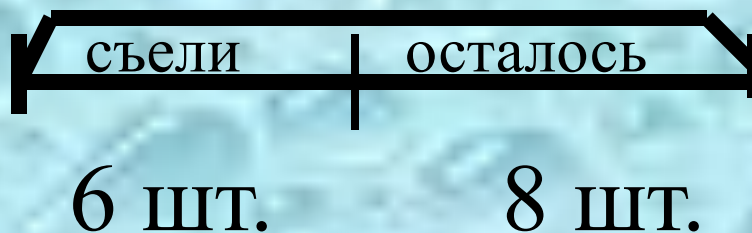
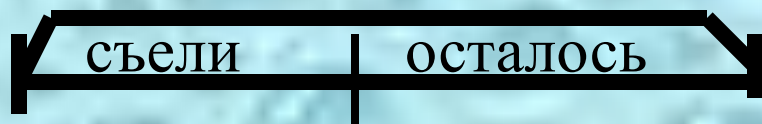


Схема №1

14 шт.

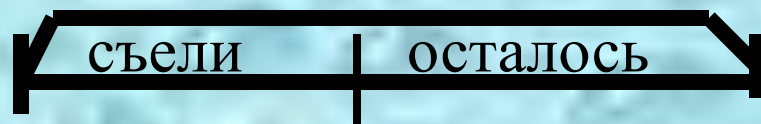


6 шт.

?


Схема №2

14 шт.



?

8 шт.



# Проверь

$$9 + 2 - 6 = 5$$

$$16 - 6 + 1 = 11$$

$$8 + 6 = 14$$


$$9 + 3 - 6 = 6$$

$$16 - 7 + 1 = 10$$

$$80 + 6 = 86$$

$$9 + 8 = 17$$

$$90 + 8 = 98$$



# Тест

## Числа от 1 до 100

1. Найди число, в котором 5 десятков и 3 единицы.

35      63      53

2. Сколько всего единиц в 3 десятках?

3      0      30

3. Между какими числами находится число 21 ?

22 и 23      20 и 22      19 и 20

4. Уменьшаемое 35, вычитаемое 4 . Найди разность.

39      31      29

5. Найди самое большое двузначное число, составленное цифрами 7 и 3.

37      77      73      33

6. В каком ряду числа расположены в порядке убывания?

А) 22, 34, 37, 42, 58, 84

Б) 22, 19, 32, 21, 19, 45

В) 51, 47, 32, 21, 19, 14

7. Из данных чисел найди наименьшее число, оканчивающиеся цифрой 3.

33      53      13      93

8. Вставь вместо звёздочки знак «<», «>» или «=».

5дм 3см \* 51 см


9. Какое число надо вычесть из 26, чтобы получить 5?


21      11      15

10. Папе 45 лет, он старше мамы на 3 года. Сколько лет маме?

40      48      42









Спасибо!

**Молодцы!**