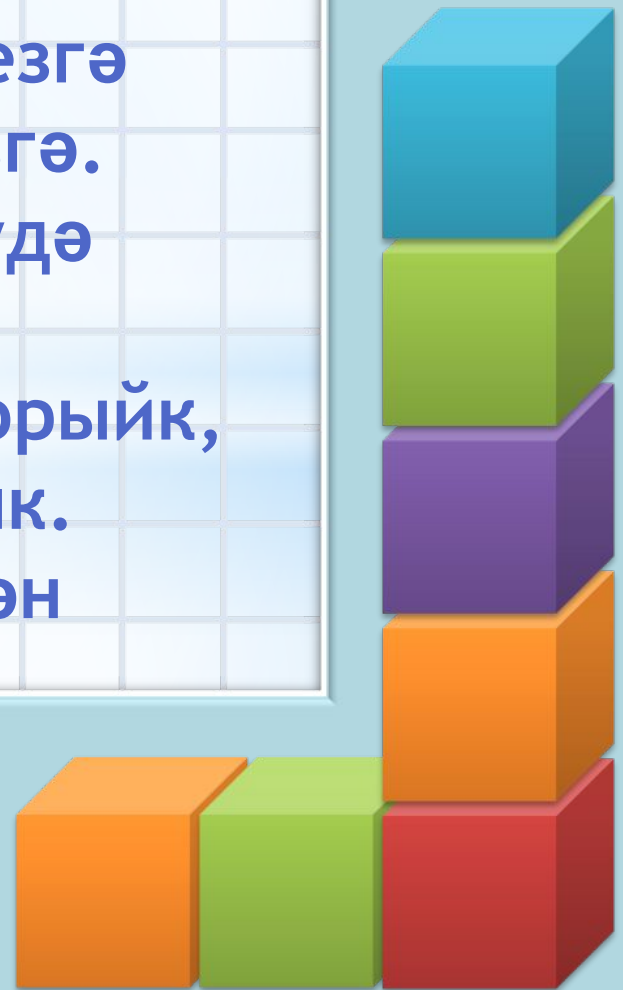


Хæерле көн, дуслар, сезгæ
Хæерле көн, һæммæгезгæ.
Математиканы өйрәнүдæ
Уңышлар телим сезгæ
Гел бишлелæр алып торыйк,
Өлкәннәрне сөендерик.
Шушы изге телæк белән
Хæзер эшкæ керешик!



*Текст слайда

“ Без үзебезнең табигатьнең
хужалары һәм ул безнең өчен бөек
тормыш байлыклары туплаган
қояш хәзинәсе”.
М. ПРИШВИН.




nachalo4ka.ru

1. Текст тайда Өч кешедән торган гаиләгә бер тәүлеккә 60 кг чиста һава кирәк. Безнең сыйныфка ничә кг һава кирәк булыр икән, әгәр сыйныфта 7 кеше булса? 0

*

Телдән исәпләү

nachalo4ka.ru



2. Бүлмэдэ су краны ага.6 минутта
1 стакан тула. Өгэр 1 литрга 5
стакан су керсэ ,1 сэг ничэ литр су
агар икэн? **П**

3. Тукран бер тэүлектэ шулкадэр
агач бөжэге ашый.

$$3234 - *** = 2484 \quad \mathbf{M}$$

4. Жир шарындагы 250000 төр үсемлекнең $1/10$ өлеше югалу чигендә тора. Ничә төр үсемлек югалу чигендә тора? **К**



5. Камка (божья коровка) бер
тәүлектә шулкадәр гөблә
ашый.

$$*** + 263 = 423 \text{ Ч}$$

6. Ябалак бер елда шулкадәр
кыр тычканы тотта.

$$**** - 438 = 562 \mathbf{A}$$

Сайрасын ал таңда
сандугач,
Кипмәсеннәр зәңгәр бу
күлләр.
Жир йөзөндә тормыш
дәвам итсен,
Саклык жиребезне,
кешеләр!

Почмакларның төрләре

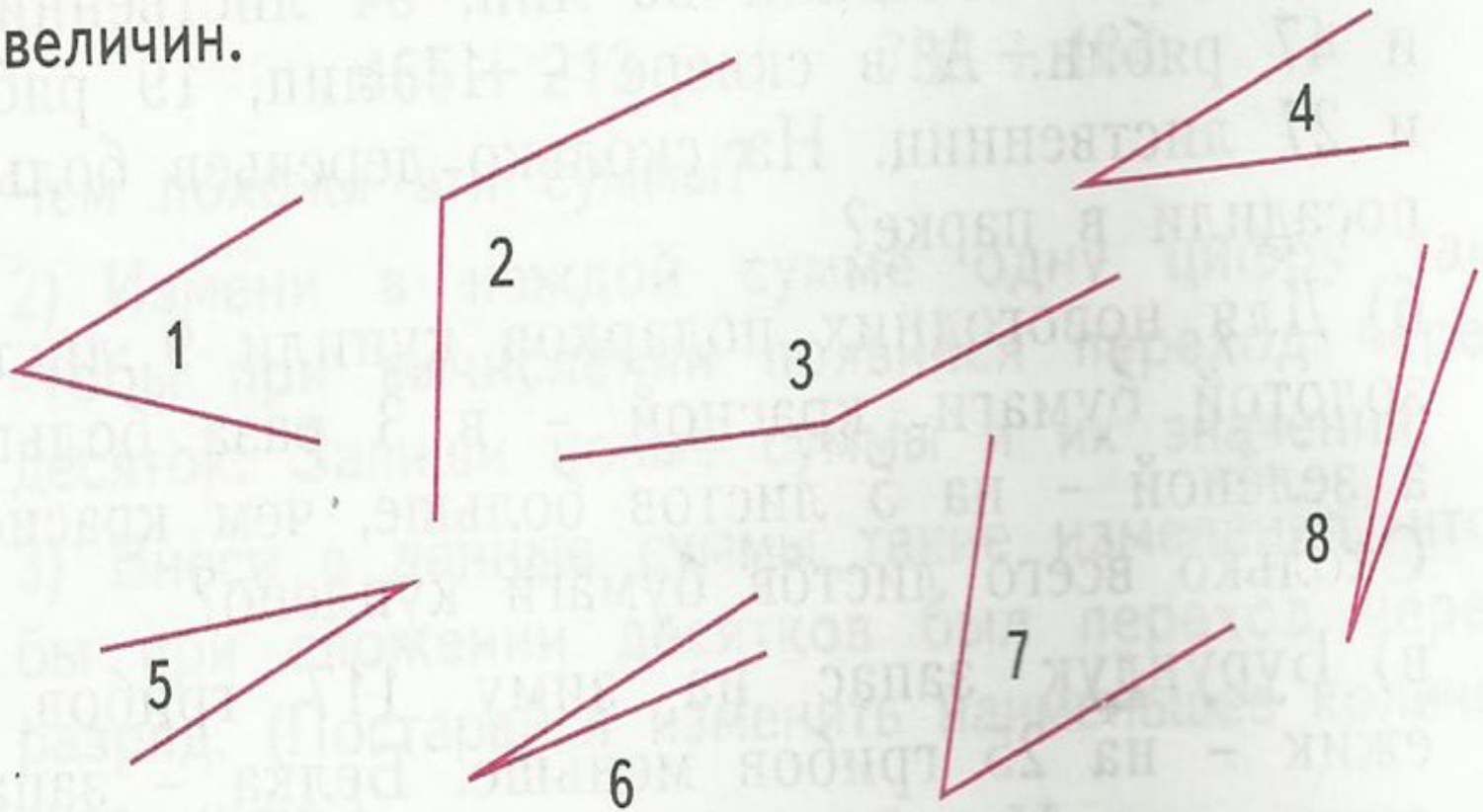


* Ике нурдан торган
геометрик фигура почмак
дип атала.

Туры почмактан кечерәк булган
почмакны - ***кысынкы*** почмак
(острые углы) дип атыйлар.

*Туры почмактан зуррак булган
почмакны - *жәенке* почмак
(тупые углы) дип атыйлар.

1) Запиши номера углов в порядке убывания их величин.



3, 2, 7, 1, 4, 5, 8, 6