

ОКРУЖАЮЩИЙ МИР

4 класс

ФГОС

УМК «Перспектива»

Автор: Пешехонова Ольга Павловна

учитель начальных классов

МБОУ «СОШ №5» г. Саров

2014 год

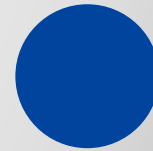

ТЕСТ

«Карта – наш экскурсовод»





Выбери ответ.

Нарисуй кружок нужного цвета.





Кружки рисуй в строчку.



1. Что такое карта?

-  уменьшенная модель Земли
-  схема местности
-  уменьшенное изображение
земной поверхности на плоскости
-  чертёж объектов

2. Как называются знаки, с помощью которых на карте обозначены различные объекты?

-  **специальные**
-  **условные**
-  **картографические**
-  **географические**

3. Укажи направление на север на карте?



вверх



вниз



слева



справа

4. Какая сторона горизонта изображена на карте слева?



север



юг



запад



ВОСТОК

5. Каким цветом на карте обозначена вода?



зелёным



коричневым



красным



голубым

6. Что на карте показано зелёным цветом?



НИЗМЕННОСТИ



ГОРЫ



ВОЗВЫШЕННОСТИ



ВСЯ СУША

7. Что на карте показано жёлтым цветом?



НИЗМЕННОСТИ



ГОРЫ



ВОЗВЫШЕННОСТИ



ВСЯ СУША

8. Что на карте показано оранжевым или коричневым цветом?



НИЗМЕННОСТИ



ГОРЫ



ВОЗВЫШЕННОСТИ



ВСЯ СУША

9. Какие объекты не обозначены на карте?

-  горы
-  дома
-  реки
-  острова


10. Какие объекты обозначены на карте таким знаком?

-  горы
-  дома
-  реки
-  острова



11. Какие объекты обозначены на карте таким знаком?

-  горы
-  озёра
-  реки
-  острова






12. Какие объекты обозначены на карте таким знаком?

-  **пески**
-  **озёра**
-  **реки**
-  **болота**



13. Какие объекты обозначены на карте таким знаком?



-  государственная граница
-  реки
-  граница полярных владений
-  болота





14. Какие объекты обозначены на карте таким знаком?



- государственная граница
- масштаб
- граница полярных владений
- острова

15. Какие объекты обозначены на карте таким знаком?

● 4688

-  расстояние между объектами
-  масштаб
-  отметка высот над уровнем моря
-  острова

16. Какие объекты обозначены на карте таким знаком?







-  города
-  острова
-  отметка высот над уровнем моря
-  столица

17. Что обозначено таким знаком?





0 300 км




-  границы полярных владений
-  масштаб
-  отметка высот над уровнем моря
-  расстояние между городами

Запиши, как читать этот знак.


18. Как называются карты, на которых изображены равнины, горы, моря, реки и другие природные объекты?

-  **политическая**
-  **природная**
-  **физическая**
-  **природных зон**











19. Как называются карты, на которых цветом показаны области, республики и другие регионы или страны?

-  **политическая**
-  **природная**
-  **физическая**
-  **природных зон**

20. Как называются карты, на которых цветом показаны арктическая пустыня, тундра, тайга, леса, степи и пустыни?

-  **политическая**
-  **природная**
-  **физическая**
-  **природных зон**

Проверь себя

1	2	3	4	5	6	7	8	9	10
									

11	12	13	14	15	16	17	18	19	20
