




Найди лишнее. Объясни почему?
Элементы какого множества
остались?



Найди лишнее. Объясни почему? Элементы какого множества остались?





Найди лишнее. Объясни почему?
Элементы какого множества
остались?



Нарисуйте забор между двумя группами животных.



Назови множество



МЕБЕЛ Ь





Грибы



РЫБЫ





П
Т
И
Ц
Ы



Игрушк

и



ДЕРЕВЬЯ



Растения

КУСТЫ



Обведите: красным маркером множество животных, синим маркером множество деревьев, зелёным маркером множество колючих предметов.

