

**Для самых
умных!**



В каком углу
игрушек
больше?





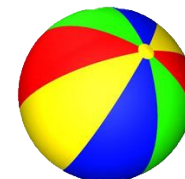


Какой формы игрушек меньше, а какой больше?

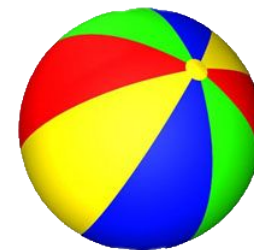
У какой пирамидки меньше колец?

Какая пирамидка самая высокая и почему?





Сколько
игрушек не
смогут
поиграть с
мячом?



Назови
формы

