

Составляем и решаем задачи. Урок 38


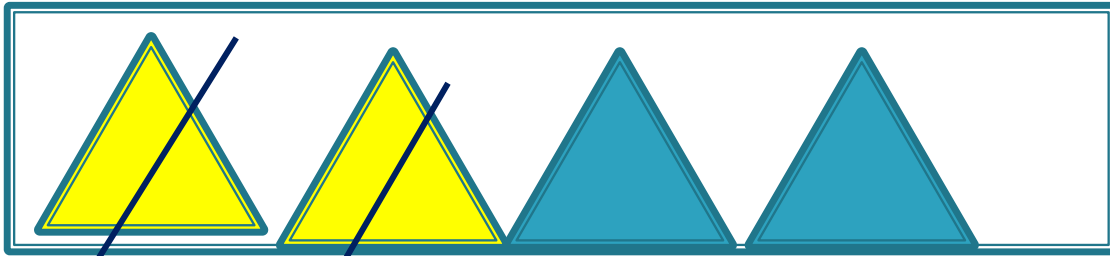

Учитель начальных классов
МБОУ «ООШ с. Ивановки»
МО «Енотаевский район»
Боброва И. В.

Продолжи ряды чисел

а) 1, 3, 2, 4, 3, 5, 4, 6,


б) 2, 5, 3, 6, 4, 7, 5, 8, 6,

в) 5, 3, 4, 2, 3, 1, 2,




5. Прочитай запись и назови результат.

7
8




$9 - 2 = \square$

7
8



$9 + 1 = \square$

Составь другие записи с числами 7 и 8.

6.  Распредели эти фигуры на группы.

