

# ЧИСЛО 10

Урок математики

1 класс



*Вот опять звенит звонок,*




*Приглашает на урок.*

*Будем вместе мы считать,*

*Складывать и вычитать!*





# УСТНЫЙ СЧЕТ








Игра

«ДЖУНГЛИ»






# Правила игры





- Ты попал в математические джунгли.
- Это опасный мир!
- Будь внимателен!
- Если правильно решишь пример -тебя ожидает встреча с травоядным животным.
- Если ошибешься - встретишься с опасным хищником!



$$4 + 5$$




$$3 + 5$$




$$8 - 6$$

4




1





2






3



5










Поздравляем!



Ты благополучно выбрался  
из джунглей!



$$2 + 4 = 6$$

$$3 + 4 = 8$$

$$8 - 3 = 6$$

$$9 - 6 = 3$$

$$7 - 4 = 3$$



**ВЕРБЛЮД**

Мы с мамой в зоопарке были,  
Зверей с руки весь день кормили.

**Верблюда**, зебру, **кенгуру**

И длиннохвостую **лису**.

Большого серого **слона**

Увидеть я едва смогла.

Скажите мне скорей, друзья,

Каких зверей видала я?

А если их вы счесть смогли,

Вы просто чудо! Молодцы!



**зебра**



**кенгуру**



**лиса**



На забор влетел петух,  
Повстречал ещё там двух.  
Сколько стало петухов?  
У кого ответ готов?



Расставил Андрюшка  
В два ряда игрушки.  
Рядом с **мартышкой**-  
Плюшевый **мишка**.  
Вместе с **лисой**-  
**Зайка** косой.  
Следом за ними-  
**Ёж** и **лягушка**.  
Сколько игрушек  
Расставил  
Андрюшка?






**Семь гусей пустились в путь.  
Два решили отдохнуть.  
Сколько их под облаками?  
Сосчитайте, дети, сами.**



*Три цыпленка стоят  
На скорлупки глядят.  
Три яичка в гнезде  
У наседки лежат.  
Сосчитай поверней,  
Отвечай поскорей:  
Сколько будет цыплят  
У наседки моей?*



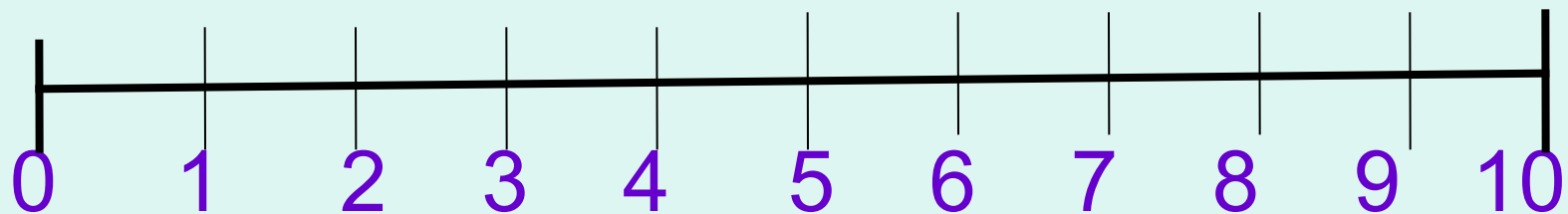
Какие цифры потерял Вова?

1 2 .3. 4 5 .6. 7 8 .9. ...





# Восстановите числовой отрезок





**Молодцы!**

# Ссылки

-Петерсон Л.Г. Математика 1 класс.  
Методические рекомендации. М.:  
Издательство «Ювента», 2006.

- Петерсон Л.Г. Математика 1 класс.Часть 1.М.:  
Издательство «Ювента», 2006.