

Правила дорожного движения



ПЕРВЫЙ РАУНД

ОБЩИЕ ПОЛОЖЕНИЯ

10

20

30

40

ОБЯЗАННОСТИ ПЕШЕХОДОВ

10

20

30

40

ОБЯЗАННОСТИ ПАССАЖИРОВ

10

20

30

40

ФИЗМИНУТКА

ВТОРОЙ РАУНД

ДВИЖЕНИЕ ВЕЛОСИПЕДОВ, ПОВОЗОК, МОПЕДОВ

20

40

60

80

ЗНАКИ

20

40

60

80

ПРОЕЗД ПЕРЕКРЕСТКОВ

20




40

60

80

ТРЕТИЙ РАУНД

KOT B MEШKE



МОЛОДЦЫ!!!

Общие положения -10

Какие транспортные средства по Правилам относятся к маршрутным транспортным средствам?



Общие положения -20



**Сколько перекрестков
изображено на рисунке?**



Общие положения -30



На каком рисунке изображена дорога с разделительной полосой?



Общие положения -40



Какой маневр совершает легковой автомобиль?



Обязанности пешеходов-10

По каким частям дороги
должны перемещаться
пешеходы?



Обязанности пешеходов-20

Как следует поступить если
пешеход не успел
закончить переход дороги?



Обязанности пешеходов-30

Как необходимо
двигаться пешеходу
при движении по
краю проезжей
части?



Обязанности пешеходов-40

Как нужно
переходить дорогу
если в зоне
видимости нет
пешеходного
перехода?



Обязанности пассажиров -10

Кто должен быть
пристегнут ремнями
безопасности при
поездке?



Обязанности пассажиров -20

Можно ли детям до 12-ти лет ездить на переднем сиденье автомобиля рядом с водителем?



Обязанности пассажиров -30

Можно ли перевозить детей в возрасте до 12 лет на заднем сиденье мотоцикла если на них есть мотошлем?



Обязанности пассажиров-40

Когда можно
производить посадку
и высадку в/из
транспортного
средства?



ДВИЖЕНИЕ ВЕЛОСИПЕДОВ, ПОВОЗОК, МОПЕДОВ-

20

С какого возраста
можно управлять
велосипедом?



ДВИЖЕНИЕ ВЕЛОСИПЕДОВ, ПОВОЗОК, МОПЕДОВ-40

Можно ли управлять
велосипедом или мопедом
одной рукой?



ДВИЖЕНИЕ ВЕЛОСИПЕДОВ, ПОВОЗОК, МОПЕДОВ-60



Обязан ли водитель автомобиля уступить дорогу велосипедисту, который движется по велосипедной дорожке, пересекающей проезжую часть?




ДВИЖЕНИЕ ВЕЛОСИПЕДОВ, ПОВОЗОК, МОПЕДОВ-80

Можно велосипедисту
поворачивать налево
или разворачиваться на
дорогах с трамвайными
путями?



Знаки-20



Что обозначает
ЭТОТ знак?



Знаки-40



Какой из знаков распространяет свое действие только на ту полосу, над которой он установлен?





Знаки-60



Что запрещено в зоне действия этого знака?

Знаки-80



Что обозначают эти
знаки?



Проезд перекрестков-20

Если на перекрестке работает
и светофор и регулировщик,
чьи требования должны
выполнять участники
дорожного движения?



Проезд перекрестков-40

При движении по нерегулируемому перекрестку кто должен уступить дорогу- водитель автомобиля или водитель трамвая?



Проезд перекрестков-60



В каком случае водитель
автомобиля должен
уступить дорогу
пешеходам?



Проезд перекрестков-80




Водитель автомобиля собирается повернуть налево. Кому он должен уступить дорогу?






В какую сторону разрешает движение такой жест регулировщика?




Что
обозначает
ЭТОТ знак?






**В какую сторону
автомобиль может
продолжить движение?**






Для кого предназначен
этот светофор?






Что
обозначает
ЭТОТ знак?



Какой знак
обозначает
кемпинг?



Список использованных ИСТОЧНИКОВ:

<http://pddmaster.ru/documents/pdd> - правила дорожного движения

Изображение светофора -

http://images.yandex.ru/yandsearch?text=%D1%81%D0%B2%D0%B5%D1%82%D0%BE%D1%84%D0%BE%D1%80&fp=0&img_url=http%3A%2F%2Fcs403527.userapi.com%2Fg40611363%2Fe_b4e8b2a8.jpg&pos=3&uinfo=ww-998-wh-591-fw-773-fh-448-pd-1&rpt=simage

Изображение кота в мешке -

http://images.yandex.ru/yandsearch?text=%D0%BA%D0%BE%D1%82%20%D0%B2%20%D0%BC%D0%B5%D1%88%D0%BA%D0%B5&fp=0&img_url=http%3A%2F%2F4.bp.blogspot.com%2F_SJm3-n4SO0o%2FTKG5KDurxzl%2FAAAAAAAAAAE8s%2Fp5xUyO8kb7Y%2Fs1600%2F1.JPG&pos=0&uinfo=ww-998-wh-591-fw-773-fh-448-pd-1&rpt=simage

Изображение знаков дорожного движения - <http://kuruh.ru/dorznaki>

Изображение дорожных ситуаций - <http://avto-russia.ru/pdd/>