



# Занимательная

математика



# Ребусы





чис



сч




1



2



5



8



З



Н

А

К



МИН

ус



ТОЧ



зад



**СКВО**

**рец**  
**1000**янк

**а** **СТОЯ**

# Задачи-тесты



# Выбери правильный

7 воробьишек спустились на  
грядки,  
Скачут и что - то клюют без  
оглядки.

Котик - хитрюга внезапно  
подкрался,  
Мигом схватил одного и умчался.

Всех как паша клевать, без  
оглядки!

Силько репел их ста  
грядке:

0

6

5



# Выбери правильный

ответ

Дед, баба, внучка, Жучка, кошка и мышка тянули-тянули репку и, наконец, вытянули. Сколько глаз смотрело на репку?

10

12

8





**Выбери правильный  
ответ**



**Два щенка-баловника  
Бегают, резвятся,  
К шалунишкам три щенка  
С громким лаем мчатся.  
Вместе будет веселей.  
Сколько собралось  
друзей?**

4

5

6



**Выбери правильный**  
**ответ**

**Семь листьев Вася сам  
собрал,  
Два листика Алеша дал.  
Скажите, сколько у него  
Осенних листиков всего?**

**7**

**9**

**8**



# Логические задачи



# Свечи.

*В комнате горело 50 свечей, 20 из них задули. Сколько останется?*



*Ответ: останется 20 свечей, остальные сгорят, а задутые свечи не сгорят полностью.*

Сидят три барана, против  
каждого барана - два барана,  
много ль всех?



*Ответ: 3 барана.*

*Сестре 4 года, брату 6 лет.  
Сколько лет будет брату, когда  
сестре исполнится 6 лет?*



***Ответ: 8 лет.***