

# Сложение рациональных чисел

**Ваганова Е.Р.**  
**МОУ «Новокулындинская СОШ»**



Вопрос 1. Найди сумму чисел

$$-3,5 + (-1,75)$$

5,25

-5,25

-4,25

-1,75



Вопрос 2. Найди сумму чисел

$$8,13 + (-32,49)$$

– 24,36

24,36

– 40,62

40,62



### Вопрос 3. Найди сумму чисел

$$-12,67 + 24,13$$

-11,46

11,46

36,8

-36,8



## Вопрос 4. Найди сумму чисел

$$-12,365 + (-0,98)$$

-13,345

13,345

-22,165

-11,485



## Вопрос 5. Найди сумму чисел

$$-1,358 + 12,35$$

-0,123

13,708

-10,992

10,992



## Вопрос 6. Найди сумму чисел

$$-165,3 + (-23,59)$$

188,89

401,2

-188,89

-141,71



## Вопрос 7. Найди сумму чисел

$$-325,7 + 82,76$$

50,19

242,94

-50,19

-242,94





## Вопрос 8. Найди сумму чисел

$$6,257 + 15,39 + (-32,58)$$

-10,933

54,227

-12,356

34,68



## Вопрос 9. Найди сумму чисел

$$-6,23 + 7,3 - 9,8$$

8,73

-8,73

-23,33

23,33



**Вопрос 10. Найди сумму чисел**

$$-6,32 - (-22,36) - (+15,3)$$

31,34

-0,74

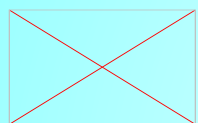
0,74

-31,34



## Вопрос 11. Вычислить

$$(-3,7 - 2,4) - \left( \frac{7}{15} - \frac{2}{3} \right)$$



5,9

-5,9

6,3



Вопрос 12. Найди расстояние между точками

$A(6,9)$  и  $B(-3,4)$

3,5

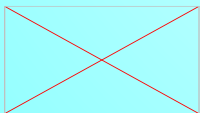
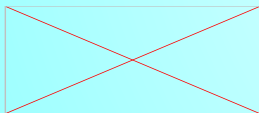
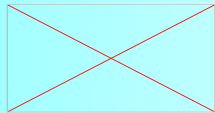
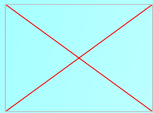
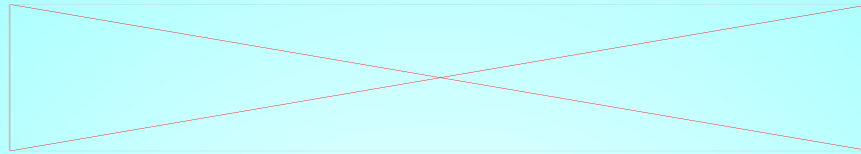
-10,3

10,3

-3,5

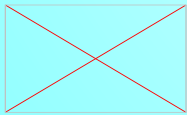

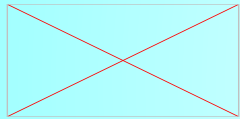
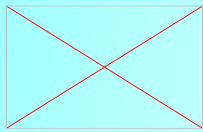


## Вопрос 13. Найди сумму чисел

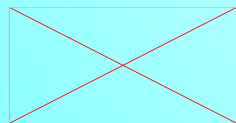
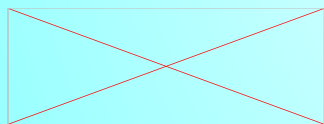
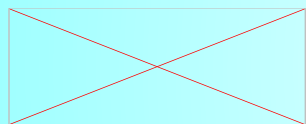
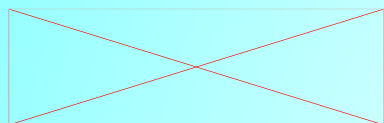


## Вопрос 14. Найди сумму чисел

$$\left(\frac{6}{35} - \frac{4}{7}\right) - (-1,8 - 4,3)$$

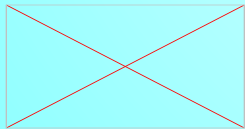
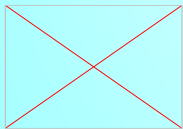
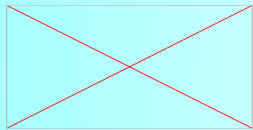
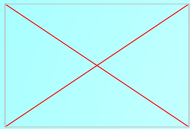
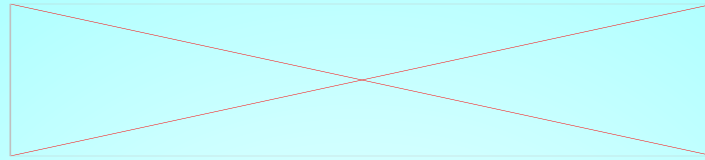


**Вопрос 15. Найди расстояние между точками  
С(-23,5) и Д(-16,36)**

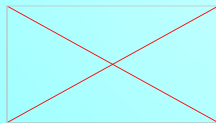
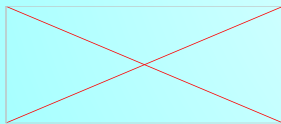
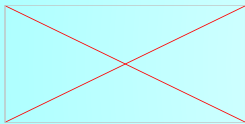
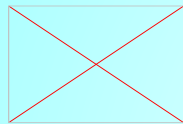
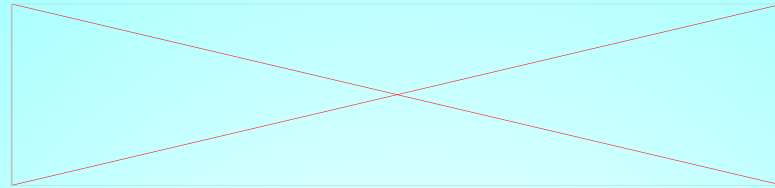




## Вопрос 16 Решить уравнение



## Вопрос 17 Решить уравнение



# Правильных ответов:

ВЫХО

Д

В начало