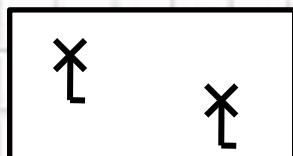


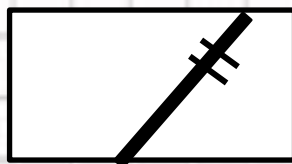
Решение задач по теме «План и карта» в 6 классе.




Определите объект по условным знакам:



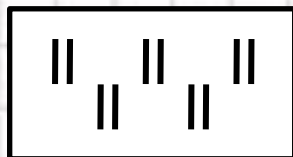
Мельница




Железная
дорога



Фруктовый
сад



Луг



Колодец



Переведите численный масштаб в именованный:

1:600000

В 1 см 6 км

1:9000

В 1 см 90

М

1:73000000


В 1 см 730

КМ



Чему соответствует расстояние на местности

а



300м

б

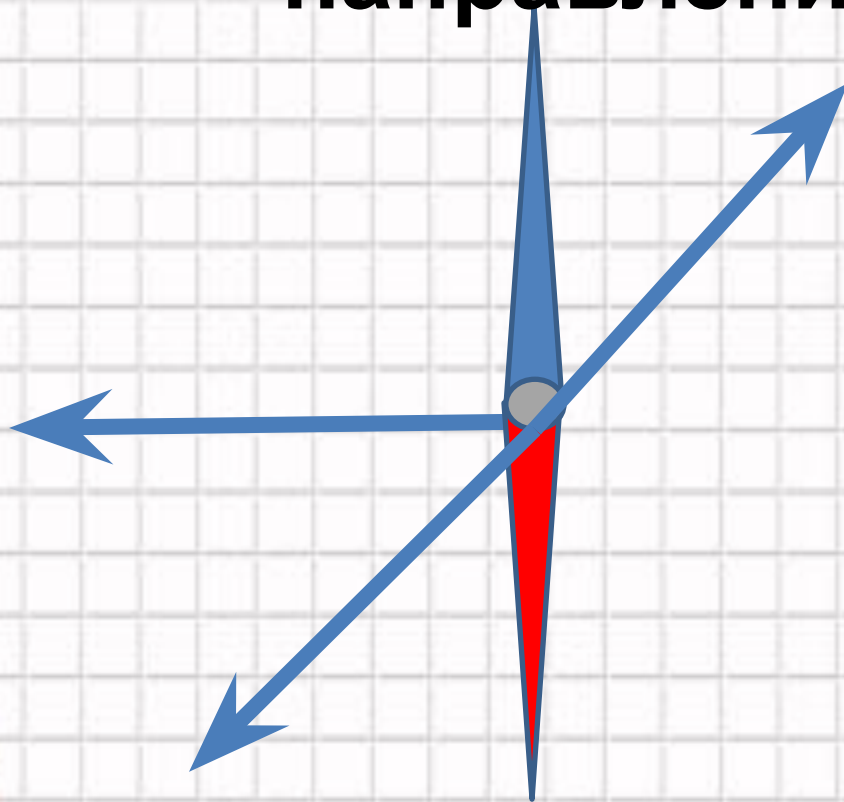


150м



Масштаб: в 1см 50м

Определите азимут ,предложенных направлений:



180°

270°

225°

360°

45°



Начертите маршруты движения на плане:

1. От мельницы по **азимуту 315°** 350 метров до родника


2. От мельницы по **азимуту 90°** 200 метров до обрыва

3. От мельницы по **азимуту 360°** 100 метров до шоссе с линией электропередач

4. От мельницы по **азимуту 135°** 100 метров до озера




Масштаб :в 1 см 50
метров

род. 

С 

Ю

клен  $\frac{12}{0.20}$ 3



Запад, 200м



Северо-восток, 250м



Источники информации.

<http://dotalis.ru.com/?c=result&query=%D0%94%D0%B5%D1%82%D1%81%D0%BA%D0%B8%D0%B5%20%D0%BF%D1%80%D0%B5%D0%B7%D0%B5%D0%BD%D1%82%D0%B0%D1%86%D0%B8%D0%B8%20%D0%A2%D0%B5%D0%BC%D1%8B> Фон
презентации

<http://5klass.net/datas/geografija/Geografija-6-klass-masshtab/0008-008-Sostavte-rasskaz-ispolzuja-predstavlennye-uslovnye-znaki.jpg> условные знаки

<http://900igr.net/datai/geografija/Karta-plan/0007-004-2.-Uslovnye-znaki.png> условные знаки

