

урок

МАТЕМАТИКИ

в 3-6 классе

Ивакина Елена Александровна, учитель начальных классов
МОУ СОШ №7 г. Ртищево, Саратовской области

Китай

Пекин

XXIX летняя

Олимпиада



23 – золотые медали

21 – серебряная медаль

28 – бронзовых медалей

Талисман российской сборной



Тема урока:

Приёмы

письменного




сложения

трёхзначных чисел

переходом через

десяток







23 – золотые медали

21 – серебряная медаль

28 – бронзовых медалей

Елена Исинбаева



Елена Исинбаева





23 – золотые медали

28 – бронзовых медалей

Сколько золотых и бронзовых медалей привезла Российская сборная домой?

$$\begin{array}{r} + 28 \\ 23 \\ \hline 258 \end{array}$$

Андрей Сильнов



236

CM

Дмитрий Клоков



423 кг



Евгений
Чигишев

460 кг

Оксана Сливенко



255кг

Анастасия Давыдова Анастасия Ермакова



Рабочая тетрадь «Математика»

с 26, №83

**Евгения Полякова, Юлия Гущина
Александра Федориева
Юлия Чермошанская**



• В соревнованиях по тяжёлой атлетике

Дмитрий Клоков в первой попытке поднял штангу массой **193** кг, а во второй попытке – **230** кг. Найдите результат спортсмена по сумме этих двух попыток.

Елена Дементьева



Верно ли, что

$$5\text{ м}05\text{ см}=505\text{ см}$$

Верно ли, что

$$985\text{г} = 9\text{кг} 85\text{г}$$

Верно ли, что

$$4\text{ м } 75\text{ см} = 475\text{ дм}$$

Верно ли, что



20км =
2000м

Верно ли, что

1 час 26 мин = 86 мин



Верно
ли, что

1 час 19 мин = 69 мин

1. Выбери пару величин, которые можно сравнивать и сравни их.

300м < 3км

43м * 34т

85кг * 82км

2. Верно ли, что

1 вопрос	2 вопрос
+	+

3. Ответ: **572**

1. Выбери пару равных величин и подчеркни её.

5т80кг * 5800кг

1 3ц * 13000кг

3кг40г * 3040г

2. Верно ли, что

1 вопрос	2 вопрос
--	+

3. Ответ: **602**

1.Сравни:

$$86\text{кг} + 13\text{кг} = 99000\text{г}$$

$$425\text{дм} + 75\text{дм} < 500\text{м}$$

2. Верно ли, что

1 вопрос	2 вопрос
--	--

3. Ответ: 1124

2014 год

Зимние

Олимпийские

Игры в Сочи.



Выбирай:

1. №121, с 50 т. «Дружим с математикой»
2. №85, с27 т.«Математика»
3. №202, с48 учебник