



Размещение и миграции населения мира. (Тренажер и проверочный тест). 10 класс

Жидкина Галина Петровна учитель географии МБОУ "СОШ №3" г. Дальнереченск



## **Дорогой друг!**

**Перед тобой образовательный ресурс по теме «География населения мира». Его первый уровень представляет собой тренажёр, с помощью которого ты можешь вспомнить основные положения по теме «Миграция и размещение населения» и усовершенствовать свои умения и навыки.**

**Второй уровень – проверочный тест, за который ты получишь отметку.**

**Надеюсь, что эти занятия помогут тебе закрепить знания по географии.**

**Перед работой с тестом не забудьте нажать на кнопку «включить содержимое»**

**Желаем удачи!**

**Перейти к тренажёру**

**Перейти к тесту**

## **Инструкция по работе с учебным тренажёром**

- 1. Каждое задание имеет 4 варианта ответа. Ты должен выбрать один правильный ответ.**
- 2. Если ты выбрал ответ правильный, появится «плюс».**
- 3. Если ты выбрал ошибочный ответ, появится «минус».**
- 4. Переход к следующему заданию осуществляется по кнопке внизу.**

**Желаю удачи!**







**1. Подавляющая часть населения проживает в высокогорных районах:**

- Бангладеш и Непале** 
- Дании и Венгрии** 
- Мексике и Боливии** 
- Уругвае и Пакистане** 



2. Из перечисленных стран наибольшая средняя плотность населения характерна для:

- Индия и Бельгия 
- Мали и Нигер 
- Япония и Чад 
- Бразилия и Монголия 





**3. Из перечисленных стран наименьшая плотность населения характерна для стран:**

- Испания и Мексика** 
- Мали и Нигер** 
- Индия и Пакистан** 
- Индонезия и Филиппины** 



4. Для какой из перечисленных стран характерен миграционный прирост населения?



**Египет**



**Пакистан**



**Индонезия**



**Дания**



**5. Укажите страну с самой высокой средней плотностью населения:**



**Италия**



**Канада**



**Бангладеш**



**Болгария**





6. Для какой из перечисленных стран характерен наибольший приток иммигрантов?



**Иран**



**Канада**







**Монголия**



**Эфиопия**



## 7. В каком из высказываний содержится информация о проявлении миграции населения?

- Во многих странах Европы смертность на каждую тысячу жителей превышает рождаемость, в результате чего численность населения снижается. 
- В результате гражданской войны в Либерии были вынуждены покинуть места обитания 500 тыс. человек и бежать в соседние страны 800 тыс. человек. 
- В настоящее время на долю развивающихся стран приходится более  $\frac{4}{5}$  всего ежегодного прироста городских жителей в мире. 
- В России, в странах зарубежной Европы, Северной Америки показатель экономически активного населения превышает среднемировой – 45% 



8. В настоящее время наибольшее количество трудовых эмигрантов дают:

Нидерланды и Италия



Монголия и Сингапур







Индия и Мексика



Бразилия и Норвегия





9. В настоящее время наибольшее количество иммигрантов принимают:

- Германия и США 
- Великобритания и Мексика 
- Алжир и Ямайка 
- Египет и Швейцария 



**10. В настоящее время США принимают наибольшее количество иммигрантов из:**

- Европы и Австралии** 
- Латинской Америки и Европы** 
- Африки и Азии** 
- Азии и Латинской Америки** 





## **Как ты оцениваешь свою работу на тренажёре?**

**Знания отличные! Перехожу к тесту!**

**Было много ошибок, необходимо поработать с  
правилом.**







# Инструкция по работе с тестом

1. Проверочный тест состоит из 10 заданий. Каждое задание имеет 4 варианта ответа, один из которых - правильный.
2. Прежде чем нажимать переключатель хорошо подумай, потому что, ответив, ты перейдёшь к следующему вопросу и не сможешь внести изменения в свой ответ.
3. Чтобы узнать свой результат, нажми на кнопку «Результат». Ты увидишь общее число верных ответов, отметку за тест и таблицу результатов по каждому вопросу.
4. Ты можешь просмотреть свои ошибки, нажав на соответствующую кнопку. Переход от слайда к слайду в режиме просмотра ошибок важно производить по кнопкам в нижнем правом углу слайда.
5. Если хочешь повторить тест, то обнули результат (кнопка «Сброс результатов») и нажми на кнопку «Повторить тест».



1. Крупнейшие сгустки населения сформировались на низменностях:

- Восточной Азии** 
- Латинской Америки** 
- Центрально-Восточной Европы** 
- Северной Африки** 



**2. Из перечисленных низменностей наиболее  
плотно заселена:**



**Ла-Платская**



**Оринокская**



**Прикаспийская**



**Индо-Гангская**



3. Крупнейшие сгустки населения сформировались в приустьевых частях рек:

Муррей и Лена



Нил и Амазонка



Ганг и Янцзы



Конго и Меконг





4. Подавляющая часть населения проживает в высокогорных районах в:

Дании и Венгрии 





Мексике и Боливии 

Аргентине и Пакистане 

Бангладеш и Непале 







5. Самая высокая средняя плотность населения расположена в:

- Австралия 
- Бразилия 
- Бангладеш 
- Канада 







6. Из перечисленных стран наименьшая средняя плотность населения характерна для стран:

- Индонезии и Нидерландов 
- Монголии и Чад 
- Германия и Италии 
- Великобритании и Пакистана 







7. В настоящее время страны Персидского залива принимают наибольшее количество иммигрантов из:

- Африки и Европы 
- Азии и Латинской Америки 
- Африки и Азии 
- Латинской Америки и Австралии 



8. В настоящее время странами трудовой иммиграции являются:

- Испания и Турция 
- Франция и Кувейт 
- Италия и Пакистан 
- Марокко и Япония 





## 9. В каком из высказываний содержится информация о миграциях?



Крупные города образуют зоны притяжения, формируя городские агломерации из множества близко расположенных к ним городов и поселков.



Предгорья Северного Кавказа - один из плотно заселенных районов с густой сетью крупных сельских поселений.



В нефтедобывающих странах Персидского залива в результате притока мужской рабочей силы из других стран мужчин больше, чем женщин.



В Канаде 2/3 населения проживает в южной 50-километровой зоне, протянувшейся вдоль границы с США.



10. Для какой из перечисленных стран характерен наибольший приток иммигрантов?



Украина



Мексика



Индия



Австралия



# Подведём итоги

Верных ответов

Отметка

<b>1</b>	<b>2</b>	<b>3</b>	<b>4</b>	<b>5</b>	<b>6</b>	<b>7</b>	<b>8</b>	<b>9</b>	<b>10</b>
<b><u>В</u></b>	<b><u>В</u></b>	<b><u>В</u></b>	<b><u>В</u></b>	<b><u>В</u></b>	<b><u>В</u></b>	<b><u>В</u></b>	<b><u>В</u></b>	<b><u>В</u></b>	<b><u>В</u></b>

**Просмотр ошибок**

