




Смотайте данную нитку из букв и
вы узнаете тему задания.



- Накладные карманы

ВИДЫ КАРМАНОВ ПО ФОРМЕ НИЖНЕГО СРЕЗА:


- 1 ПРЯМОУГОЛЬНЫЙ 
- 2 ЗАКРУГЛЁННЫЙ 
- 3 ФИГУРНЫЙ 

- **Третий лишний**

1



2



3



1



2



3



1



2



3



1

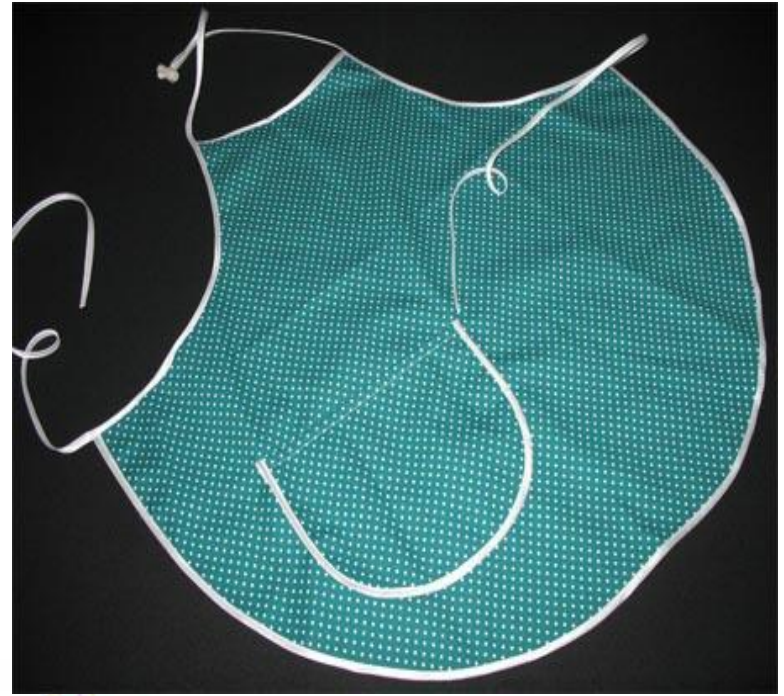


2




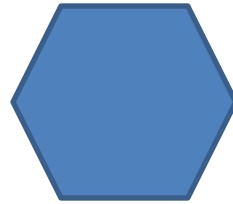

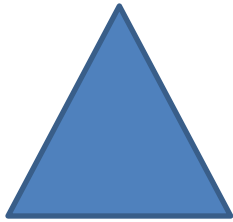

3

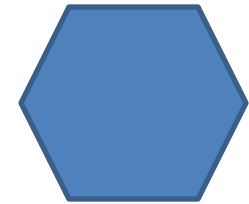

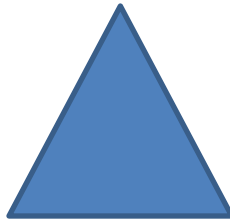






ВИДЫ КАРМАНОВ ПО ФОРМЕ НИЖНЕГО СРЕЗА:

- 1 ПРЯМОУГОЛЬНЫЙ
- 2 ЗАКРУГЛЁННЫЙ
- 3 ФИГУРНЫЙ





ШАБЛОН-

ЭТО ОБРАЗЕЦ, ПО

КОТОРОМУ РАСКРАИВАЮТ

ДЕТАЛИ ИЗДЕЛИЙ.

Составьте предложение со словом шаблон.

НАПРИМЕР:

4

5

2

1

6

С помощью, можно, карман,
шаблона,

3

выкроить.

1

2

3

4

5

Карман можно выкроить с помощью

6

шаблона.

Установите соответствие

Фигурный карман

Прямоугольный карман

Закруглённый карман
шаблон

закруглённый шаблон

фигурный шаблон

прямоугольный

- Фигурный карман
 - Прямоугольный карман
 - Закруглённый карман
- шаблон
- закруглённый шаблон
фигурный шаблон
прямоугольный
-
- The diagram consists of three bullet points on the left and three text labels on the right. Three arrows originate from the right side of the bullet points and point to the right side of the text labels. The top arrow points from 'Фигурный карман' to 'закруглённый шаблон'. The middle arrow points from 'Прямоугольный карман' to 'фигурный шаблон'. The bottom arrow points from 'Закруглённый карман' to 'прямоугольный шаблон'.

- ШАБЛОН , НУЖЕН, КАРМАНА,
ПРЯМОУГОЛЬНОЙ , ФОРМЫ,
ДЛЯ , ПРЯМОУГОЛЬНОГО.

- ШАБЛОН
ПРЯМОУГОЛЬНОЙ ФОРМЫ
НУЖЕН ДЛЯ
ПРЯМОУГОЛЬНОГО
КАРМАНА .

- ФИГУРНЫЙ , КАРМАНА,
ПОНАДОБИТСЯ,
ШАБЛОН , ФИГУРНОГО,
ДЛЯ.

- ФИГУРНЫЙ ШАБЛОН
ПОНАДОБИТСЯ ДЛЯ
ФИГУРНОГО КАРМАНА.

ШАБЛОН , ФОРМЫ , ДЛЯ,
ЗАКРУГЛЁННОЙ,
ЗАКРУГЛЁННОГО ,
НЕОБХОДИМ, КАРМАНА.


Для закруглённого кармана
необходим шаблон
закруглённой формы.

Составление фигур из спичек.

1. Составить квадрат из 8
спичек.

2. Составить из тех же
спичек
пятиугольник.

Наш шаблон будет в форме
ПЯТИУГОЛЬНИКА

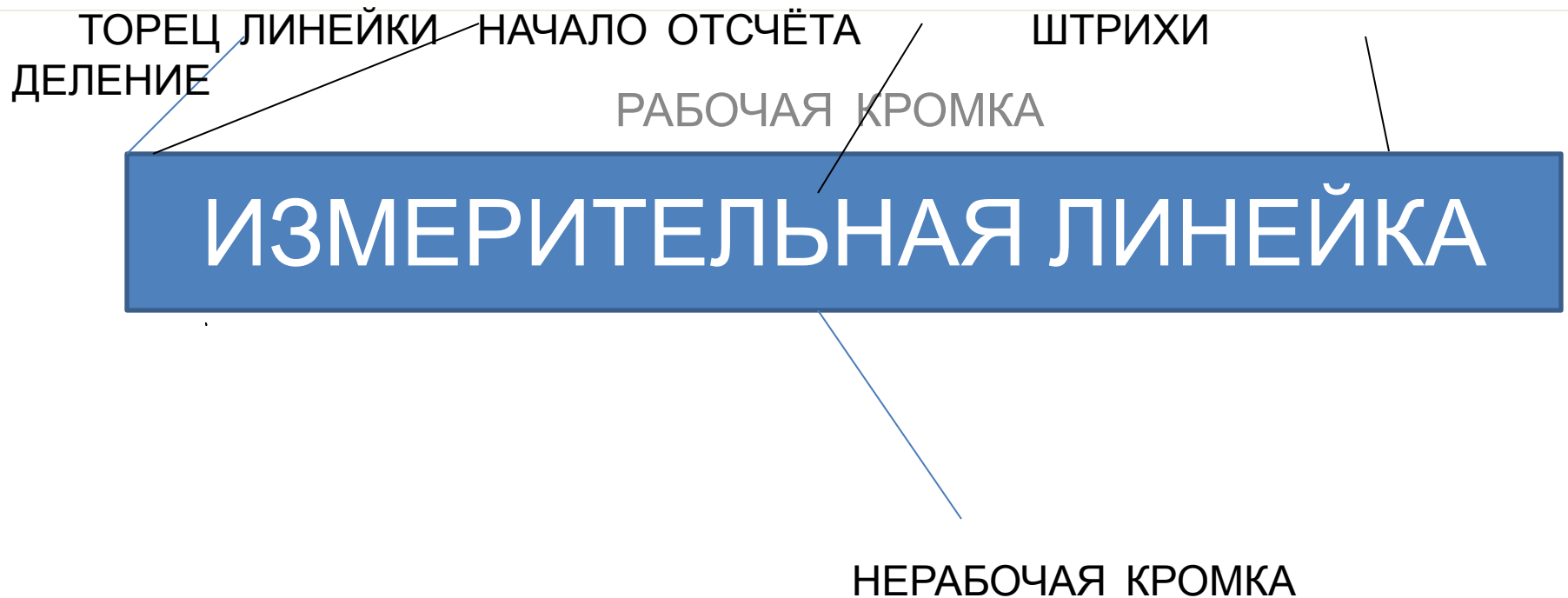




Тема урока:

- Изготовление шаблона фигурного кармана.

УСТРОЙСТВО ИЗМЕРИТЕЛЬНОЙ ЛИНЕЙКИ



ИЗМЕРИТЬ ДЛИНУ ОТРЕЗКОВ

1

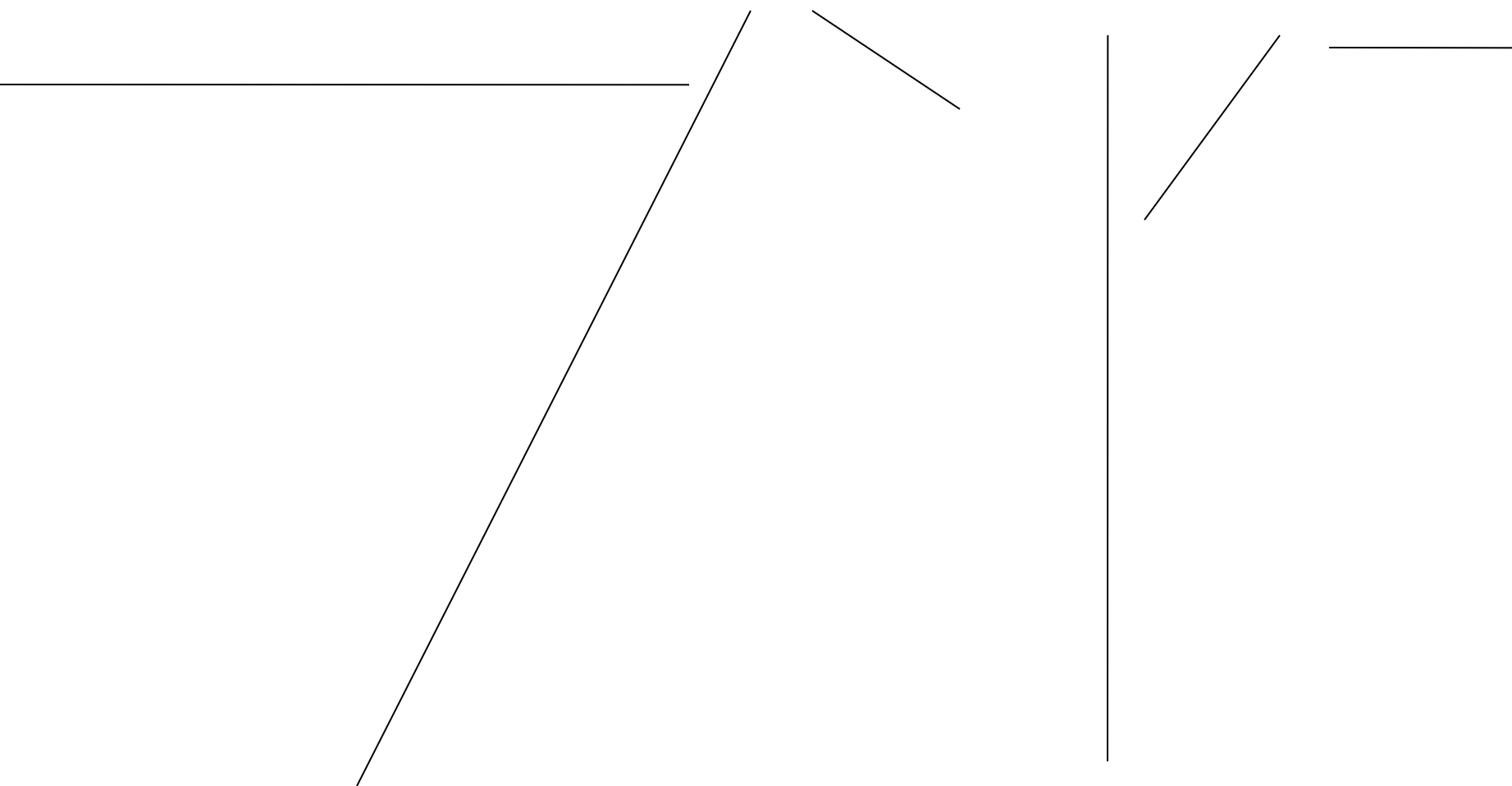
2

3

4

5

6



самопроверка

1

2

3

4

5

6

12_{CM}

16,5_{CM}

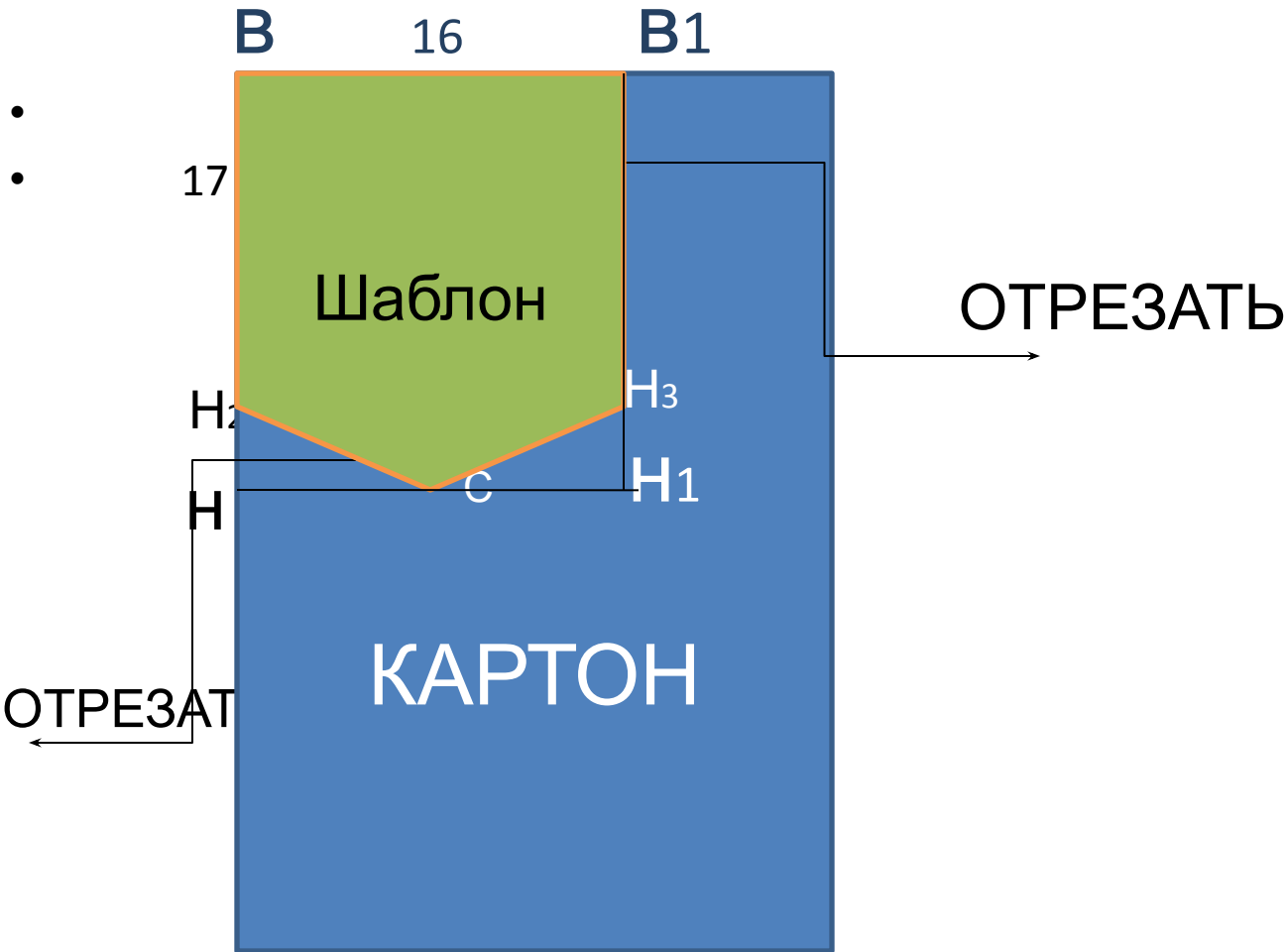
2_{CM}

14_{CM}

5_{CM}

3_{CM}

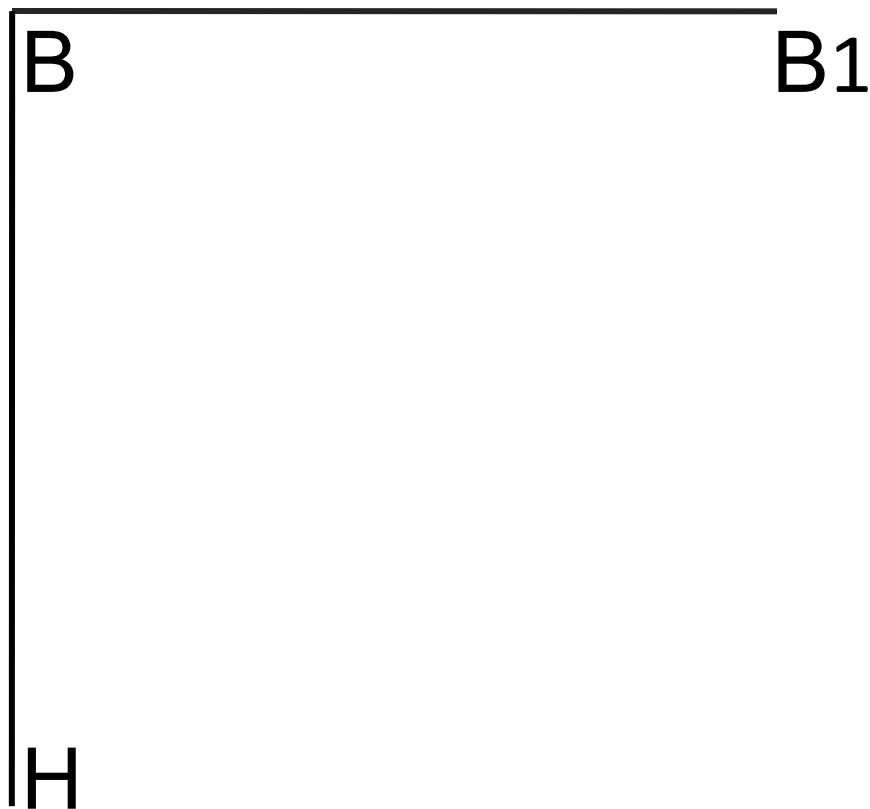
- Построение чертежа ШАБЛОНА
- ФИГУРНОГО КАРМАНА.



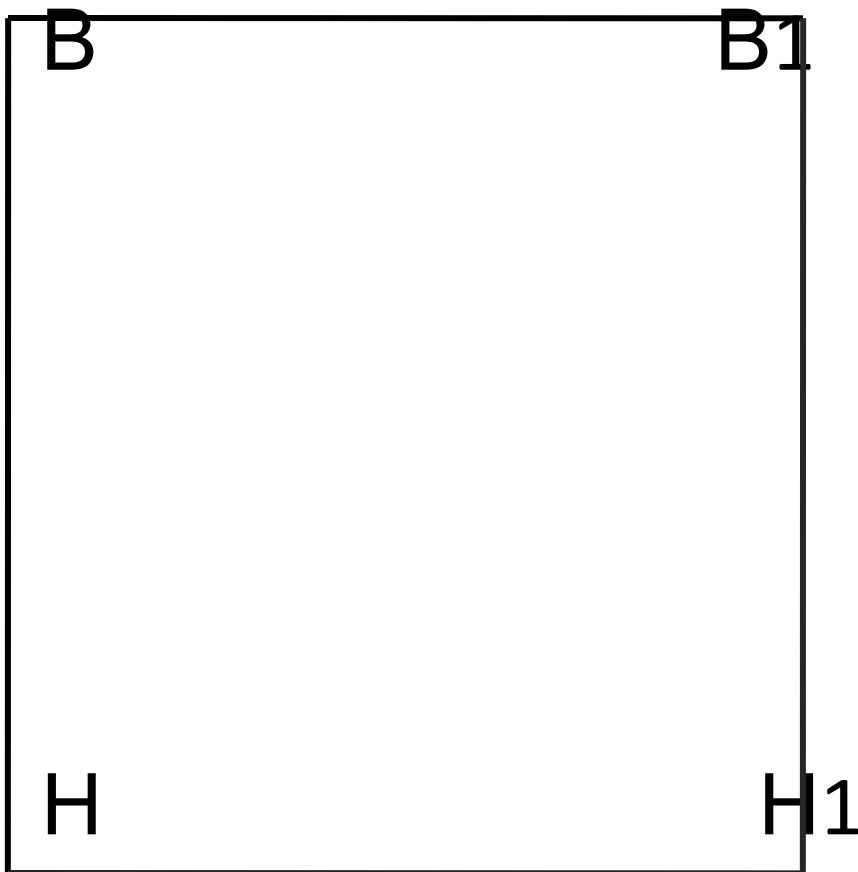
Построение чертежа шаблона фигурного кармана.

- Поставить в левом верхнем углу т.В. Отложить вправо 16 см, поставить т.В1 (это будет верхний срез кармана, поэтому точки В и В1).
- От т.В вниз отложить 17 см, поставить точку Н, достроить прямоугольник ВВ1НН1. (?) Сколько см составляет сторона прямоугольника В1Н1 и ВВ1.
- Разделить отрезок НН1 пополам, поставить точку С (середина).
- От т. Н вверх отложить 3 см., поставить т. Н2. Отложить от т.Н1 вверх 3 см. поставить т. Н3. Соединить по прямой т.С с т.Н2 и Н3. построение шаблона кармана фигурной формы закончено. Отрезки Н2С и Н3С составляют нижний срез кармана.(?) Как вы думаете почему мы обозначили нижний срез именно такими буквами - Н и С.(Н- нижний, С- середина). Построение закончено.(Упражнение на аналогию: В –верхний, С- середина, Н -нижний)
- Переходим к вырезанию шаблона.
- Скажите какой инструмент нам понадобится для вырезания. Повторим ПБР. С ножницами с помощью теста. Будьте внимательны, обязательно прочтите задание к тесту, чтобы не ошибиться с ответом.(Упражнение на внимательность)

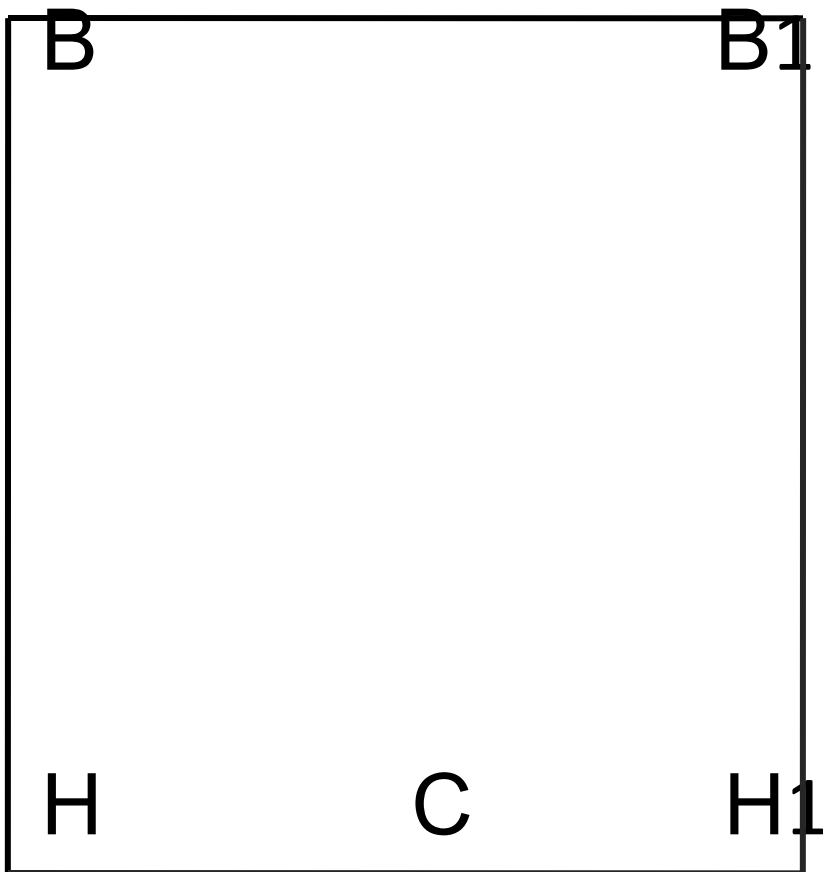
1. На картоне в правом верхнем углу поставить т.В.
 2. Отложить от т.В 16 см поставить т.В1.
- Точки В и В1 составляют верхний срез кармана.



3. ПОСТРОИТЬ ПРЯМОУГОЛЬНИК В
В1НН1

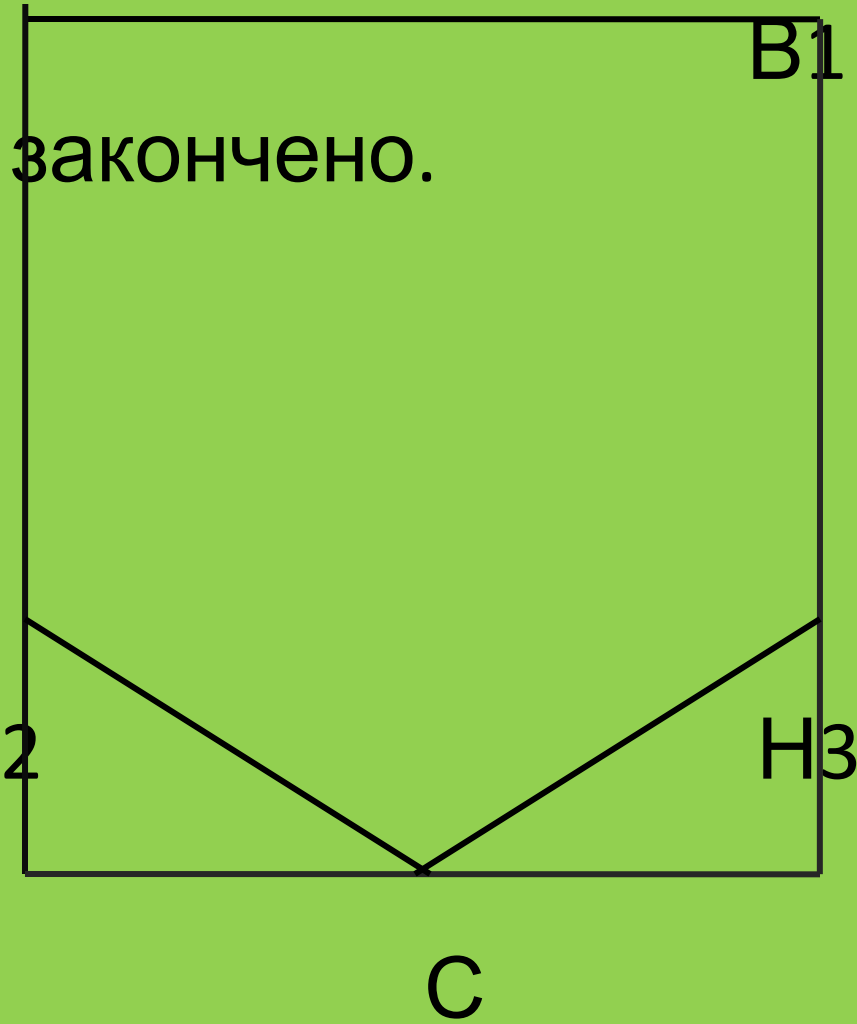


4. РАЗДЕЛИТЬ ОТРЕЗОК HH_1 ПОПОЛАМ,
ПОСТАВИТЬ ТОЧКУ C (середина).



5. ОТЛОЖИТЬ ОТ Т.Н 3см, поставить Т.Н2.
6. ОТЛОЖИТЬ ОТ Т.Н1 3 см, поставить Т.Н3.
7. СОЕДИНИТЬ Т.С с Т.Н2 и Т.Н3.

8. Построение



ПРОВЕРКА ТЕСТА ПО ПБР С НОЖНИЦАМИ.

• ВЫБЕРИ ПРАВИЛА БЕЗОПАСНОЙ РАБОТЫ С НОЖНИЦАМИ.

- *1. Не оставляй ножницы открытыми.
- * 2. Не играй с ножницами, не подноси ножницы к лицу.
3. Не втыкай иглу в одежду.
- *4. Ножницы клади кольцами к себе.
- *5. Используй ножницы по назначению.

КАК НЕОБХОДИМО ПЕРЕДАВАТЬ НОЖНИЦЫ?

- 1 В открытом виде.
- *2 Кольцами вперёд.
- 3 Лезвием вперёд.

ДОМАШНЕЕ ЗАДАНИЕ

- СКОЛЬКО КАРМАНОВ МОЖНО ВЫКРОИТЬ ИЗ КУСКА ТКАНИ ШИРИНОЙ 90 СМ., ДЛИНОЙ 20 СМ , ЕСЛИ ФОРМА КАРМАНА ПРЯМОУГОЛЬНАЯ , А РАЗМЕР – ШИРИНА 17 СМ., ДЛИНА 18 СМ.

РАСКЛАДКА НА ТКАНИ

ПРАВИЛЬНО

НЕПРАВИЛЬНО

