



Добрый день



Решите ребус

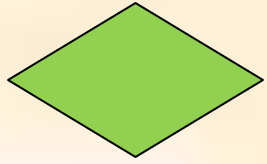


ь


щ

щ






Решение задач по теме: «Площади фигур».




Графический диктант



да

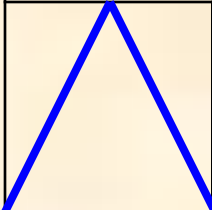
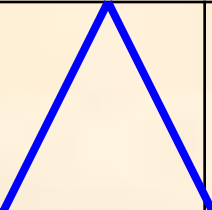
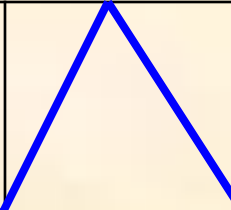


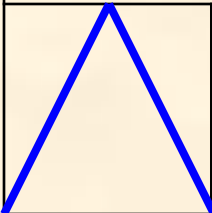
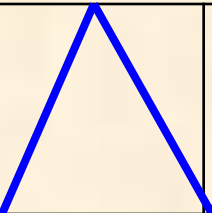
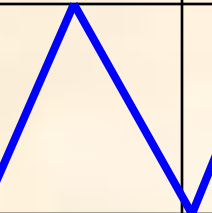
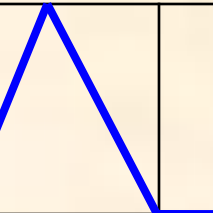
нет



Самопроверка

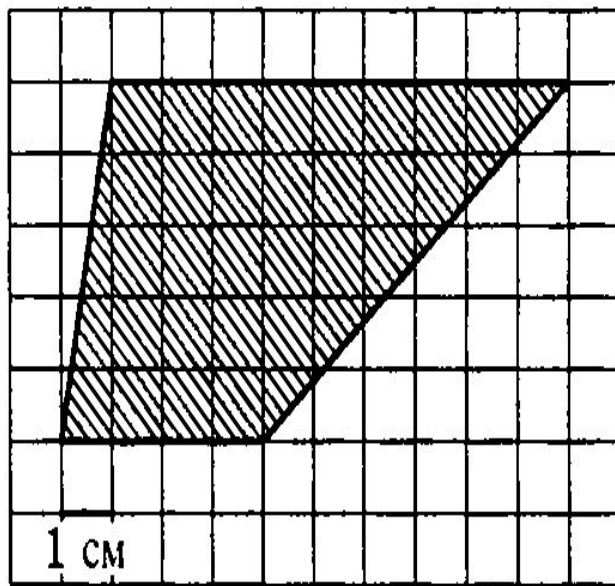


						Вариант 1
						


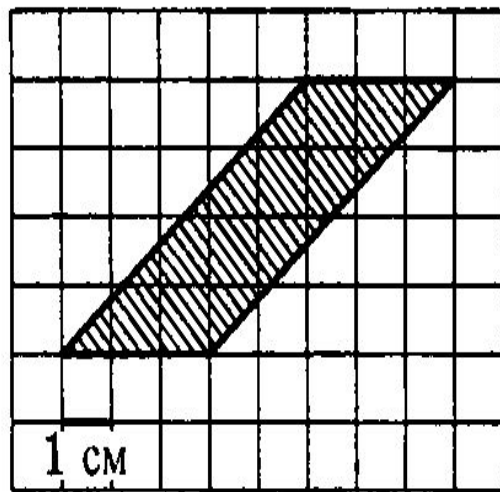
						Вариант 2
						



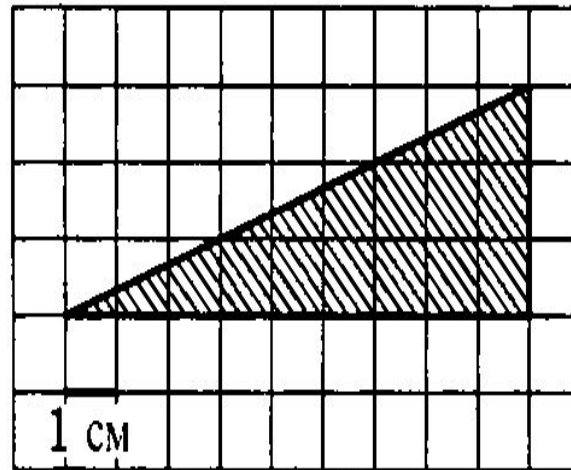
2187. На клетчатой бумаге с клетками размером $1\text{ см} \times 1\text{ см}$ изображена трапеция (см. рисунок). Найдите ее площадь в квадратных сантиметрах.



2194. На клетчатой бумаге с клетками размером $1\text{ см} \times 1\text{ см}$ изображён параллелограмм (см. рисунок). Найдите его площадь в квадратных сантиметрах.

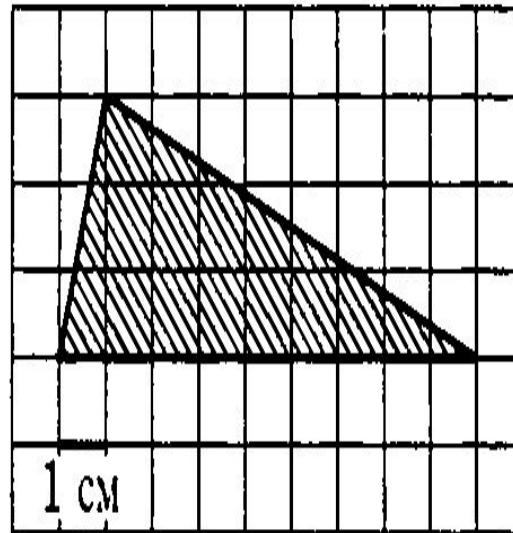


2185. На клетчатой бумаге с клетками размером $1\text{ см} \times 1\text{ см}$ изображен треугольник (см. рисунок). Найдите его площадь в квадратных сантиметрах.

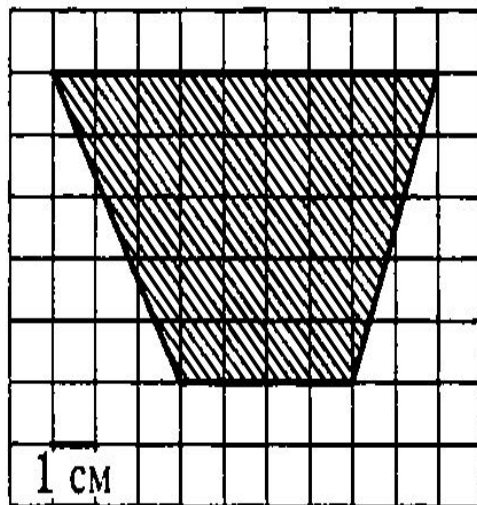




2183. На клетчатой бумаге с клетками размером $1\text{ см} \times 1\text{ см}$ изображен треугольник (см. рисунок). Найдите его площадь в квадратных сантиметрах.



2189. На клетчатой бумаге с клетками размером $1\text{ см} \times 1\text{ см}$ изображена трапеция (см. рисунок). Найдите ее площадь в квадратных сантиметрах.



Отдохнём



Проект «Делаем ремонт»



- Рассчитать нужное количество плитки для покрытия пола в классе и необходимую для этого сумму денег, если цена одной плитки размером $0,3\text{ м} \times 0,3\text{ м}$ равна 32 руб.
- Рассчитать нужное количество краски для покраски 6 столов в классе и необходимую для этого сумму денег, если на 1 кв.м. требуется 150 г краски по цене 95 руб. за 1 кг.
- Рассчитать нужное количество обоев для покрытия стен в классе и необходимую для этого сумму денег, если 1 рулон длиной 10 м и шириной 50 см стоит 105 руб.





	Площадь	Кол-во товара	Цена за ед.	Сумма
Бригада 1				



Отчёт

	Площадь	Кол-во товара	Цена за ед.	Сумма
Бригада 1	61,776	687	32	21984
Бригада 2	3,637872	600	95	380
Бригада 3	208402	5	105	525



Домашнее задание



- Одинаковое ли количество плитки, размером 60 см на 60 см потребуется для укладки пола площадью 20 кв.метров, если в одном случае пол имеет форму прямоугольника, а в другом случае - трапеция.



Определим уровень удовлетворённости



- Домашнее задание
- Теоретический опрос
- Задачи по готовым чертежам
- Практическая часть
- Домашнее задание
- Моё настроение после урока



Желаю всем
хорошего дня

