

# Тест.

# Задачи. 1 класс.

Пуск.

Работа Ревякиной Л.Н  
МОУ СОШ№71. П.Кедровый  
Красноярского края.

# Результат теста



Верно: 15

Ошибки: 0

Отметка: 5

Время: 5  
мин. 34 сек.

Выбери правильный ответ.

1. На одной грядке  
выросло 6 тыкв, а на  
другой на 4 тыквы больше.  
Сколько тыкв выросло на  
другой грядке?




8

10

9

**Выбери правильный ответ.**

2. В зоомагазине в одной клетке сидит 4 попугая, в другой столько же. Сколько попугаев всего в зоомагазине?



6

4

8

Выбери правильный ответ.



3. Зайчишка собирала клубнику. Она уже положила в корзину 5 ягодок, да на грядке осталось ещё 3 ягодки. Сколько ягодок будет у Зайчишки?

10

9

8

**Выбери правильный ответ.**

4.Сегодня Толе столько лет, сколько горит свечей на его торте.

Его брат на год младше. Сколько лет брату?



5

6

7



**Выбери правильный ответ.**

5. Белочка собрала 9 грибов. А ёжик 5 грибов.  
На сколько грибов больше собрала белочка,  
чем ёжик?




6

4

8

Выбери правильный ответ.

6. На озере плавали 10 утят. Один утёнок спрятался в камыши. Сколько утят найдёт мама утка?



8

9

11



**Выбери правильный ответ.**

7. Света нарисовала 10 цветков. 3 цветка она уже раскрасила. Сколько цветов не раскрасила Света?



Выбери правильный ответ.

8. В одной семье 2 ребёнка, а в другой на 3 ребёнка больше. Сколько детей в другой семье?





5

4

3

Выбери правильный ответ.

9. На арене цирка выступали 7 бегемотов, а слонов на 2 больше. Сколько слонов выступали в цирке?



9

8

5

Выбери правильный ответ.

10. Пете надо подточить 8 карандашей. 2  
карандаша он уже подточил. Сколько  
карандашей еще надо подточить Пете?



4

6

5

Выбери правильный ответ.

11. На 1 ветке сидело 7 воробьёв, а на другой - 3 воробья. На сколько воробьёв меньше сидело на второй ветке, чем на первой?



4

5

3



Выбери правильный ответ.

12. В корзине лежало 3  
зелёных и 5 красных яблок.  
Сколько всего яблок лежало в  
корзине?





6

7

8

**Выбери правильный ответ.**

13. Серёже на День рождения подарили 2 диска, 3 книги и 1 фотоаппарат. Сколько подарков получил Серёжа на День рождения?



6

5

4

Выбери правильный ответ.

14. На одной ёлке висело 5 шариков, а на другой на 4 шарика больше. Сколько шариков висело на другой ёлке?





7

8

9

Выбери правильный ответ.

15. Маша нарисовала 9 кукол, а Оля 3 куклы. На сколько кукол больше нарисовала Маша, чем Оля?



6

7

4