


---



*Математический  
диктант («Да/нет»)*

*Составила: Титова Г. С.*

---



*1) Произведение чисел 8 и 7  
равно 54.*

---

---



2) Периметр квадрата со стороной 5 см

2) Периметр квадрата со стороной 5 см равен 25 см.

---



---

*3) При делении остаток  
всегда должен быть  
больше делителя.*

---




*4) Частное от деления  
чисел 75 и 25 равно 3.*




*5) Если число 19 увеличить в 5 раз, то получится 90.*

---



*6) Этот треугольник  
является равносторонним.*





7) *Вера сделала 13 букетов по 3 тюльпана в каждом. Значит Вере понадобилось 39 тюльпанов.*

---





8) *9 дм больше 1 метра*

---



9) Зубная паста стоила 56 рублей. Во время распродажи её цена снизилась на 10 рублей. Значит 100 рублей хватит, чтобы купить 2 пасты во время распродажи.



*10) Площадь прямоугольника со сторонами 4см и 7 см равна  $28 \text{ см}^2$ .*



---

# Проверь себя!

1) *нет*

6) *да*

2) *нет*

7) *да*

3) *нет*

8) *нет*

4) *да*

9) *да*

5) *нет*

10) *да*

---



---

# *Оцени свою работу.*

*«5» – без ошибок*

*«4» – 1 – 2 ошибки*

*«3» – 3 – 4 ошибки*

*«2» – 5 и более ошибок*

---