


Итоговый тест по окружающему миру 3 класс

*ЧИЖОВА И.В.
МБОУ ГИМНАЗИЯ
Г. УЗЛОВАЯ
ТУЛЬСКОЙ ОБЛАСТИ*

Начать тест



Результат теста

Верно: 0

Ошибки: 0

Отметка: 0

Время: 0 мин. 25 сек.



ещё


В каких веществах промежутки между частицами меньше?

1. в твёрдых
2. в жидких
3. в газообразных

1

2

3




Отметь временные рамки Великой Отечественной войны.

1. 1812 год
2. 1920-1930 годы
3. 1941-1945 годы

1


2

3



Отметь ряд, в котором перечислены только природные тела.

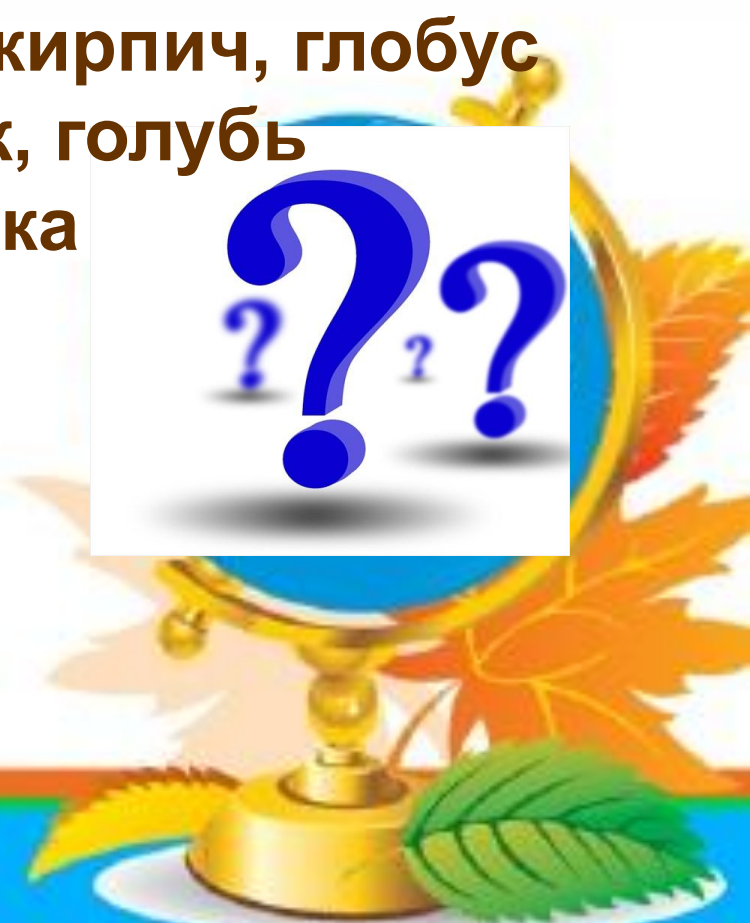
1. лист дерева, лист бумаги, кирпич, глобус
2. хвоинка, еловая шишка, ёж, голубь
3. учебник, Земля, парта, доска



1

2

3



Плоды и листья какого дерева изображены на рисунке?



1. липы
2. каштана
3. грецкого ореха



1

2

3


Какая дата является Днём Государственного флага Российской Федерации?

1. 22 августа
2. 12 июня
3. 4 ноября

1

2

3



Какой из знаков относится к разрешающим?




1.



2.



3.




Что из перечисленного являлось основным занятием восточных славян?

1. земледелие
2. охота
3. рыболовство


1

2

3




На каком рисунке изображён флаг Российской Федерации?




1.



3.



2.



1

2

3

Какой город был столицей Древней Руси?

1. Новгород
2. Киев
3. Москва



1

2

3



Как князя Владимира, крестителя Руси, называют в былинах?

1. Владимир
Мономах
2. Илья Муромец
3. Красно Солнышко



1

2

3