

**Акмурзина Ольга Григорьевна,  
учитель начальных классов  
МКОУ «СОШ п. Армань»**

**МАТЕМАТИКА**

**2 КЛАСС (I четверть, урок №23)**

**Тема урока:**

**«Закрепление изученного.**

**Решение задач»**




**Учебник: Моро М.И., Бантова М.А.,**

**Бельтюкова Г.В. и др.**

**«Математика Ч.1»,**

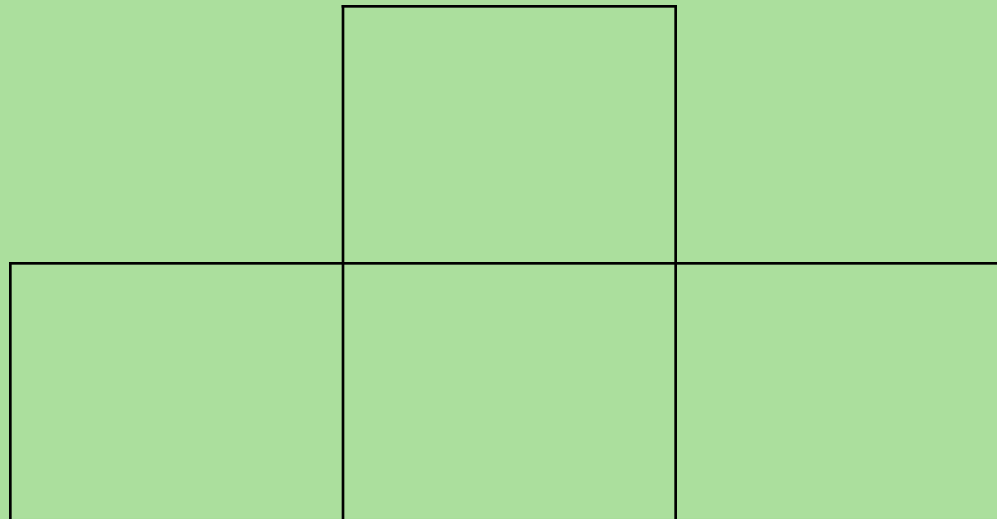
**М: Просвещение, 2011-2013**





Задание:

переложите в каждом примере стручок так,  
чтобы пример оказался правильным



Задание:  
сколько на рисунке четырёхугольников?

# Задание: составьте задачу по рисунку



10 руб.



60 руб.



## Игра «Магические квадраты»

<b>6</b>	<b>5</b>	<b>4</b>
	<b>8</b>	<b>4</b>

<b>9</b>	<b>6</b>	<b>3</b>
	<b>3</b>	

# Интернет-ресурсы:



www.themegallery.com

- [https://encrypted-tbn2.gstatic.com/images?q=tbn:ANd9GcTerIkByZzcDfoz\\_vgFFK7ur9S06niSw7Rc3X65AwnbuGU-55sh](https://encrypted-tbn2.gstatic.com/images?q=tbn:ANd9GcTerIkByZzcDfoz_vgFFK7ur9S06niSw7Rc3X65AwnbuGU-55sh),
- [https://encrypted-tbn0.gstatic.com/images?q=tbn:ANd9GcQzKRL2OitWhdLYKZ8\\_7pA1nWmrAWLUGDAbBgrSJpB8TUHnXP4Dc7KNvZ8](https://encrypted-tbn0.gstatic.com/images?q=tbn:ANd9GcQzKRL2OitWhdLYKZ8_7pA1nWmrAWLUGDAbBgrSJpB8TUHnXP4Dc7KNvZ8)
- [https://www.google.ru/search?hl=ru&  
http://usiter.com/uploads/20120125/penal+penal+dlya+ruchek+penal+shkolnij+95146019053.jpg](https://www.google.ru/search?hl=ru&http://usiter.com/uploads/20120125/penal+penal+dlya+ruchek+penal+shkolnij+95146019053.jpg)