

Муниципальное бюджетное образовательное
учреждение средняя общеобразовательная
школа №4

Математическая

регата

Игра для равнодушных к
математике

Автор Фролкина Светлана Григорьевна
учитель математики

Ногинск 2013



Тур I

Разминка

Вопрос 1

Петух, стоя на одной ноге
весит 5кг. Сколько он будет
весить, стоя на

двух

ногах?

Ответ: 5

кг.

Вопрос 2

На руках *10* пальцев. Сколько
пальцев на *10* руках?

Ответ: *50*
пальцев.

Вопрос 3

У родителей 6 сыновей.
Каждый имеет сестру.
Сколько всего детей в
семье?

Ответ: 7 детей.

Вопрос 4

Тройка лошадей пробежала путь 30км. Сколько пробежала каждая лошадь?

Ответ:

30км .

Вопрос 5

Какое число приказывает?

Ответ: 3

Вопрос 6

Сколько единиц в дюжине?

Ответ: *12.*

Вопрос 7

Сколько разных букв в
названии нашей страны?

Ответ: 5

Вопрос 8

Когда сутки короче: зимой
или летом?

Ответ:
Одинаковы.

Вопрос 9

Катались 2 сына на трёхколёсных велосипедах, и их отец – на двухколёсном велосипеде. Сколько всего было колёс?

Ответ: 8.

Вопрос 10

Дед, бабка, внучка, Жучка,
кошка, мышка тянули-
тянули и вытянули репку.
Сколько глаз смотрело на
репку?

Ответ: 12.

Вопрос 11

Какие два числа, если их перемножить, дают такой же результат, что и при их сложении?

Ответ: 2 и 2.

Вопрос 12

Из-под забора видно 6 пар лошадиных ног. Сколько ЭТИХ ЖИВОТНЫХ во дворе?

Ответ: 3.

Вопрос 13

К однозначному числу
приписали такую же цифру.
Во сколько раз увеличилось
число?

Ответ: в 11.

Вопрос 14

Чтобы прийти Ивану Васильевичу до работы требуется 1,5 часа. С работы он возвращается по той же дороге за 90 минут. Чем вы объясните такую разницу?

Ответ: нет
разницы.

Вопрос 15

Сколько лет
двадцатилетнему человеку
было 4 года назад?

Ответ: 16.

Вопрос 16

Каким по счёту является “Ъ” в названии последнего месяца осени?

Ответ: 6.

Вопрос 17

Сколько рогов у трех коров?

Ответ: 6.

Вопрос 18

Сколько музыкантов в
квартете?

Ответ: 4.

Вопрос 19

Наименьшее двузначное
число?

Ответ: 10.

Вопрос 20

Чему равен пуд?

Ответ: 16 кг.



Подводим итоги.

Тур *II*

Слушать

ВНИМАТЕЛЬНО!

Правильные ответы:

1. 5 остановок
2. 5 гостей
3. 12 стрекоз



Подводим итоги. Меняем членов


Тур *III*

**Конкурс
капитанов**



Сосчитай за две

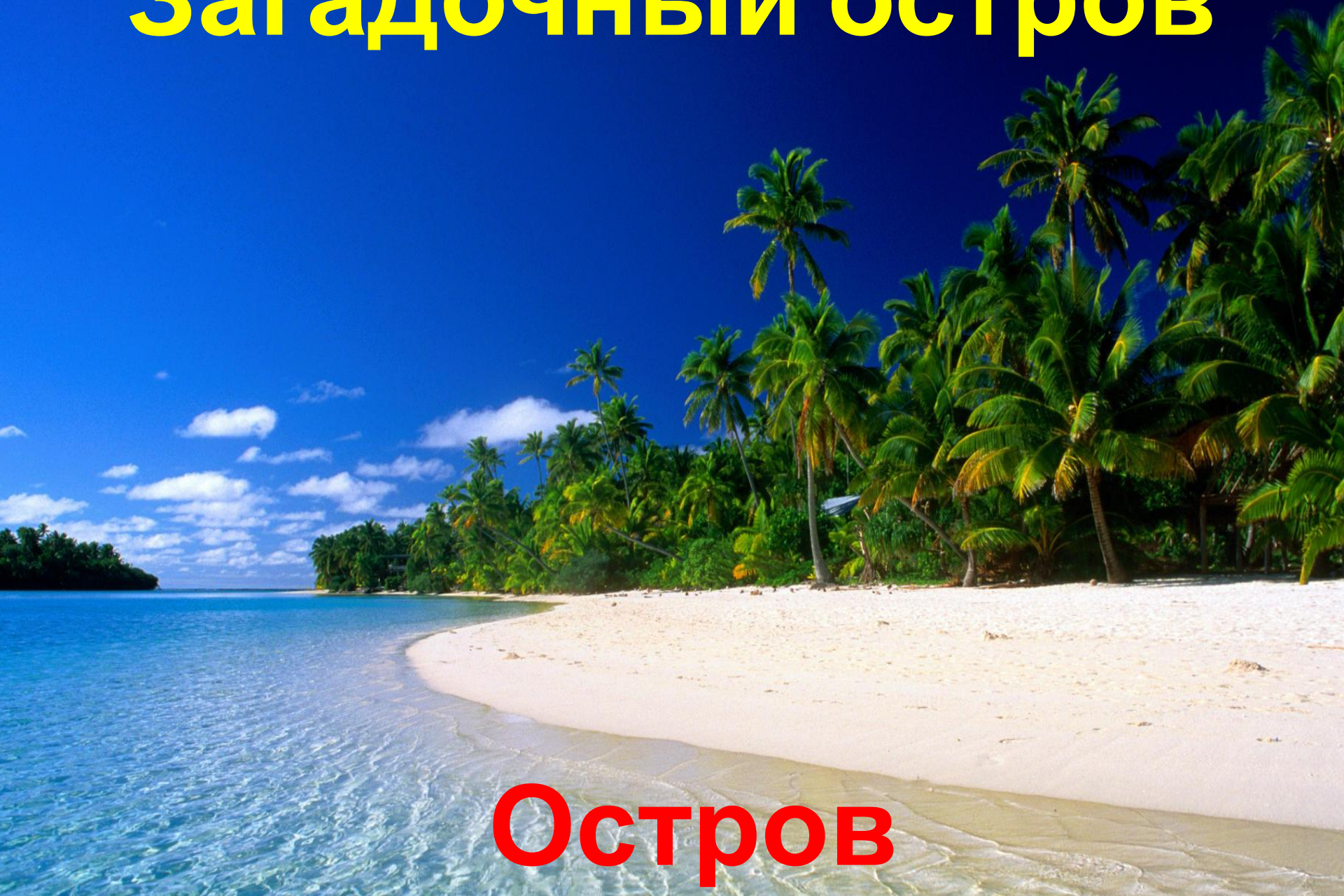
МИНУТЫ





Поводим итоги. Меняем членов

Загадочный остров



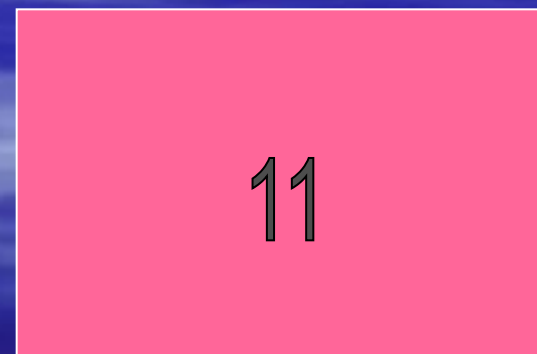


Остров

Тур *IV*

Внимание,

внимание!!!

Найти сумму чисел:



Вопрос 1

Какое число записано в
квадрате?



6


Вопрос 2

Каким цветом нарисован круг?



Вопрос 3

В какой фигуре записано число 9?



Вопрос 4

Какая фигура в правом
нижнем углу?

11



Поводим итоги. Меняем членов

Тур *v*

Литературная
пауза

Правильный ответ:

Одеяло убежало, улетела простыня,
И подушка, как лягушка, ускакала от меня.

Я – за свечку, свечка – в печку,

Я – за книжку, та – бежать

И вприпрыжку под кровать.

Я хочу напиться чаю, к самовару
подбегаю,

Но пузатый от меня убежал, как от огня!

Что такое? Что случилось? Отчего же всё
кругом

Завертелось, закружилось и помчалось
колесом?

Утюги за сапогами, сапоги за пирогами,

Пироги за утюгами, кочерга за кушаком.

Всё вертится, всё кружится и несётся

Итого: 11
предметов



Поводим итоги. Меняем членов

Тур VI

Рыбалка



kaifolog.ru
101010.2011



Поводим итоги. Меняем членов

Неожиданная находка



Тур *VII*

Расшифруй
послание


Расшифруй послание:

е	д	д	и	й
г	а	у	п	н
е	н	к	й	т
е	а	в	д	р
о	з	р	е	а

9	20	13	2	17
5	16	22	10	8
12	1	3	25	18
19	7	15	6	21
4	23	11	24	14

Финиш

От всей
души
поздравля
ем
победител
ей!



Использованные источники:

- <http://www.nastol.com.ua/download/7354/2560x1440>
- <http://nibler.ru/uploads/users/2012-03-27/картинки> *http://nibler.ru/uploads/users/2012-03-27/картинки*
- <http://galilomakina.narod.ru/photoalbum9.html>
- <http://festival.1september.ru/articles/527023/>