




# В мире МАТЕМАТИКИ

5 класс



# РАЗМИНКА



1. Какой ключ  
не отпирает  
замок?



2. Какую траву  
и слепой  
узнает?



3. Из какой  
посуды  
не едят?



4. *СКОЛЬКО ЯИЦ  
МОЖНО СЪЕСТЬ  
НАТОЩАК?*



5. Петух, стоя на  
одной ноге  
весит 5 кг.

Сколько он будет  
весить, стоя на  
двух ногах?




6. На руках 10 пальцев.

Сколько пальцев

на 10 руках?







7. У родителей 6 сыновей.

Каждый имеет сестру.

Сколько детей в семье?



8. *Тройка лошадей  
пробежала путь 30 км.  
Сколько пробежала  
каждая лошадь?*



9. Какое число  
приказывает?



10. Сколько десятков  
в дюжине?




11. Сколько разных  
букв в названии  
нашей страны?



12. Когда сутки  
короче:  
зимой или летом?





13. Катались 2 сына  
на трехколесных  
велосипедах,  
и их отец -  
на двухколесном  
велосипеде.

Сколько всего было  
колес?



14. Сколько месяцев  
в году  
имеют 28 дней?





15. Какие два числа,  
если их перемножить,  
дают такой же  
результат,  
что и при сложении?



16. Из-под забора  
видно 6 пар лошадиных ног.  
Сколько этих животных  
во дворе?



17. К однозначному числу  
приписали такую же цифру.  
Во сколько раз  
увеличилось число?



18. Сколько лет  
двадцатилетнему  
человеку было  
4 года назад?



19. Каким по счету  
является "Ь" в названии  
последнего месяца  
осени?



20. Наименьшее  
двузначное  
число.



РЕШАЕМ  
ВМЕСТЕ





$$(1218:3 + 3785 \cdot 68) \cdot (371 + 23 \cdot 78 - 2165)$$





Конкурс

болельщиков



5A

*Сколько горошин  
может войти в  
обыкновенный  
стакан?*



5A

Профессор лег спать  
в 8 часов вечера и  
завел будильник на 9  
часов утра. Сколько  
проспит профессор?



56

Мальчик ехал на велосипеде в город. Ему повстречалась машина, в которой сидело 6 колхозников. Каждый вез по одной курице и по паре валенок. Сколько живых существ ехало в город?



Какие часы  
показывают верное  
время только 2 раза  
в сутки?



5В



Горит 7 свечей, из  
них 4 потушили.  
Сколько свечей  
осталось?



5В

Если дождь идет в  
12 часов ночи, то  
может быть через 72  
часа солнечная  
погода?



5Г

**В каком случае  
мы смотрим на  
число 3, а  
говорим 15?**





# 5Г

Самолет покрывает  
расстояние от города А  
до города В за 1 час 20  
минут. Однако,  
обратный перелет он  
совершает за 80 минут.  
Как это можно  
объяснить?



Чему равно произведение  
всех цифр?



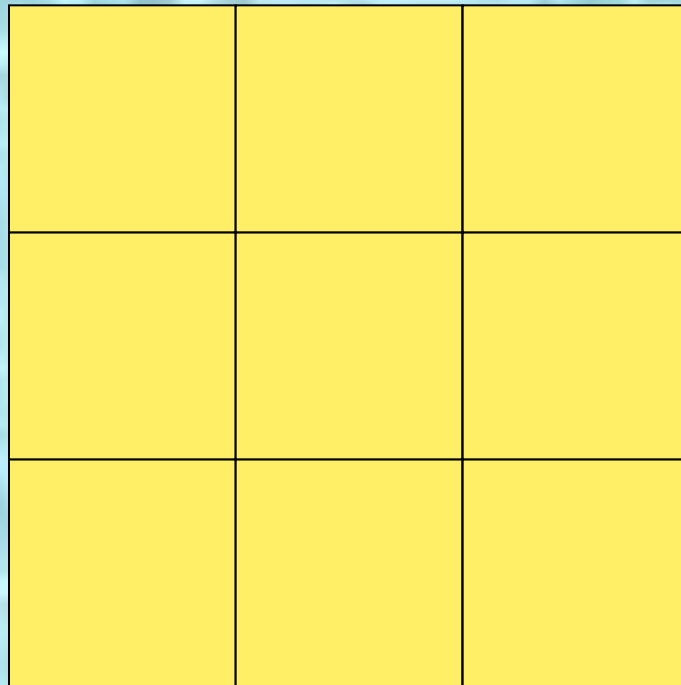
Какие три числа, если их сложить дадут тот же результат, что и при умножении?



Что легче килограмм  
пуха или килограмм  
гвоздей?



**Сколько квадратов на  
рисунке?**



Что идет не двигаясь  
с места?



**Сумма длин всех сторон  
многоугольника.**



*Линия, не имеющая ни  
начала, ни конца.*





Есть у растения и у  
уравнения.












*Треугольный платок.*





Внимательность





Конкурс

капитанов



Весёлый  
счёт



$$8 + 4 =$$



$$51 - 8 =$$







$$93 : 3 =$$



$$14 \cdot 3 =$$





$$400 - 79 =$$





$$1235 - 1 =$$

