

19











Выполни задание

Найди места в каждом автобусе для 7 девочек. Дополни записи решений.



$$8 + 7 = \square \square$$



$$9 + 7 = \square \square$$




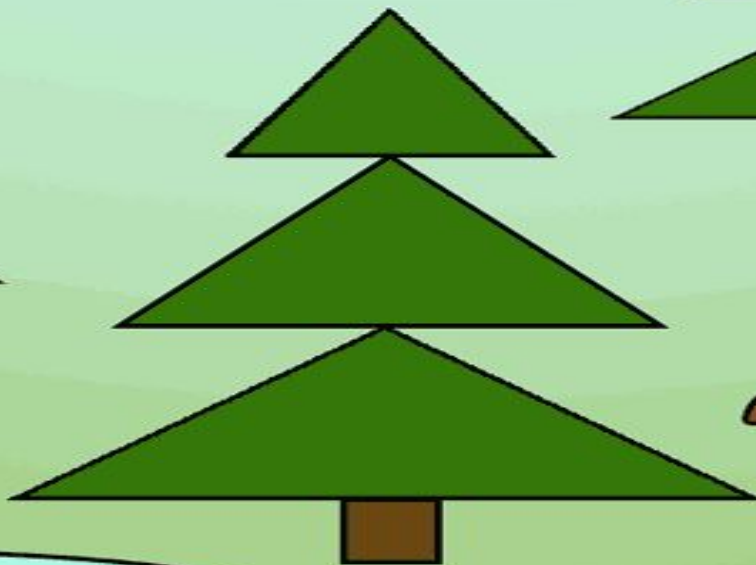

$$7 + 7 = \square \square$$



$9 + 2 = 11$	$8 + 3 = 11$	$7 + 4 = 11$
$9 + 3 = 12$	$8 + 4 = 12$	$7 + 5 = 12$
$9 + 4 = 13$	$8 + 5 = 13$	$7 + 6 = 13$
$9 + 5 = 14$	$8 + 6 = 14$	$7 + 7 = 14$
$9 + 6 = 15$	$8 + 7 = 15$	
$9 + 7 = 16$		


















Соедини выражения с равными суммами

$$7 + ? = 15$$

$$7 + ? = 16$$

$$? + 7 = 12$$

$$? + 7 = 13$$



$$9 + 7$$

$$8 + 7$$

$$7 + 6$$

$$7 + 5$$



