



Тема:


Вычитание вида  $12 - \square$



Математика - 1

Презентацию урока выполнила  
Пищаскина М.М., 1 а класс

МОУ «ТЦШ №1»








Под кустами грибы сохли,  
Ну, а в дождь, конечно, мокли.  
10 желтеньких опят,  
Да 2 рыжие лисички-  
Очень милые сестрички.  
2 груздя и боровик.  
Вы, ребята, не молчите.  
Сколько всех грибов? Скажите.


$$10+2+2+1=15$$



Сидят рыбаки, стерегут  
поплавки.

Рыбак Корней поймал 5 окуней.

Рыбак Евсей - 5 карасей.

А рыбак Михаил 2 сомов  
уловил.

Сколько рыб из реки натаскали  
рыбаки?

$$5+5+2=12$$





Чтобы меньше мать устала,  
Вера мыть тарелки стала.

3 тарелочки она утром вымыла одна.

Пообедавши, опять вымыла их ровно 5

Вечерком же все, что было,

Наша Верочка помыла,

Скажем прямо, 8 штук

Не минуло ее рук.

«Вот бы больше таких Верочек» - мама  
дочке говорила.

Сколько же всего тарелочек Вера за день  
перемыла?



$$3+5+8=16$$



15

12

16



# Задай пример соседу



## • 1 вариант

•  $3+9$

•  $4+8$

•  $5+7$

•  $6+6$

## • 2 вариант


•  $6+6$

•  $7+5$

•  $8+4$


•  $9+3$








# Задание 1.



12	3	4	5	0
	0	8	7	6



## Задание 2.



•  $3 = 2 + 1$

•  $4 = 2 + 2$

•  $5 = 2 + 3$

•  $6 = 2 + 4$

•  $9 = 2 + 7$

•  $8 = 2 + 6$

•  $7 = 2 + 5$



Отгадайте примеры:



$$\square + \square = 12$$

$$5+7=12$$

$$3+9=12$$

$$7+5=12$$

$$9+3=12$$

$$4+8=12$$

$$6+6=12$$

$$8+4=12$$



Солнце глянуло в  
кроватьку...

1, 2, 3, 4, 5.

Все мы делаем зарядку,  
Надо нам присесть и  
встать.


Руки вытянуть пошире,  
1, 2, 3, 4, 5.

Наклониться - 3, 4,  
И на месте поскакать.

На носок, потом на пятку.  
Все мы делаем зарядку.



# Работа по учебнику



ИТОГ

