


# Задача №1




На кухне,  
площадью 6 кв.м.  
Дедушка рассыпал  
мелочь. С каждого  
кв.м. бабушка  
собрала по 45  
копеек. Каков  
общий урожай?

## Задачка №2

- Во время сильного дождя на остановке автобуса стояли 12 человек. Подкатил автобус и забрызгал грязью пятерых. Остальные успели попрыгать в колючие кусты. Сколько исцарапанных пассажиров поедет в автобусе, если известно, что трое так и не смогли выбраться из колючих кустов.



# Задача №3




- В цирке 30 рядов. В каждом ряду 120 мест. Каждый вечер цирк полон и все зрители умирают от смеха. Сколько человек каждый вечер умирает от смеха?

# Задача №4

- Из террариума сбежали 3 гадюки, 5 кобр и 10 гюрз. Длина каждой гадюки 1 м, каждой кобры 1 м 30 см, а гюрзы 1 м 15 см. Сколько метров ядовитых змей сбежало из террариума?



# Задачка №5



- Площадь одного уха слона равна 10000 кв. см. Узнай в кв. м. площадь ушей 12 одинаковых слонов.

# Задачка № 6

- Коля мечтает о шоколадке, длина которой 2 метра, а ширина 1 метр. Толя мечтает о шоколадке такой же длины, но втрое большей площади. На сколько метров ширина шоколадки, о которой мечтает Толя, длиннее её собственной длины?



# Задачка №7

- На квадратном огороде, длина всех сторон которого 80 м, посадили собаку. Эту собаку посадили на цепь длиной в 9 м 70 см и прикрепили цепь к столбу, торчащему в самом центре огорода. Длина собаки от ошейника до передних зубов 30 см. Остались ли на огороде места, безопасные для воров?



# Задача № 8

- На прямоугольном поле брани, длина одной стороны которого 120 м, а длина другой 50 м, стоят наши и враги. Враги занимают четвертую часть площади поля брани, а наши занимают 1300 кв.м. На остальной площади поля брани пасутся козлы. По 3 козла на каждые 5 кв.м. Сколько козлов пасётся на поле брани?

Эта легкая небритость отвлекает  
внимание от сантиметра 30!!!





# Задача №9

- Площадь квадратной лужи, в которую упал Пётр Петрович 4 кв.м. Длина одной стороны этой лужи равна росту Петра Петровича в шляпе. Шляпа увеличивает рост Петра Петровича на 16 см. Узнай рост Петра Петровича.



# Задачка №10.



- Никому неизвестное число увеличилось вдвое, посмотрело на себя в зеркало и увидело там 811. Какое это было число до увеличения вдвое?