

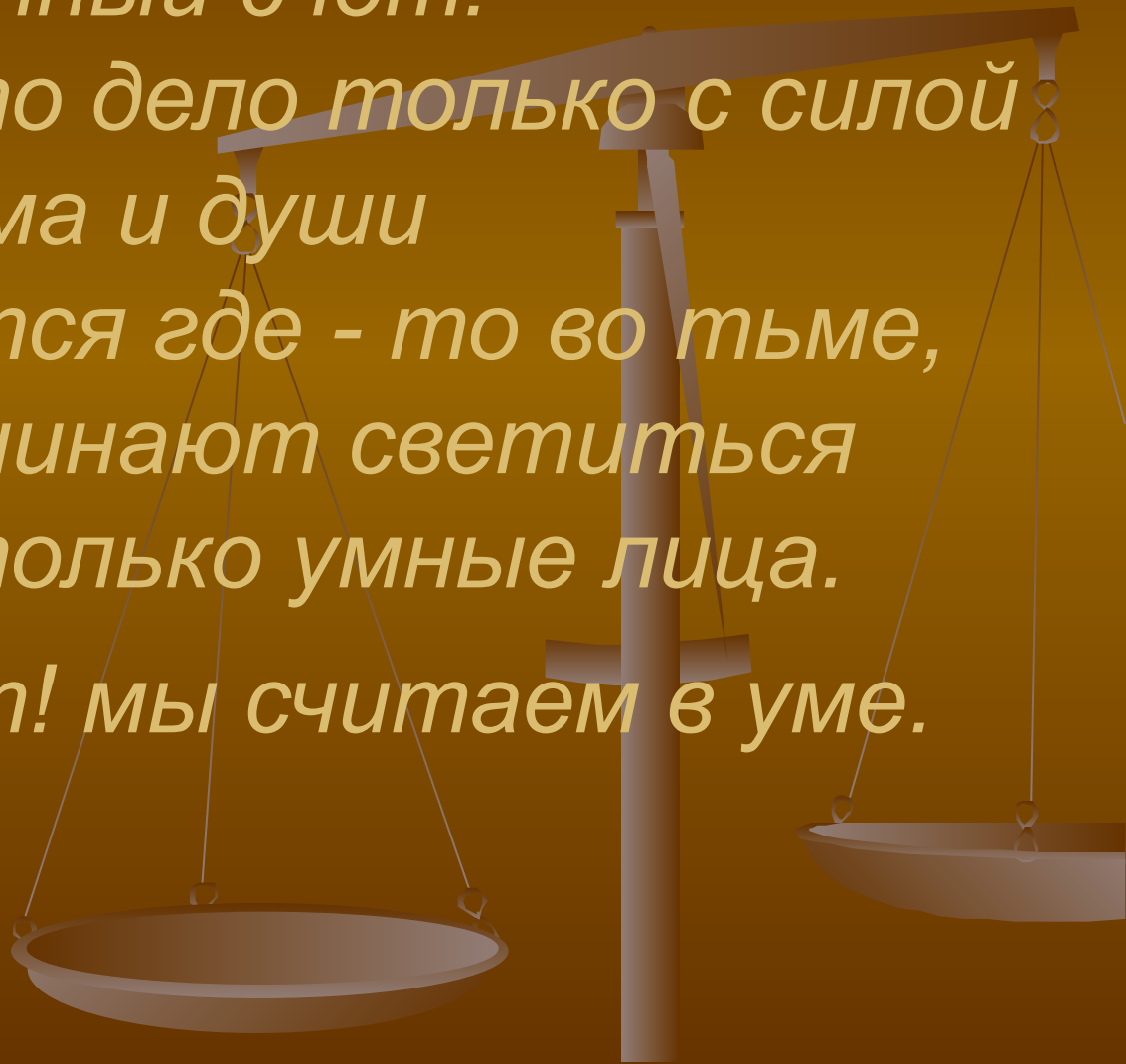
*Если хочешь строить мост,
Наблюдать движение звезд,
Управлять машиной в поле
Иль вести машину ввысь
Хорошо работай в классе,
Добросовестно трудись*

*Ни костяшек, ни ручек, ни мела -
устный счет.*

*Мы творим это дело только с силой
ума и души*

*Числа сходятся где - то во тьме,
И глаза начинают светиться
И кругом только умные лица.*

Устный счет! мы считаем в уме.



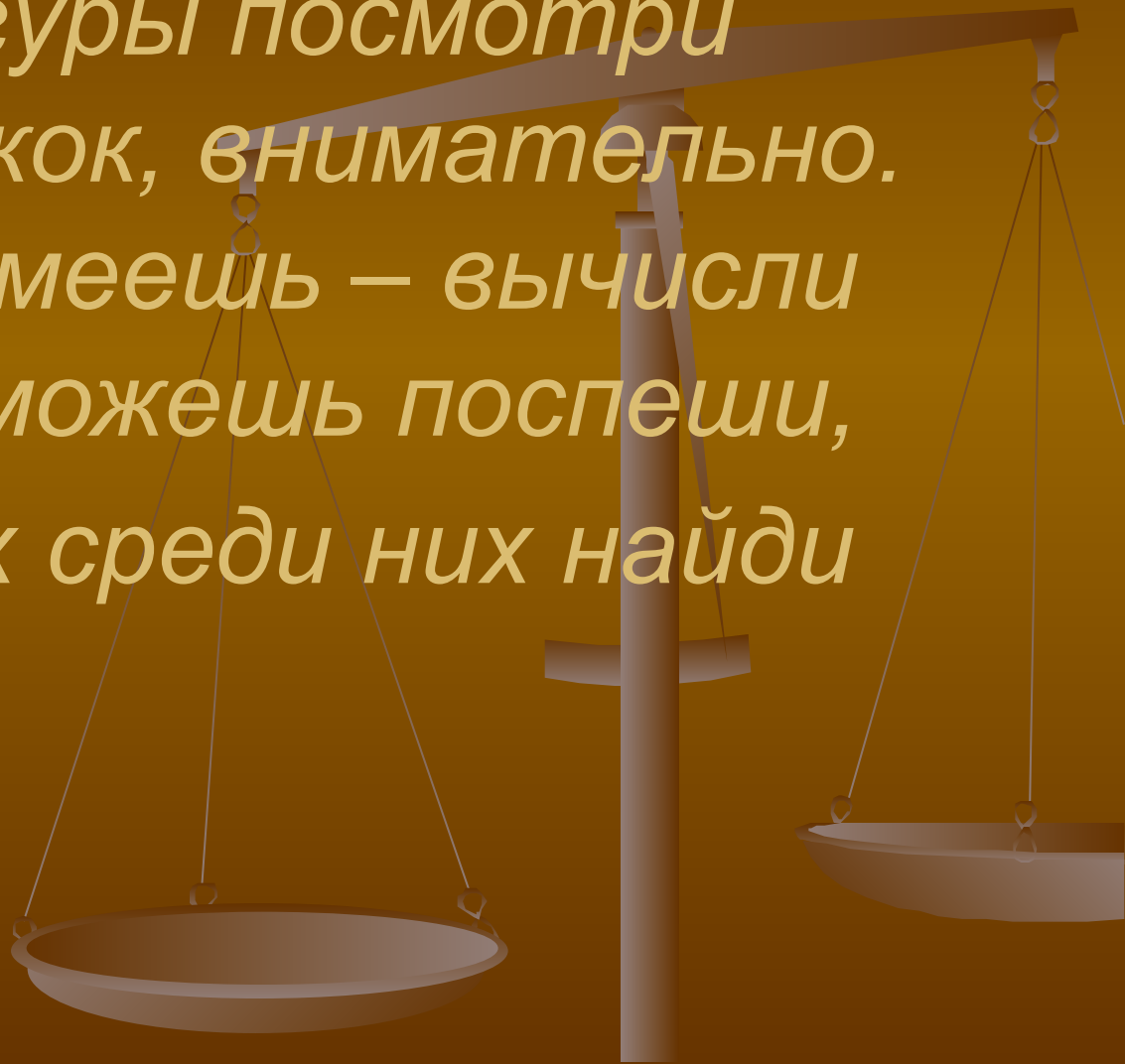
Вычислить периметр
прямоугольника если
его стороны равны:
6см и 4см?
8см и 12см?

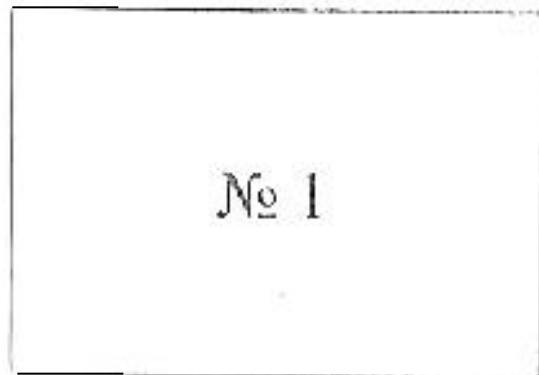


Вычислить периметр
треугольника если
стороны равны: 7см, 10см
и 15дм?



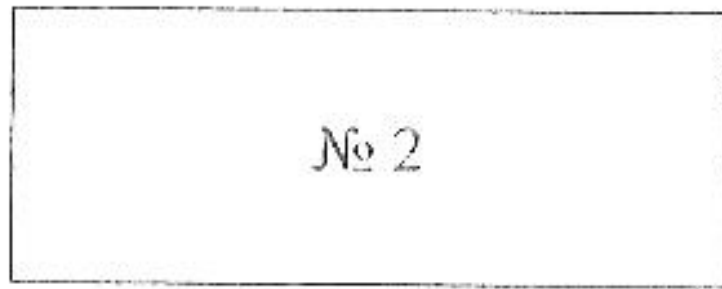
*На фигуры посмотри
Ты, дружок, внимательно.
Что сумеешь – вычисли
Если сможешь поспеши,
Равных среди них найди*






4 дм

6 дм




3 дм

8 дм



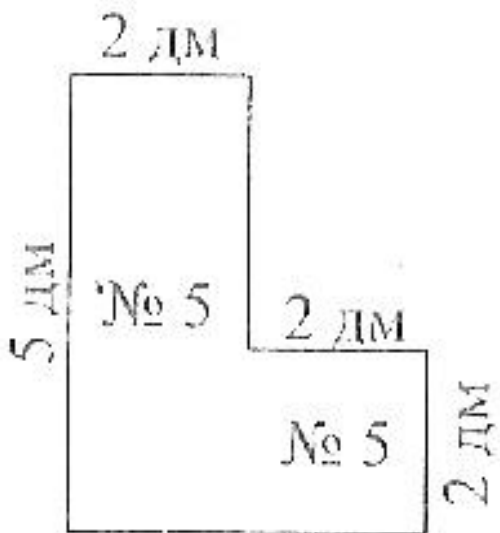
6 дм

4 дм



6 дм

6 дм



2 дм

5 дм

2 дм

2 дм



По горизонтали:

1. Сумма длин сторон геометрической фигуры.
2. Инструмент для измерения длины отрезка.
3. Правило, записанное с помощью букв.
4. Пройденный путь.
5. Арифметическое действие.

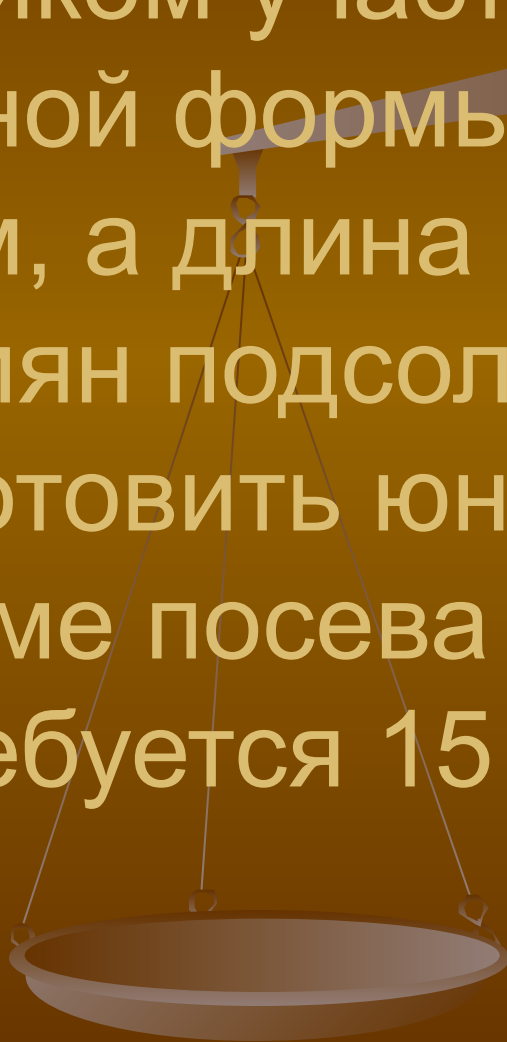
«Площадь прямоугольника»



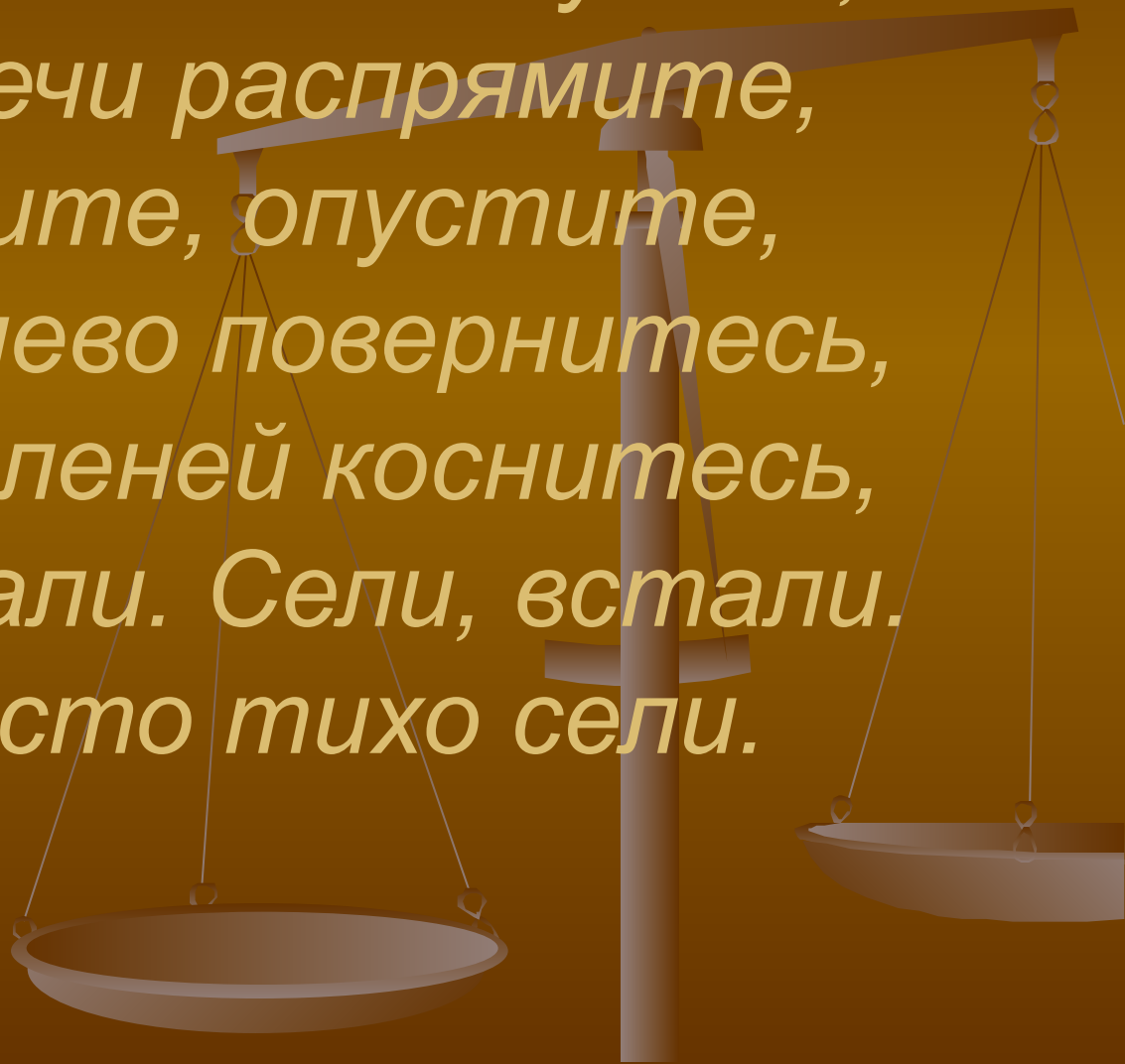
Два прямоугольника имеют равные площади. Длина первого прямоугольника 15 см, а его ширина на 8 см меньше. Длина второго прямоугольника 5 см. Найдите ширину второго прямоугольника?



Юннаты решили засеять подсолнечником участок земли прямоугольной формы. Ширина участка 50 м, а длина 80 м. Сколько семян подсолнечника должны заготовить юннаты, если по норме посева на 10000м^2 требуется 15 кг семян?



*Быстро встали, улыбнулись,
Выше - выше потянулись,
Ну-ка плечи распрямите,
Поднимите, опустите,
Вправо, влево повернитесь,
Руками коленей коснитесь,
Сели, встали. Сели, встали.
И на место тихо сели.*



Бронза состоит из 3 частей олова и 17 частей меди (по массе). Сколько олова в бронзовой детали, если масса детали 660г?



Решите уравнения:



I вариант

$$43x + 19x = 12710$$

II вариант

$$17x + 6x = 2415$$



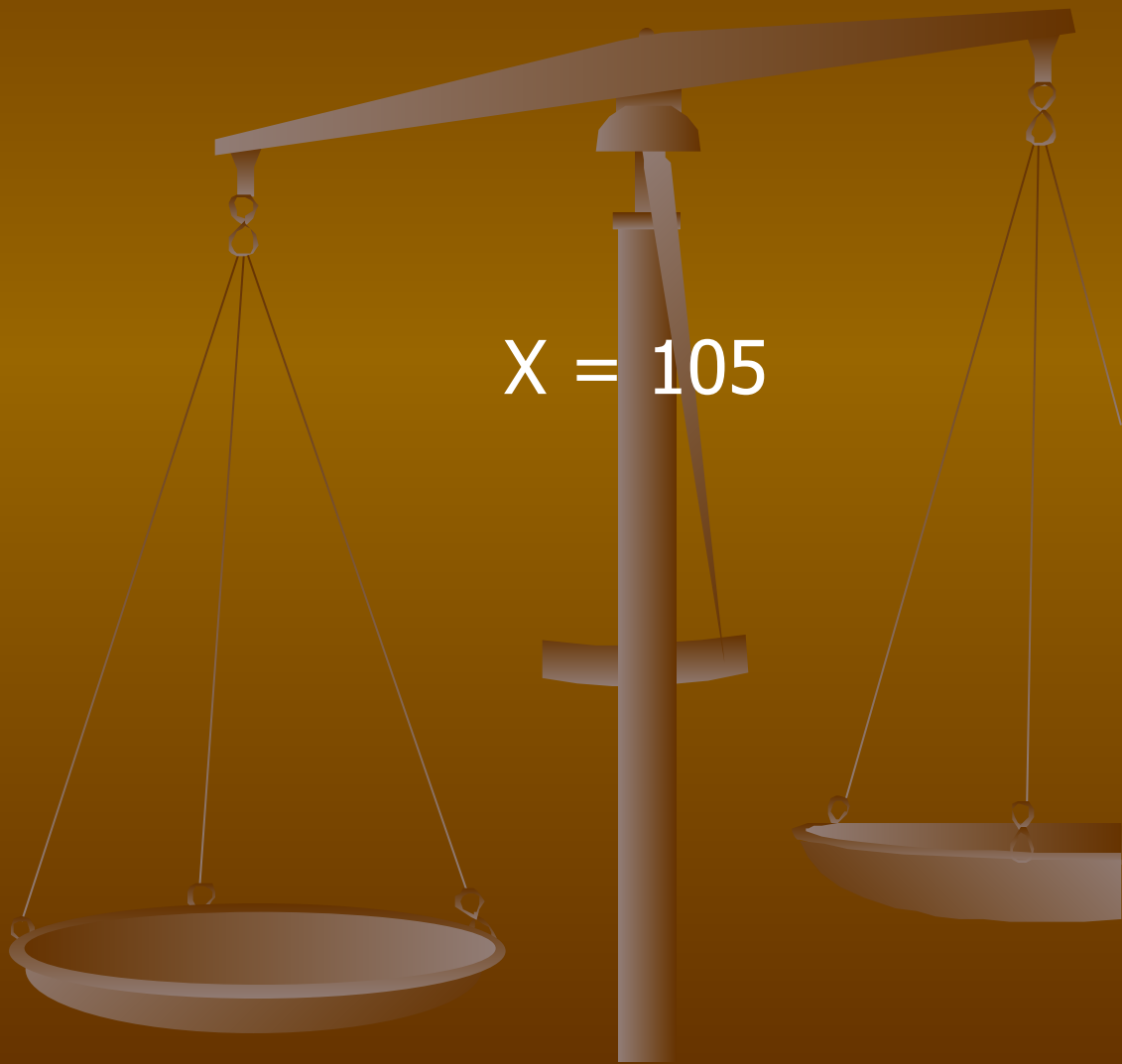
ОТВЕТЫ:

I вариант

II вариант

$$X = 205$$

$$X = 105$$



Исторические сведения о
площади прямоугольника.





- Копна
- Выть
- Соха
- Обжа
- Коробья
- Веревка
- Жеребья



- Десятина
 - Четь



Молодцы!!!



Домашнее задание

№ 739

№ 743

