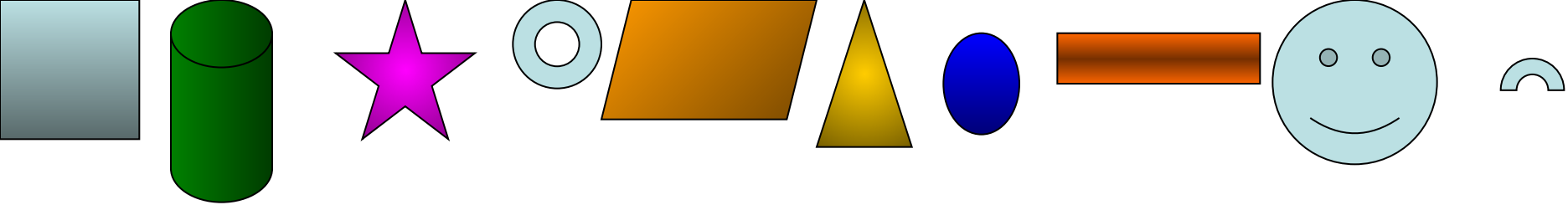




Раздели объекты по категориям, поместив их в соответствующие клетки таблицы

| Предмет | Явление | Процесс |
|---------|---------|---------|
| | | |
| | | |
| | | |



Раздели объекты по свойствам «имеет углы», «не имеет углов», поместив в соответствующие клетки таблицы

| Имеет углы | Не имеет углов |
|-------------------|-----------------------|
| | |
| | |
| | |
| | |
| | |


Запиши название свойства:



Раздели объекты по категориям, поместив их в соответствующие клетки таблицы

| Кислый | Сладкий |
|--------|---------|
| | |
| | |

Запиши название свойства:



Раздели объекты по категориям, поместив их в соответствующие клетки таблицы

| Желтый | Зеленый |
|--------|---------|
| | |
| | |

Запиши название свойства:



Назовите название свойства, характеризующего эти изображения:



Дом из кирпича




Дом из дерева

Назовите название свойства

Перед Вами рисунки воды



Назовите название свойства:



для чего предназначена кровать



для чего предназначено кресло

Назовите название свойства: